

YAZILI HOCAM İLKOKULU
4-E SINIFI TRAFİK GÜVENLİĞİ DERSİ 1. DÖNEM 1. YAZILI SINAVI

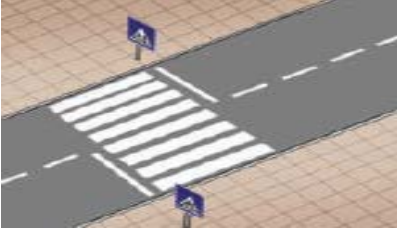
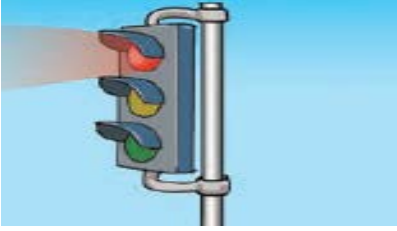
ADI :
SOYADI :

SINIFI :
NO :

NOT :

SORULAR

1) Aşağıdaki kavramları ilgili resimlerle eşleştiriniz.(12puan)



Okul geçidi

Üst geçit

Banket

Yaya geçidi

Toplu
tasıma

Trafik ışığı



2) Aşağıdaki tanımları eşleştiriniz.(18 puan)

Alt geçit

Yaya geçidi

Yaya

Taşıt

Banket

Trafik işaret
levhası

Kara yollarında hareketsiz duran veya hareket eden insan.

Kara yolunun veya demir yolunun altından yayaların geçmesini sağlayan yapı



Taşıt yolunda, yayaların karşıya güvenli geçebilmelerini sağlamak için yol çizgileri ve trafik işaretleri ile belirlenmiş alan.

Yaya kaldırımı bulunmayan kara yollarında, taşıt yolu kenarında yayaların kullanabileceği alan yazilihocam.com

İnsan, hayvan ve yük taşımaya yarayan araçlara denir.

Trafik ile ilgili sembol, renk ve yazı ile özel bir talimatın aktarılmasını sağlayan levhalardır.

3) Trafik işaret ve levhalarının anlamlarını yazınız.(9puan)



.....

.....

.....

4) Aşağıdaki cümlelerin başına doğru ise "D" yanlış ise "Y" yazınız.(21 puan)

Yaya veya okul geçitlerinden karşıya geçmek için yolun güvenli olduğundan emin olmalıyız.

Trafikte en önemli unsur insandır.

Trafik işaret ve levhalarına zarar vermeliyiz.

Kırmızı ışık yandığında karşıya geçebiliriz.

Banketten yürüyen yayalar kendi gidiş yönlerine göre sol taraftaki benketi

İnsanlar trafikte yaya, yolcu ve sürücü olarak bulunurlar.

Bir yere gitmek için en kısa yol tercih edilmelidir.

5) Yaya kaldırımı olmayan yollarda, yayaların yürümeleri için ayrılmış kara yolu bölümüne ne ad verilir?(5 puan)

- A) Banket
- B) Alt geçit
- C) Üst geçit
- D) Okul geçidi

6)Aşağıdaki trafik işaret levhalarının anlamları hangi seçenekte **doğru** sıralanmıştır?(5 puan)



- | | | |
|------------------|---------------|---------------|
| A) Bilgilendirme | Uyarı | Yasaklama |
| B) Uyarı | Yasaklama | Bilgilendirme |
| C) Uyarı | Bilgilendirme | Yasaklama |
| D) Yasaklama | Uyarı | Bilgilendirme |

7) Trafik kazalarına sebep olan **en önemli** unsur hangisidir?(5 puan)

- A) Yolların yapısı
- B) Araçların bakımsızlığı
- C) İnsanlar
- D) Olumsuz hava koşulları

8) Bankette yürüyen yayalar nasıl davranmalıdırlar?(5 puan)

- A) Gidiş yoluna göre sağdan yürünmelidir.
- B) Yan yana yürünmelidir.
- C) Kol kola girerek yürünmelidir.
- D) Tek sıra halinde yürünmelidir.

9) Aşağıdaki boşlukları uygun kelimelerle doldurunuz.(20 puan)

Motorsuz

Üç

Vatandaşlık

İnsan

Hızlı

Trafik yoğunluğunun

Motorlu

Zarar

Trafik

Trafik kurallarına

Trafik işaret ve levhalarına zarar verenleri yetkililere bildirmekgörevimizdir.

Trafik işaret levhalarınıntemel şekli vardır.

Trafik kazalarına sebep olan en önemli unsurdır.

Karşıya geçerken önce sola, sonra sağa ve tekrar sola bakarız, koşmadanadımlarla geçilir.

Taşıtlarolabileceği gibida olabilir. Yazilihocam.com

Trafik işaret ve levhalarınavermemeliyiz.

Kara yolları üzerindeki yayaların, araçların, hayvanların hâl ve hareketlerinedenir.

Toplu taşıma araçlarının tercih edilmesiazalmasına katkı sağlar.

Trafik kazalarının önlenmesi için yaya, yolcu ve sürücülerinuyması gerekir.

BAŞARILAR DİLERİM...