

..... EĞİTİM ÖĞRETİM YILI ORTAOKULU 7. SINIF
SEÇMELİ ZEKA OYUNLARI DERSİ DÖNEM 1. YAZILI SORULARI

Adı-Soyadı: _____

Sınıf: 7/ _____

No: _____

1-Sudoku : 1'den 4'e kadar olan rakamları her satırda, her sütunda ve kalın çizgilerle belirtilen her bölgede tam olarak bir kez bulunacak şekilde yerleştiriniz. **(10P)**

3			
		4	
	2		
			1

2-ANAGRAM: Verilen kelimelerde harflerin yerini değiştirerek anlamlı yeni kelime yazınız. Her kelimedede ilave/başka harf kullanılmayacaktır. **(4 x x = 16P)**

İPEK → _____

ALİM → _____

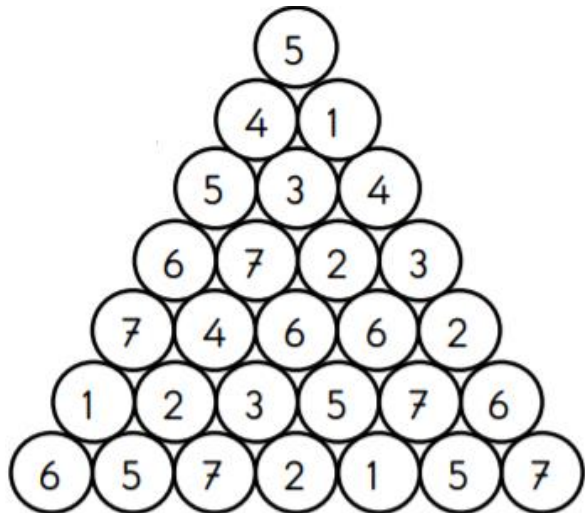
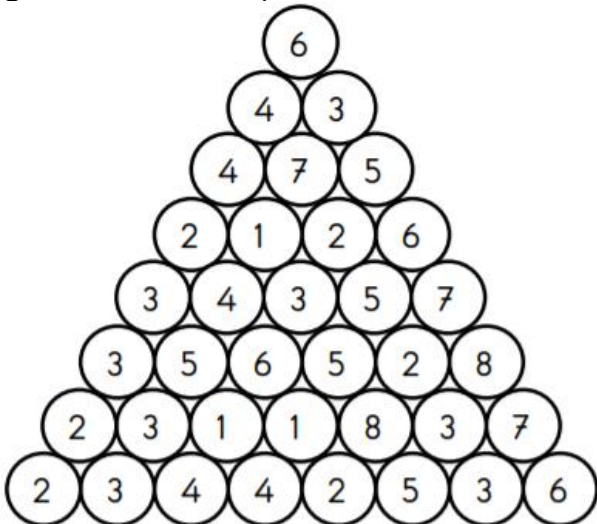
ULUS → _____

ASLI → _____

3-KELİME TÜRET: Aşağıdaki kelimelerden yeni kelimeler türetelim . İpucu sorunun sonunda verilmiştir. **(3 x 10 = 30P)**

- | | | | | |
|-----------------------|---|-------|---|-------|
| 1-Bir kuş türü | - | HAŞİN | → | _____ |
| 2-Biçim. Alınan hal | - | KLİŞE | → | _____ |
| 3-Sandal, sal | - | KIYAK | → | _____ |
| 4-Sesin tekrar etmesi | - | YAKIN | → | _____ |
| 5-Bir alet | - | ÜRKEK | → | _____ |
| 6-Doruk, en üst nokta | - | VEZİR | → | _____ |
| 7-Anlatım | - | FAİDE | → | _____ |
| 8-Soy, baba soyu | - | SELİN | → | _____ |
| 9-Yaş, nemli | - | SAKLI | → | _____ |
| 10-Sade | - | YILAN | → | _____ |

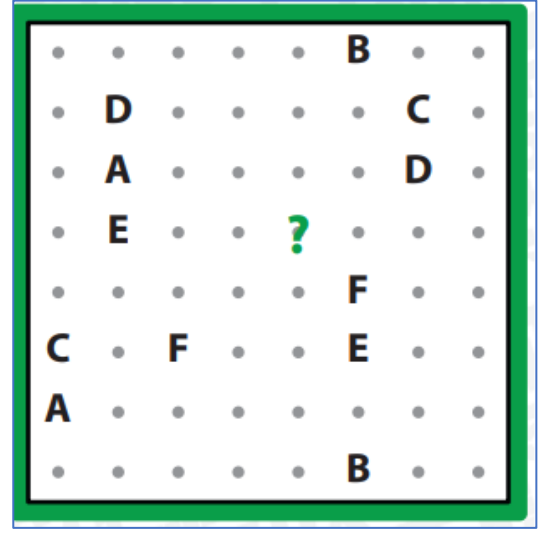
4-SİHİRLİ PİRAMİT- Sayıları bir defa kullanmak kaydıyla, piramidin tepesinden piramidin tabanına ininiz. Piramidin her katından yalnızca bir rakam seçilmelidir. Bir rakamdan diğer rakama geçmek için bu 2 rakamın birbirine komşu olması gerekir. Yol boyunca her bir rakam yalnızca bir kez kullanılmalıdır. **(2x5=10P)**



5-ABC BAĞLAMACA – Harfleri birbiriyle noktaların üzerinde yatay ya da dikey çizgi çizerek birleştiriniz. Soru işaretli noktadan hangi harfin yolu geçer?

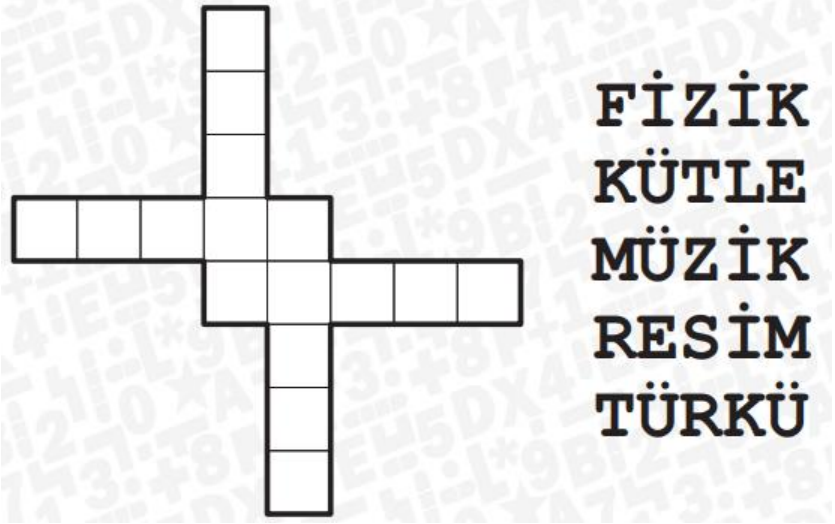
(7 P)

A)A B)B C)C D)D E)E



6- Verilen kelimelerin biri hariç tamamı soldan sağa ya da yukarıdan aşağıya okunacak şekilde aşağıdaki diyagrama yerleştirildiğinde, **YERLEŞMEYEN KELİME** hangisidir? (7 P)

A) FİZİK B) KÜTLE
C) MÜZİK D) RESİM
E) TÜRKÜ



7- Aşağıdaki harflerden hangisi farklıdır, **BULUNUZ (5P)** ve nedenini **YAZINIZ (5P)**?

H Z E K A N

Farklı olan harf ____ . Nedeni → _____

8- Aşağıdaki örnekte olduğu gibi çember içindeki sayıdan başlayarak diğer çember içindeki sayıya kadar gizlenmiş yolu bulunuz. Gittiğiniz yoldaki sayıların toplamı son çemberin içindeki sayıya eşit olmalıdır. Örneği inceleyiniz. (10P)

