

Adı: yazilihocam.com	4. SINIFLAR SOSYAL BİLGİLER DERSİ 1. DÖNEM 2.YAZILI SINAVI	..../01/20..
Soyadı:		PUAN:
No:		

A) Aşağıda boş bırakılan yerleri uygun kelimelerle tamamlayınız. (2x5 = 10 Puan )





*Hasan Tahsin - Atatürk - meteoroloji - kroki - Kutup Yıldızı*

1. Hava olaylarını inceleyen bilim dalına ..... denir.
2. Gökyüzünün bulutsuz olduğu bir gecede ..... yardımıyla yönümüzü bulabiliriz.
3. İzmir’de düşmana ilk kurşunu gazeteci..... sıkmıştır.
4. Türkiye Cumhuriyeti’nin ilk cumhurbaşkanı .....’tür.
5. Bir yerin üstten kuşbakışı çizimine .....denir. yazilihocam.com

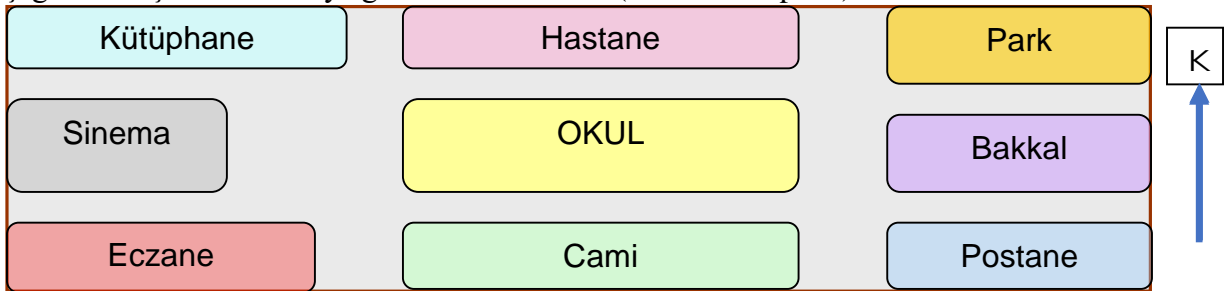
B) Aşağıdaki ifadelerden doğru olanlara (D), yanlış olanlara (Y) yazınız. (2x5 = 10 Puan )

1. ( ) Hava olaylarını bilmek çiftçilerin, balıkçıların, pilotların işlerini kolaylaştırır.
2. ( ) Barajlar, yollar, tüneller, köprüler beşeri unsurlardır.
3. ( ) Ağaçların yosunlu tarafları güneyi gösterir. yazilihocam.com
4. ( ) Sakarya Savaşı sonunda Mustafa Kemal’e “Gazi” unvanı ve “Mareşal” rütbesi verildi.
5. ( ) Herhangi bir yerin ölçü kullanılmadan kâğıt üzerine kuş bakışı çizilmesine harita denir.

C) Aşağıdaki tabloda hava durumu sembollerinin anlamlarını yazınız.( 10 Puan )

 .....	 .....	 .....	 .....
--	--	--	--

D) Aşağıdaki boşlukları krokiye göre doldurunuz. ( 5 X 4 = 20 puan)



1. Okulun güneyinde..... vardır
2. Caminin doğusunda.....vardır.
3. Postanenin batısında ..... vardır.
4. Hastanenin güneyinde ..... vardır
5. Bakkalın batısında ..... vardır.

1 ) Hava olaylarını inceleyen bilim dalı aşağıdakilerden hangisidir? (5 Puan )

- A) Sosyoloji
- B) Jeoloji
- C) Meteoroloji
- D) Biyoloji yazilihocam.com

2 ) Ülkemizde hava tahminlerinde bulunan kurum aşağıdakilerden hangisidir? (5 Puan )

- A) Devlet Meteoroloji İşleri Genel Müdürlüğü
- B) Devlet Su İşleri Genel Müdürlüğü
- C) Sivil Savunma Müdürlüğü
- D) İl Sağlık Müdürlüğü

3 ) Aşağıdakilerden hangisi yön bulma yöntemlerinden biri değildir? (5 Puan )

- A) Bulutların hareketleri
- B) Pusula
- C) Karınca yuvaları
- D) Ağaç gövdelerinin yosunlu tarafları

4 ) “Bir millete özgü kültürel öğelerin tümüne milli kültür denir ve bu öğeler milletin ortak ürünüdür.” Bu açıklamaya göre aşağıdakilerden hangisi bizim kültürel öğelerimizden biri değildir? (5 Puan )

- A) Bayramlaşma yazilihocam.com
- B) Yılbaşı kutlaması
- C) Düğün töreni
- D) Halk oyunları

5 ) Aşağıdakilerden hangisi Türklerin ata sporu olarak kabul edilir? (5 Puan )

- A) Güreş
- B) Futbol
- C) Tekvando
- D) Beyzbol

6 ) Yunanlılar İzmir’i işgal ettiğinde bu olaya tepki göstererek Yunan askerlerine ilk direniş gösteren kahramanımız kimdir? (5 Puan )

- A) Hasan Tahsin
- B) Şahin Bey
- C) Sütçü İmam
- D) Ezineli Yahya Çavuş

7 ) Çevremizde bulunan doğal unsurlar arasında aşağıdakilerden hangisi gösterilemez? (5 Puan )

- A) Yollar ve köprüler
- B) Göller ve ırmaklar
- C) Dağlar ve tepeler
- D) Ormanlar ve bitkiler

8 ) Aşağıdaki oyunlardan hangisi geçmişte ve günümüzde oynanan çocuk oyunlarından biridir?(5 Puan )

- A) saklambaç oyunu
- B) tablet oyunu
- C) internet oyunu
- D) bilgisayar oyunu

9 ) Maraş’ta düşmana ilk kurşunu atarak kurtuluş mücadelesini başlatan kimdir? (5 Puan )

- A) Sütçü İmam
- B) Şahin Bey
- C) Hasan Tahsin
- D) Nene Hatun

10) Mustafa Kemal Paşa’ya ne zaman ‘Mareşallık’ ve ‘Gazilik’ unvanı verilmiştir? (5 Puan )

- A) 2. İnönü Savaşından sonra
  - B) Başkomutanlık Meydan Muharebesinden sonra
  - C) Sakarya Meydan Muharebesinden sonra
  - D) 1. İnönü Savaşından sonra
-