

SORULAR

1. Trafikte en önemli unsur (eleman) nedir ?

- A) Hayvanlar B) İnsanlar
C) Araçlar D) Yollar

2. Trafiği düzenlemede kullanılan, üzerinde çeşitli renk, sembol ve yazı bulunan tabelalara ne denir ?

- A) Sinyal B) Banket
C) Trafik levhaları D) Far lambası

3. "Trafik güvenliğinin sağlanması için trafik akışını ve trafik düzenini sağlar." Tanımı yapılan meslek aşağıdakilerden hangisidir?

- A) Trafik Polisi B) Asker
C) Güvenlik Görevlisi D) Hakim

4. Aşağıdakilerden hangisi 'Okul Geçidi' anlamına gelen işaret levhasıdır ?

- A)  B)  C)  D) 

5. Aşağıda verilen araç ve ulaşım türü eşleştirmelerinden hangisi yanlıştır?

- A) Kamyon → Kara Yolu
B) Gemi → Deniz Yolu
C) Feribot → Demir Yolu
D) Uçak → Hava Yolu

6. Aşağıdaki eşleştirmelerden hangisi yanlıştır?

A) Yolda çalışma var



B) Bisiklet girebilir



C) Mecburi yaya yolu



D) Taşıt giremez



7.







Trafik işaret levhaları, şekillerine göre (üçgen, kare, daire) anlamlıdır. Aşağıdakilerden hangisi trafik levhalarının anlamlarından değildir ?

- A) Cezalandırıcı B) Bilgilendirici
C) Yasaklayıcı D) Uyarıcı

8. Aşağıdakilerden hangisi yolcuların uyması gereken kurallardan değildir ? yazilihocam.com

- A) Sürücüyü rahatsız etmemek
B) Emniyet kemeri takmak
C) Camdan dışarıya sarkmamak
D) Taşıt durmadan inmeye çalışmak





9. Ulaşım süresi kısa (çabuk) olduğu için tercih edilen ulaşım türü hangisidir?

- A)  B) 
C)  D) 

10. Ambulans ve itfaiye sürücülerinin hız ve yön değiştirme kurallarına uymama hakkı vardır. Buna ne denir?

- A) Geçiş yarışı B) Geçiş üstünlüğü
C) Geçiş sırası D) Geçme yönü

11. Aşağıdakilerden hangisi trafikte geçiş üstünlüğü olan taşıtlardan değildir?

- A)  B) 
C)  D) 

12. Geçiş üstünlüğü ne zaman kullanılmalıdır ?

- A) Arada sırada B) Yol boşken
C) Görevi olduğunda D) Her zaman





13. Aşağıdakilerden hangisini bisiklet, kayak veya paten kullanırken **takmayabiliriz?**

- A)  B) 
C)  D) 

14. Günlük yaşantımızda okula, markete veya parka gitmek için hangisinin tercih etmeliyiz?

- A) En uzun yolları yazilihocam.com
B) En güvenli yolları
C) En kısa yolları
D) Yaya kaldırımı olmayan yolları

15. Aşağıda, görseller ve bunları kullanan kişiler eşleştirmesinde hangisinde yanlışlık yapılmıştır?

- A) Pilot 
B) Şoför 
C) Vatman 
D) Makinist 

16. Toplu taşıma araçlarında özel durumu olan kişilere yer vermemiz gerekir. Aşağıdakilerden hangisi bu kişilerden biri **değildir?** yazilihocam.com

- A) Hamileler B) Yaşlılar

C) Engelliler D) Gençler

17. Aşağıdakilerden hangisi doğrudur?

- A) Oyun oynamak için oyun parklarını kullanmalıyız.
B) Yolculuk sırasında aracın camından dışarı sarkabiliriz.
C) Karayolları sadece sürücülerin kullanımı içindir.
D) Kaykay kullanırken herhangi bir güvenlik önlemi almaya gerek yoktur.



18. Yukarıdaki resim bize ne anlatmaktadır ?

- A) Üst geçit hayvanlar içindir.
B) Güvenli geçiş yerlerini kullanmazsak kaza yapıp yaralanabiliriz.
C) Canımıza zarar gelmemesi için trafiğe hiç çıkmamalıyız.
D) Toplu taşıma araçlarını kullanmalıyız.

19. ve 20. soruları aşağıda verilen trafik levhalarına bakarak yanıtlayınız.



19. Kaç numaralı trafik levhaları güvenli geçiş yerlerine örnektir?

- A) Hepsi B) 1, 3, 4 ve 6
C) 2 ve 5 D) 1 ve 4

20. Hangi numaralı trafik levhaları yasaklama, kısıtlama anlamı taşımaktadır?

- A) 2 ve 5 B) Yalnız 5
C) 3 ve 6 D) 1, 3 ve 5