

Adı : .....  
Soyadı : .....  
Sınıf/No : ...../.....



Eşiyük  
A U Y U L

4. Sınıf  
Kesirler

1. Aşağıdakilerden hangisi *basit kesir*dir?

- A)  $\frac{8}{6}$  B)  $2\frac{3}{6}$  C)  $\frac{3}{6}$  D)  $\frac{6}{4}$

2.  $\frac{3 + \square}{18}$  kesrinin en büyük *basit kesir* olması için " $\square$ " yerine hangi doğal sayı gelmelidir?

- A) 15 B) 14  
C) 13 D) 12



"★" ile belirtilen kesir aşağıdakilerden hangisidir?

- A)  $\frac{3}{9}$  B)  $\frac{4}{9}$  C)  $2\frac{1}{9}$  D)  $\frac{9}{3}$

4. Yandaki görselde modellenen kesir aşağıdaki seçeneklerden hangisinde verilmiştir?

- A)  $\frac{16}{11}$  B)  $\frac{12}{16}$  C)  $2\frac{4}{12}$  D)  $\frac{11}{16}$

5.  $2\frac{3}{6}$  kesrinde, kaç *birim kesir* vardır?

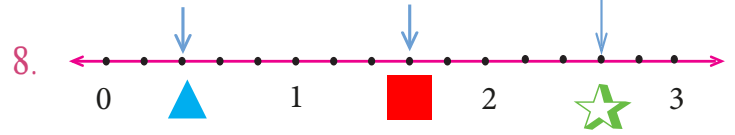
- A) 15 B) 2  
C) 18 D) 12

6. Aşağıdakilerden hangisi *bileşik kesir* örnektir?




- A)  $\frac{3}{8}$  B)  $\frac{4}{6}$  C)  $3\frac{3}{7}$  D)  $\frac{8}{5}$

7. Okunuşu "*dört tam üç bölü sekiz*" şeklinde olan kesir aşağıdakilerden hangisinde doğru verilmiştir?

- A)  $4\frac{3}{8}$  B)  $4\frac{8}{3}$  C)  $\frac{3}{8}$  D)  $\frac{8}{3}$



Sayı doğrultusunda kesirlere denk gelen şekiller sırası ile hangi seçenekte doğru verilmiştir?

-     
A)  $\frac{2}{3}$   $\frac{3}{3}$   $2\frac{4}{3}$

- B)  $\frac{2}{5}$   $1\frac{3}{5}$   $2\frac{3}{5}$

- C)  $2\frac{5}{3}$   $\frac{4}{3}$   $\frac{3}{4}$

- D)  $\frac{4}{3}$   $\frac{3}{4}$   $2\frac{8}{3}$

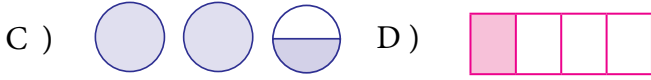
9. İki basamaklı, en büyük çift sayının  $\frac{4}{7}$  'ü kaçtır?

- A) 14 B) 56  
C) 82 D) 42

Özgür Eşiyük



10. Aşağıdakilerden hangisi  $2\frac{1}{3}$  kesirinin modellenmiş halidir?



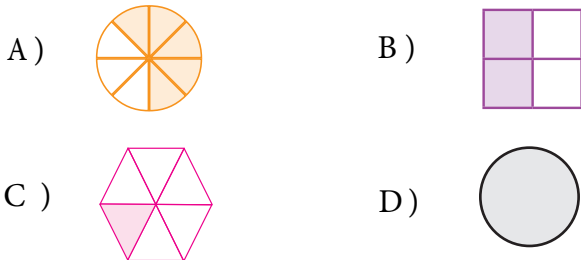
11. Aşağıdaki kesirlerden **en büyük** olanı işaretleyiniz?

A)  $\frac{4}{8}$  B)  $\frac{7}{8}$  C)  $\frac{3}{8}$  D)  $\frac{2}{8}$

12.  $\frac{\square}{2} > \frac{6}{9}$  sıralamasında " $\square$ " yerine yazılabilecek **en küçük** sayı kaçtır?

- A) 7 B) 8  
C) 5 D) 10

13. Aşağıda modellenen kesirlerden hangisi **birim kesiri** ifade eder?



14. Aşağıdaki eşleştirmelerden hangisinde **yanlışlık** yapılmıştır?

- A)  $\frac{2}{5} \rightarrow$  Birim kesir B)  $\frac{7}{5} \rightarrow$  Bileşik kesir  
C)  $2\frac{3}{4} \rightarrow$  Tam sayılı kesir D)  $\frac{4}{8} \rightarrow$  Basit kesir

14. Ben 3 yıl önce 42 yaşımıydım.

Onur

Benim yaşı, Onur'un yaşının  $\frac{2}{9}$ 'si kadardır.

Murat

Yukarıda verilen görsellere göre **Murat** kaç yaşındadır?

- A) 5 B) 10  
C) 15 D) 20

15.



400 kg

400 kg muzun  $\frac{3}{8}$ 'ü satıldığında geriye kaç kg muz kalır?

- A) 150 kg B) 250 kg  
C) 200 kg D) 350 kg

16.



Esra

90 sayfa hikaye kitabının  $\frac{3}{5}$ 'ünü okudum.

Buna göre Esra'nın kaç sayfa kitabı kalmıştır?

- A) 36 B) 45  
C) 54 D) 68

17. Emre, bir pastanın önce  $\frac{2}{8}$ 'sini sonra  $\frac{4}{8}$ 'ünü yedi.

Buna göre Emre, pastanın kaçta kaçını yemiştir?

- A)  $\frac{6}{16}$  B)  $\frac{6}{8}$  C)  $2\frac{6}{8}$  D)  $\frac{2}{16}$