

1. 5,045
Ondalık gösterimi aşağıdakilerden hangisine eşittir?

A) 5,0045 B) 5,0450
C) 5,00450 D) 50,045

2. Aşağıdaki ondalık gösterimlerden hangisi en küçüktür?

A) 12,074 B) 12,0075
C) 12,089 D) 12,0099

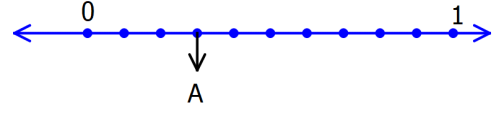
3. $8,24\Box > 8,246$
Olduğuna göre aşağıdakilerden hangisi \Box yerine yazılamaz

A) 6 B) 7 C) 8 D) 9

4. $3,8\bigcirc7 < 3,856$
Olduğuna göre \bigcirc yerine yazılabilecek en büyük rakam kaçtır?

A) 7 B) 6 C) 5 D) 4

- 5.



Yukarıdaki sayı doğrusunda A ile gösterilen ondalık gösterim aşağıdakilerden hangisidir?

A) 0,2 B) 0,3 C) 0,4 D) 0,5

- 6.

$$A = 4,324$$

$$B = 3,876$$

$$C = 4,412$$

Yukarıda verilen A,B,C ondalık gösterimlerinin doğru sıralanışı aşağıdakilerden hangisidir?

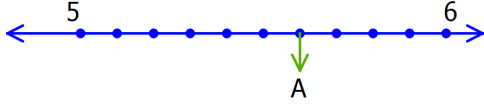
A) $A < B < C$
B) $B < C < A$
C) $C < A < B$
D) $B < A < C$

7. $15,056 < \dots < 15,072$

Yukarıda verilen sıralamanın doğru olması için boş bırakılan yere aşağıdakilerden hangisi yazılabilir?

A) 14,001 B) 15,58
C) 15,066 D) 16,049

8.



Yukarıdaki sayı doğrusunda A ile gösterilen ondalık gösterim aşağıdakilerden hangisidir?

- A) $5\frac{3}{5}$ B) $\frac{6}{10}$ C) $6\frac{2}{5}$ D) $\frac{2}{5}$

9. Aşağıdaki sıralamalardan hangisi doğrudur?

- A) $6,5 < 6,06 < 6,7$
B) $7,356 > 6,999 > 6,1$
C) $8,036 < 8,111 < 8,2$
D) $9,061 < 9,02 < 9,003$

10. 18,507 ondalık gösterimi aşağıdakilerden hangisinden büyüktür?

- A) 18,705
B) 18,057
C) 18,57
D) 18,75

11. $6,52\Box < 6,526$

Yukarıdaki karşılaştırmanın doğru olması için \Box yerine kaç farklı rakam yazılabilir?

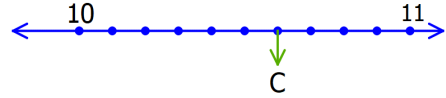
- A) 6 B) 7 C) 8 D) 9

12. $\frac{7}{2} < \dots < \frac{19}{5}$

Olduğuna göre \bigcirc yerine aşağıdakilerden hangisi gelebilir?

- A) 3,3 B) 3,5 C) 3,7 D) 3,9

13.



Sayı doğrusunda C ile ifade edilen ondalık gösterim aşağıdakilerden hangisinden küçüktür?

- A) 10,45 B) 10,06
C) 10,07 D) 10,66

14. 1,0,2,4,6 rakamları ile virgül birerkez kullanılarak 24,1 ten büyük ondalık gösterimler yazılacaktır. Buna göre yazılabilecek en küçük ondalık gösterim aşağıdakilerden hangisidir?

- A) 24,610 B) 24,160
C) 24,061 D) 24,106

15. $4,598 > 4,\bigcirc26$

Olduğuna göre \bigcirc yerine gelebilecek rakamların toplamı kaçtır?

- A) 10 B) 15 C) 24 D) 355

