

7.Sınıf Kültür ve Miras Ünitesinden Çıkmış Sorular

1-) İOKBS 2019

Aşağıdakilerden hangisi Osmanlı Beyliği'nin Söğüt ve çevresini yurt edinmesinin sağladığı siyasi avantajlardan biri değildir?

- A) Kurulduğu dönemde çevresinde güçlü bir devletin olmayışı
- B) Ticari açıdan gelişmiş şehir ve kasabalara komşu bulunması
- C) Etrafındaki tefurlarının birbiriyle mücadele hâlinde olması
- D) Bizans İmparatorluğu'nun iç karışıklıklarla uğraşması

2-) İOKBS 2019

Osmanlı nüfusunun önemli bir kısmı köylerde yaşarlardı. Konargöçerler çoğunlukla hayvancılıkla, köylüler ise daha çok tarım ile uğraşırlardı. Köylülerin büyük çoğunluğu devletin kendilerine tahsis ettiği çiftlikleri işleten ailelerden oluşmaktaydı.

Bu metindeki bilgiye getirilebilecek uygun başlık aşağıdakilerden hangisidir?

- A) Osmanlı Devleti'nin Askerî Yapısı
- B) Osmanlı Divan Teşkilatı
- C) Osmanlı Devleti'nin Toplumsal ve Ekonomik Yapısı
- D) Osmanlı İskân Politikası

3-) İOKBS 2019

Aşağıdakilerden hangisi Avrupalıların Coğrafi Keşifleri başlatmalarının dinî sebeplerinden biridir?

- A) Coğrafya bilgisinin artması
- B) Gemi yapım tekniklerinde ilerlemeleri
- C) Yeni ticaret yolu aramak istemeleri
- D) Hristiyanlığı yaymak istemeleri

4-) İOKBS 2019

Aşağıdakilerden hangisi Lale Devri'nde eğitim ve kültür alanında yapılan yeniliklerden biridir?

- A) İlk matbaanın kurulması
- B) Çini fabrikasının açılması
- C) İtfaiye teşkilatının kurulması
- D) İlk kez çiçek aşısının uygulanması

5-) İOKBS 2019

Avrupa'da Rönesans ve Reform hareketlerinin öncesinde bilimsel gelişmenin önündeki en büyük engel skolastik düşünce anlayışıdır.

Buna göre aşağıdakilerden hangisi skolastik düşünce anlayışını yansıtan ifadelerden biridir?

- A) Evreni tanımak için araştırmak gerekir.
- B) Bilimsel araştırmalara ihtiyaç vardır.
- C) Kilisenin söylediği her şey doğrudur.
- D) Bilgi; deney ve gözlemlerle ispat edilebilir.

6-) İOKBS 2019

Osmanlı Devleti'nde uzun yıllar uygulanan tımar sistemine göre toprak, mazeretsiz olarak arka arkaya üç yıl boş bırakılırsa tımar devlet tarafından geri alınırdı.

Tımar sistemindeki bu uygulamanın nedeni aşağıdakilerden hangisidir?

- A) Asker ihtiyacını karşılamak
- B) Üretimin sürekliliğini sağlamak
- C) Arazi gelirlerini artırmak
- D) Toplumun güvenlik sorununu çözmek

7-) İOKBS 2019

Aşağıdakilerden hangisi Sanayi İnkılabı'nın sosyal sonuçlarından biridir?

- A) Üretim alanı genişlemiştir.
- B) Üretilen ürün miktarı artmıştır.
- C) Çekirdek aile yaygınlaşmıştır.
- D) Bilime dayalı teknikler geliştirilmiştir.

8-) İOKBS 2019

- Gelibolu Yarımadası'ndadır.
- Batı seferlerinde üs olarak kullanılmıştır.
- Osmanlı'nın Rumeli'deki ilk toprağıdır.

Bu bilgiler aşağıdakilerden hangisi ile ilgilidir?

- A) Rumeli Hisarı B) Çimpe Kalesi
C) Yarhisar Kalesi D) Anadolu Hisarı

9-) İOKBS 2018

- I. Preveze Deniz Zaferi
II. Ridaniye Savaşı
III. İstanbul'un Fethi
IV. Kıbrıs'ın Fethi

Verilen olayların kronolojik sıralaması aşağıdakilerden hangisidir?

- A) II - III - I - IV
B) III - IV - II - I
C) I - II - III - IV
D) III - II - I - IV

10-) İOKBS 2018

Osman Bey, oğlu Orhan Gazi'ye; "İlim ehli insanlara rağbet et, askerine ve malına güvenip âlimlerden uzaklaşma!" diye vasiyet etmiştir.

Osman Bey'in bu sözleriyle önemini vurguladığı erdem, aşağıdakilerden hangisidir?

- A) Bilgi B) Hoşgörü
C) Cesaret D) İyilikseverlik

11-) İOKBS 2018

Geleneksel Osmanlı ordu bandosuna - - - - adı verilir.

Cümle aşağıdakilerden hangisiyle tamamlanmalıdır?

- A) Koro B) Orkestra
C) Senfoni D) Mehter

12-) İOKBS 2018

Aşağıdakilerden hangisi II. Mahmut dönemi ıslahatlarından biri değildir?

- A) İlk nüfus sayımının yapılması
B) Ziraat Bankası'nın kurulması
C) İlköğretimin zorunlu olması
D) İlk resmî gazete olan Takvimivekayî'nin çıkarılması

13-) İOKBS 2018

Osmanlılarda "Kaptan-ı Derya" unvanı verilen ilk denizci aşağıdakilerden hangisidir?

- A) Kemal Reis
B) Oruç Reis
C) Barbaros Hayrettin Paşa
D) Kılıç Ali Paşa

14-) İOKBS 2018

Sanayi İnkılabı aşağıdaki ülkelerden hangisinde ortaya çıkmıştır?

- A) İngiltere B) Fransa
C) İtalya D) Almanya

15-) İOKBS 2018

Aşağıdakilerden hangisi Osmanlı hükümdarlarından biri değildir?

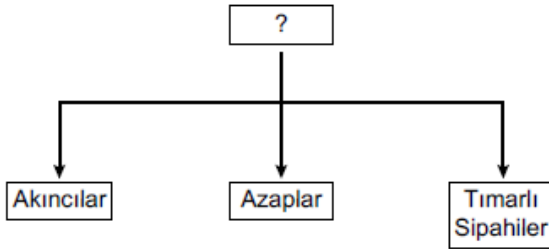
- A) Yıldırım Beyazıt
B) Orhan Bey
C) Alaaddin Keykubat
D) II. Murat

16-) İOKBS 2017

Aşağıdakilerden hangisi Orhan Bey dönemi olaylarından değildir?

- A) Bursa'nın fethi
- B) Fetret Devri'nin başlaması
- C) Türklerin Rumeli'ye geçmesi
- D) Orduda yaya ve müsellemler birliğinin oluşturulması

17-) İOKBS 2017



Şemaya hangi başlık verilmelidir?

- A) Deniz Kuvvetleri
- B) Cebeci Ocağı
- C) Topçu Ocağı
- D) Eyalet Askerleri

18-) İOKBS 2017

- I. Trabzon
- II. Kırım
- III. Kıbrıs

Numaralanmış yerlerden hangilerininin fethi, Karadeniz'de Türk hâkimiyetini güçlendirmiştir?

- A) Yalnız I
- B) Yalnız II
- C) I ve II.
- D) II ve III.

19-) İOKBS 2017

18. yüzyılda yapılan

- I. Telgrafın kullanılması
- II. Şirketihayriyenin kurulması
- III. İzmir-Aydın arasında ilk demir yolu hattının yapılması

İslahatlarından hangileri haberleşme ile ilgilidir?

- A) Yalnız I
- B) Yalnız II
- C) I ve II.
- D) II ve III.

20-) İOKBS 2017

Coğrafi Keşifler sonucunda Baharat ve İpek Yolları önemini yitirdi.

Bu durum Osmanlıları daha çok hangi alanda olumsuz etkilemiştir?

- A) Dinî
- B) Sanatsal
- C) Kültürel
- D) Ekonomik

21) PYBS 2016

Osmanlı ıslahat hareketleri sonucunda;

- Posta Nezareti kuruldu.
- Memleket Sandıkları oluşturuldu.
- Şirketihayriye kurularak İstanbul'da düzenli vapur seferleri başladı.

Bu ıslahatlarla;

- I. Eğitim
- II. Ulaşım
- III. Ekonomi
- IV. Haberleşme

alanlarından hangilerinde ülkenin ilerlemesi amaçlanmıştır?

- A) I ve IV
- B) I, II ve III
- C) II, III ve IV
- D) I, II, III ve IV

22-) PYBS 2016

Osmanlı Devleti'nde devlet işleri Divanühümayun adı verilen bir kurulda görüşülüp karara bağlanırdı. Divanda devlet işleriyle ilgili alınan kararların İslam dinine uygun olup olmadığına divan üyelerinden Şeyhülislam karar verirdi.

Bu bilgilere göre Osmanlı devlet yönetimiyle ilgili olarak aşağıdaki sonuçlardan hangisi çıkarılabilir?

- A) Yargıda örfi hukuk geçerlidir.
- B) Devlet yönetiminde din kuralları etkilidir.
- C) Divana bütün halkın başvurma hakkı vardır.
- D) Devlet yönetiminde padişah tek başına hareket etmektedir.

23-) PYBS 2016

Osmanlı Devleti'nin fethettiği şehirlerde farklı dinlere ait ibadet yerleri varlığını devam ettirmiştir. Egemenliği altındaki gayrimüslimler dinlerini serbestçe yaşamışlardır.

Bu durum, Osmanlıların aşağıdakilerden hangisine önem verdiğine kanıt olarak gösterilebilir?

- A) Din birliğine
- B) Farklı dinleri tanımaya
- C) Kültürlerini kabul ettirmeye
- D) İnançlara hoşgörü ile yaklaşıtlarına

24-) PYBS 2015

Aşağıdakilerden hangisi Osmanlı Devleti ile Avrupa'nın kültürel etkileşim içine girdiğine örnek gösterilemez?

- A) Matbaanın kurulması
- B) Divan teşkilatının oluşturulması
- C) Avrupa'da daimî elçiliklerin açılması
- D) Avrupa'dan askerî uzmanların getirilmesi

25-) PYBS 2015

Osmanlı Devleti'nden kalan bazı yapıların günümüzde de kullanılıyor olmasını aşağıdakilerden hangisiyle açıklayabiliriz?

- A) Yenileşme çabalarına önem verilmesiyle
- B) Yerli malı kullanımının teşvik edilmesiyle
- C) Türk mimari eserlerinin sağlam ve kullanışlı olmalarıyla
- D) Osmanlı mimarisinde kullanılan süslemelerin canlılığıyla

26-) PYBS 2015

Osmanlı Devleti içinde farklı etnik ve dinî unsurlar bulunmaktaydı. Örfi hukuk, bu farklı unsurların duyarlılıklarını gözeten bir hukuk sistemi idi.

Osmanlı Devleti'nde bu örfi hukukun uygulanması aşağıdakilerden hangisinin kanıtıdır?

- A) Osmanlı Devleti'nde hukuk birliğinin sağlandığının
- B) Osmanlı Devleti'nin farklı kültürlerden etkilendiğinin
- C) Farklı unsurların Osmanlı Devleti üzerinde etkili olduğunun
- D) Osmanlı Devleti'nde hoşgörü ve birlikte yaşama fikrinin geliştiğinin

27-) PYBS 2015

“Devletli sultanımın yardımıyla Rumeli fethedilmeye başlandı. Düşman zayıftır. Bu tarafta fethedilen hisarlara koymaya çok adam gerek. Lütfedip bana yarar yoldaş gönderiniz.”

Süleyman Paşa

Orhan Bey'in oğlu Süleyman Paşa, babasından bu isteğiyle aşağıdakilerden hangisini amaçlamış olabilir?

- A) Fethedilen toprakların kalıcı olmasını sağlamayı
- B) Rumeli'deki Türk nüfus yoğunluğunu azaltmayı
- C) Osmanlı ordusunu güçlendirmeyi
- D) Devletin ekonomisini geliştirmeyi

28-) PYBS 2015

Yapılan fetihler sonunda önemli kara ve deniz ticaret yollarının Osmanlı Devleti'nin eline geçmesi, aşağıdaki alanlardan hangisine katkı sağlamamıştır?

- A) Ekonomi
B) Siyaset
C) Askeriye
D) Din

29-) PYBS 2014

“Yahudilerin toptan öldürüldüğü, Engizisyon Mahkemelerinin ölüm saçtığı bir devirde Osmanlılar, idareleri altındaki çeşitli dinlere bağlı kimseleri barış ve uyum içinde yaşıyorlardı.”

Gibbons
Osmanlı Devleti'nin Kuruluşu. s.22

Gibbons'un sözlerinden hareketle, Osmanlı toplumu hakkında, aşağıdakilerden hangisi söylenemez?

- A) Hoşgörü kültürü gelişmiştir.
B) İnanç birliği kurulmuştur.
C) Din hürriyeti hayat bulmuştur.
D) Birlikte yaşama fikri oluşmuştur.

30-) PYBS 2014

Osmanlı Devleti; Anadolu, Suriye ve Mısır bölgelerine egemen olduğunda, bu bölgeler için stratejik ve merkezi bir üs konumunda olan Kıbrıs Adası, Venedik'in idaresinde bulunuyordu. Bu yıllarda ada, Doğu Akdeniz'de Hristiyanların kalesi durumundaki tek yerleşim yeri idi. Ayrıca Kıbrıs kralı zaman zaman, Osmanlı aleyhine kurulan ittifaklara da yardımlarda bulunuyordu.

Verilen bilgiden hareketle Kıbrıs'ın fethinin, Osmanlı Devleti'ne;

- I- dinî
II- iktisadi
III- siyasi
IV- askerî

alanların hangilerinde katkı sağladığı söylenebilir?

- A) I ve II
B) II ve III
C) III ve IV
D) I, III ve IV

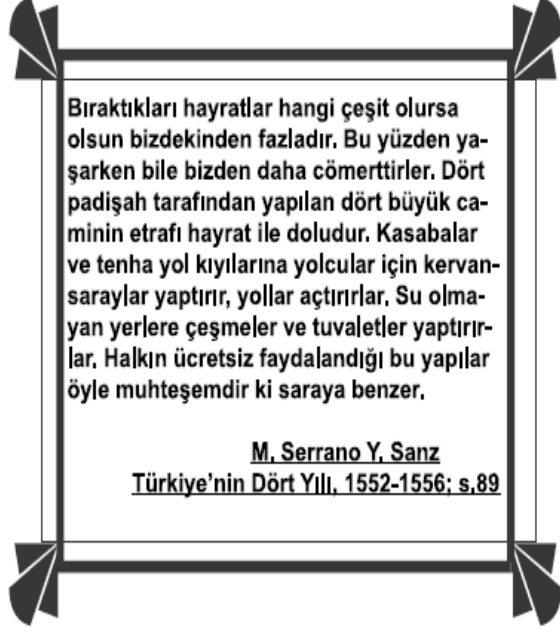
31-) PYBS 2014



Verilen durum, Osmanlı Beyliği'nin güçlenmesini sağlayan aşağıdaki faktörlerden hangisiyle ilişkilendirilebilir?

- A) Adalet anlayışıyla
B) Hoşgörü fikriyle
C) İskân politikasıyla
D) Yöneticilerin yeteneğiyle

32-) PYBS 2014



Seyyah Sanz'ın, Osmanlı ile ilgili bu anlatımından Türk kültürüne ait aşağıdaki unsurlardan hangisi çıkarılabilir?

- A) İyilikseverlik B) Adaletlilik
C) Mütevazılık D) Eşitlik

3

33-) PYBS 2013

19. yüzyılda Osmanlı topraklarından geçen seyyah Sanz, gördüklerini şu şekilde anlatmıştır:

“... Adalet ve hukuk yoluyla toplum düzenini sağlayan Türkler, Hristiyan ve Müslüman farkı gözetmeksizin adaleti herkese eşit olarak tatbik ederler. Belli başlı kadıların masalarında İncil ve Tevrat birlikte bulunur. Hristiyanları İncil, Yahudileri Tevrat üzerine yemin ettirirler...”

(Sanz, Türkiye'nin Dört Yılı, sf: 93)

Seyyah Sanz'ın anlatımından hareketle, Osmanlı toplum yaşamı ile ilgili olarak aşağıdakilerden hangisi söylenemez?

- A) Farklı inanç ve kültürler bir arada yaşamıştır.
B) Osmanlı toplumu Türklerden oluşmuştur.
C) Adalet ve hoşgörü anlayışı gelişmiştir.
D) İnanç hürriyeti sağlanmıştır.

34-) PYBS 2013

Orhan Bey, Bursa'nın fethinden sonra Rumlara şehri teslim etmelerinin sebebini sorduğu zaman onlardan şu cevabı aldı:

“- Sizin devletinizin günden güne büyüdüğü ve bizim devletimizin zayıfladığını anladık. Babanızın idaresine geçen köylülerin memnun kalıp bizi anmadıklarını gördük. Biz de bu rahatlığa heves ettik.”

Rumların cevabı, Osmanlı'nın kısa zamanda büyümesini sağlayan aşağıdaki nedenlerden hangisi ile ilişkilendirilebilir?

- A) Kurulduğu bölgenin coğrafi konumu
B) Adaletli ve hoşgörülü politika izlenmesi
C) Güçlü bir merkezî yönetime sahip olması
D) Başarılı bir iskân siyasetinin uygulanması

35-) PYBS 2013

Fatih Sultan Mehmet;

- Cenevizlilerden Amasra'yı almış,
- Trabzon İmparatorluğu'na son vermiş,
- Kırım'ı Osmanlı'ya bağlamıştır.

Fatih Sultan Mehmet'in bu faaliyetleri, Osmanlı Devleti'nin en çok hangi alanda gelişmesine katkı sağlamıştır?

- A) Sanat B) Tarım
C) Bilim D) Ticaret

36-) PYBS 2013

- Lale Devrinde matbaanın kurulması
- II. Mahmut Döneminde ilk resmî gazete olan Takvim-i Vekâyî'nin yayımlanması

Yapılan bu ıslahatların, Osmanlı'da ortaya çıkaracağı değişim, aşağıdakilerden hangisidir?

- A) Fikir hayatının gelişmesi
B) Askerî yapının değişmesi
C) Merkezî otoritenin güçlenmesi
D) Ekonomik büyümenin gerçekleşmesi

37-) PYBS 2013

“Tarih boyunca İstanbul, önemli kara ve deniz ticaret yolları üzerinde bulunuyordu.”

Verilen bu bilgi doğrultusunda, İstanbul’un fethi Osmanlı Devleti’ne daha çok hangi alanda katkı sağlamıştır?

- A) İdari B) Siyasi
C) Ekonomik D) Askerî

38-) PYBS 2013

“... İzmir’i, İstanbul’u, Suriye’yi, Lübnan’ı gezin; manastırlara, Hristiyan misafirhanelerine, mabetlere, erkekler ve kadınlar tarafından yönetilen hastane veya din okullarına girin ve içlerinden birinin imparatorluğa karşı saygı duyup duymadığını sorun. Hepsini birden, imparatorlukta uygulanan tarafsızlığı ve Sultan’ın adını takdis edeceklerdir...”

(Lemartine; Aşiretten Devlete; sf:20)

Parçada verilen bilgiden, aşağıdakilerden hangisine ulaşamaz?

- A) Osmanlı halkının Hristiyanlardan oluştuğuna
B) Ülkede adil bir yönetimin uygulandığına
C) Farklılıklara saygı gösterildiğine
D) Padişaha saygı duyulduğuna

39-) PYBS 2012

II. Mahmut Dönemi’nde Divanühümayun’un kaldırılarak bakanlıkların kurulması hangi alanda değişiklik yaşandığını gösterir?

- A) Hukuk B) Yönetim
C) Ekonomi D) Din

40-) PYBS 2012

Aşağıdakilerden hangilerinin fethi, Karadeniz’de ticaretin Osmanlıların denetimine girmesini sağlamıştır?

- I- Amasra
II- Kıbrıs
III- Trabzon

- A) I ve II B) I ve III
C) II ve III D) I, II ve III

41-) PYBS 2012

Osmanlı Beyliği’nin Bizans sınırında kurulması, aşağıdakilerden hangisi üzerinde doğrudan etkili olmuştur?

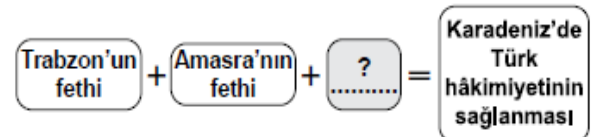
- A) Haçlı Seferlerinin yapılmasında
B) Bizans’la iyi ilişkiler kurulmasında
C) Anadolu Türk birliğinin sağlanmasında
D) Osmanlıların batı yönünde genişlemesinde

42-) PYBS 2012

Aşağıdakilerden hangisi, atlı askerlerden oluşan askerî sınıftır?

- A) Yeniçeriler B) Leventler
C) Tımarlı sipahiler D) Humbaracılar

43-) SBS 2011



Şemada “?” ile boş bırakılan yere aşağıdakilerden hangisi yazılabilir?

- A) Rodos’un fethi
B) Belgrat’ın fethi
C) Mora’nın fethi
D) Kırım’ın fethi

44-) SBS 2011

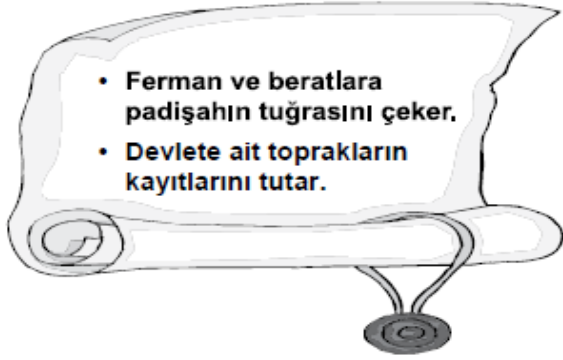


Osmanlılar, Kuruluş Döneminde büyük askeri zaferler kazanmışlardır.

diyen Ayşe, aşağıdakilerden hangisini bu görüşüne örnek gösteremez?

- A) Niğbolu Savaşı
- B) Ankara Savaşı
- C) Varna Savaşı
- D) I. Kosova Savaşı

45-) SBS 2011



- Ferman ve beratlarla padişahın tuğrasını çeker.
- Devlete ait toprakların kayıtlarını tutar.

Yukarıda görevi tanımlanan divan üyesi aşağıdakilerden hangisidir?

- A) Nişancı
- B) Kazasker
- C) Defterdar
- D) Sadrazam

46-) SBS 2011

19. yüzyılda Osmanlı Devleti'nde;

- Divanihümayun'un kaldırılarak Bakanlıkların kurulması
- İzmir-Aydın demiryolunun yapılması
- Ziraat Bankasının açılması gibi yenilikler yapılmıştır.

Bu bilgilere göre, hangi alanda yenilik yapıldığı söylenemez?

- A) Ulaştırma
- B) Yönetim
- C) Eğitim
- D) Ekonomi

47-) SBS 2010

Aşağıdakilerden hangisi İstanbul'un fethiyle Osmanlı Devleti'nin ekonomik kazanç elde ettiğinin göstergesi olamaz?

- I- Önemli ticaret yollarının İstanbul ve Çanakkale boğazlarından geçmesi
- II- Bizans'ın Karadeniz ticaret yolundan vergi alması
- III- İstanbul'daki Hristiyan bilim adamlarının İtalya'ya göç etmesi

- A) Yalnız I
- B) Yalnız III
- C) I - II
- D) II - III

48-) SBS 2010

Lale Devrinde, Osmanlı Devleti'nin Viyana, Paris ve Londra gibi başkentlere ilk kez elçi göndermesinin gerekçesi aşağıdakilerden hangisidir?

- A) Batı'dan borç para alabilmek
- B) Avrupa ülkeleri ile iyi ilişkiler kurmak
- C) Avusturya ile yapılan savaşlara son vermek
- D) Avrupa'daki gelişmeleri yakından izlemek

48-) SBS 2010



Bu konuşma ile kendini tanıtan Osmanlı askeri, aşağıdakilerden hangisidir?

- A) Akıncı B) Yeniçeri
C) Levent D) Tımarlı sipahi

49-) SBS 2010

Osmanlılar, Rumeli ve Balkanlarda fethet-
tikleri yerlere Anadolu'dan getirdikleri ko-
nar göçer Türkmenleri yerleştirmişlerdir.
Size göre Osmanlıların bu uygulamasının
amacı ne olabilir?



- A) Balkanlı ulusları Müslüman olmaya zorlamak
B) Rumeli ile Anadolu arasında sosyal ilişkileri geliştirmek
C) Fethedilen yerlerde kalıcı egemenlik kurmak
D) Türklere karşı Haçlı ordusu oluşturulmasını önlemek
- Erdoğan
Yasemin
Omer
Nurgül

50-) SBS 2009



Yukarıda verilen şemada "?" ile gösterilen yere, aşağıdakilerden hangisi yazılabilir?

- A) Maltepe (Pelekanon) Savaşı
B) Varna Savaşı
C) Ankara Savaşı
D) Otlukbeli Savaşı

51-) SBS 2009

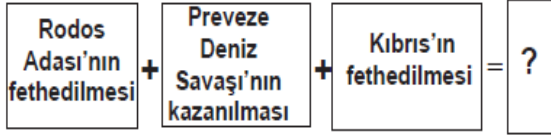
Osmanlı Beyliği'nin kısa sürede genişleme-
sinin sebeplerinden bazıları şunlardır:

- 1) Moğollardan kaçan birçok Oğuz boyunun Osmanlılara katılması
- 2) Komşu Türk beylikleriyle barış içinde kalmaya önem vermesi
- 3) Yöneticilerinin yetenekli olması
- 4) Taht kavgaları ve iç karışıklıklar içinde bulunan Bizans sınırında kurulması

Kaç numaralı kutuda verilen bilgi ile Osmanlı Beyliği'nin kısa sürede genişlemesinde coğrafi konumunun önemi belirtilmiştir?

- A) 1 B) 2 C) 3 D) 4

52-) SBS 2009

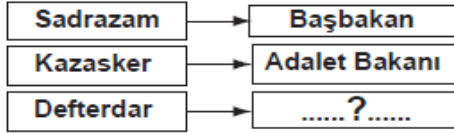


Verilen diyagramda “?” ile gösterilen yere aşağıdakilerden hangisi getirilebilir?

- A) Boğazlar Türk egemenliğine girmiştir.
- B) Haçlılar Türkleri yenilgiye uğratmıştır.
- C) Akdeniz’de Türk egemenliği güçlenmiştir.
- D) Barbaros Hayrettin Paşa Kaptanıderya olmuştur.

53-) SBS 2009

Aşağıdaki şemada bazı divan üyelerinin günümüzde hangi bakanlıklarla benzerlik gösterdiği belirtilmiştir.



Buna göre şemadaki boş yere, aşağıdakilerden hangisi yazılabilir?

- A) Maliye Bakanı
- B) Devlet Bakanı
- C) Millî Eğitim Bakanı
- D) Millî Savunma Bakanı

54-) SBS 2009



Sosyal Bilgiler öğretmenin bu sorusuna yukarıdaki öğrencilerden hangisi ya da hangileri doğru cevap vermiştir?

- A) Yalnız Betül
- B) Veli ve Betül
- C) Ayşegül ve Murat
- D) Veli ve Ayşegül

55-) SBS 2009

Türkler, Hristiyan ve Müslüman farkı gözetmeksizin adaleti herkese eşit olarak uyguladılar. Kadılar, Hristiyanları İncil, Yahudileri Tevrat üzerine yemin ettirirler.

Buna göre Osmanlı yönetiminin farklı din-den vatandaşlarına karşı tutumu ile ilgili olarak, aşağıdakilerden hangisi söylenemez?

- A) Hoşgörülü
- B) Eşitlikçi
- C) Baskıcı
- D) Adil

56) SBS 2008

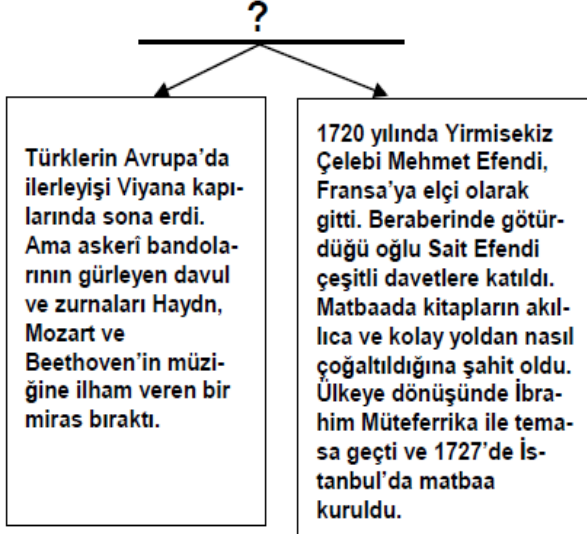


Yukarıda Osmanlı Döneminden günümüze kadar varlığını devam ettiren değişik dinlere ait bazı ibadet yerlerinin temsili resimleri verilmiştir.

Bu resimlerden yola çıkarak Osmanlı toplumu için aşağıdakilerden hangisi söylenemez?

- A) Farklı kültürler bir arada yaşamıştır.
- B) İnanç ve ibadet hürriyeti sağlanmıştır.
- C) Adaletli ve hoşgörülü bir yönetim uygulanmıştır.
- D) İbadet hayatı yalnızca İslamiyet'e göre yaşanmıştır.

57-) SBS 2008



Bu diyagrama verilebilecek en iyi başlık aşağıdakilerden hangisidir?

- A) Yenilikler ve Osmanlı Devleti
- B) Etkiledik, Etkilendik
- C) Farklı Kültürler Bir Arada Yaşadı
- D) Buluşların Serüveni

58-) SBS 2008

Osmanlı Devleti'nde yapılan ıslahat hareketleri sonucunda;

- Matbaa kuruldu,
- Ziraat Bankası açıldı,
- Posta teşkilatı kuruldu.

Bu ıslahatlar, aşağıdaki alanların hangisinde değişim yaşandığına kanıt olamaz?

- A) Askerlik
- B) Ekonomi
- C) Kültür
- D) Haberleşme

59-) DPY 2007

- I- Mercidabık Savaşı
- II- Varna Savaşı
- III- Kıbrıs'ın Fethi
- IV- Niğbolu Savaşı

Yukarıdaki tarihî olaylar kronolojik sıraya göre verildiğinde hangisi en sonda yer alır?

- A) I
- B) II
- C) III
- D) IV

60-) DPY 2007

Anadolu ve Rumeli toprakları arasında kalan Bizans İmparatorluğu, Osmanlı Devleti'nin toprak bütünlüğünü engelliyordu.

Bu durum aşağıdakilerden hangisinin fethi ile ortadan kaldırılmıştır?

- A) Edirne
- B) Kırım
- C) Trabzon
- D) İstanbul

61-) DPY 2007

Osmanlılar tarafından aşağıdakilerden hangisinin fethi, İnebahtı Deniz Savaşı'na neden olmuştur?

- A) Kıbrıs
- B) Kırım
- C) Mora
- D) Girit

62-) DPY 2007

Fatih Sultan Mehmet'in;

- Cenevizlilerden Amasra'yı alması
- Trabzon İmparatorluğu'na son vermesi
- Kırım'ı Osmanlıya bağlaması

gibi faaliyetleri, Osmanlı Devleti'nin en çok hangi alandaki gelişmesine katkı sağlamıştır?

- A) Sanat
- B) Ticaret
- C) Bilim
- D) Tarım

63-) DPY 2007

Lale Devrinde gerçekleşen;

- Çiçek aşısı uygulamasının yapılması
- İstanbul'da kumaş ve çini fabrikalarının açılması

gibi yenilikler, aşağıdaki alanlardan hangileriyle ilgilidir?

- A) Eğitim - Sanayi B) Sağlık - Sanayi
C) Askeri - Siyasi D) Askeri - Sağlık

64-) DPY 2007

Aşağıdaki Divan-ı Hümayun üyelerinden hangisi kadı ve müderrislerin atama ve görevden alma işlerine bakar?

- A) Defterdar B) Nişancı
C) Sadrazam D) Kazasker

65-) DPY 2007

Osmanlı Devleti'nde önemli devlet işlerinin görüşülüp karara bağlandığı kurul, aşağıdakilerden hangisidir?

- A) Yeniçeri Ocağı B) Divan-ı Hümayun
C) Enderun D) Darülaceze

66-) DPY 2006

Fatih Sultan Mehmet Amasra, Sinop, Trabzon ve Kırım'ı almakla aşağıdaki denizlerden hangisinde Türk egemenliğini sağlamayı amaçlamıştır?

- A) Akdeniz B) Karadeniz
C) Ege D) Marmara

67-) DPY 2005

Aşağıdakilerden hangisi, II. Mehmet'in İstanbul'u fethetmek için yaptığı hazırlıklar arasında sayılamaz?

- A) Büyük topları döktürmesi
B) Rumeli Hisarı'nı yaptırması
C) Haliç'in girişini büyük zincirlerle kapatması
D) Güçlü bir donanma meydana getirmesi

68-) DPY 2005

Osmanlılarda tapu ve kadastro işlerinden sorumlu divan üyesi, aşağıdakilerden hangisidir?

- A) Nişancı B) Defterdar
C) Yeniçeri Ağası D) Şeyhülislâm

69-) DPY 2005

Osmanlıların, Akdeniz'deki üstünlüğünü Avrupalılara kabul ettirdiği başarısı, aşağıdakilerden hangisidir?

- A) Mısır'ın fethi
B) Rodos'un fethi
C) Cezayir'in Osmanlı Devletine bağlanması
D) Preveze Deniz Savaşı'nın kazanılması

70-) DPY 2005

Fatih Sultan Mehmet tarafından 1461'de Trabzon'un ele geçirilmesi ile yıkılan Trabzon Rum İmparatorluğu, aşağıdaki hangi gelişme sonrasında kurulmuştur?

- A) IV. Haçlı Seferi sonucunda
B) I. Haçlı Seferi öncesinde
C) Malazgirt Zaferi sonrasında
D) Kırım'ın fethiyle

71-) DPY 2005

Aşağıdaki yerlerden hangisinin Osmanlılarca ele geçirilmesi, İnebahtı Körfezi'nde Haçlı donanması ile Osmanlı donanmasının savaşmasına neden olmuştur?

- A) Kıbrıs B) Mora C) Kırım D) İstanbul

72-) DPY 2004

Karadeniz'in bir Türk gölü haline gelmesi ve Doğu ticaret yollarının güvenlik altına alınması aşağıdakilerden hangisinin fethiyle tamamlanmıştır?

- A) İstanbul B) Trabzon
C) Amasra D) Kırım

73-) DPY 2004

- I. Yavuz Sultan Selim padişah olunca Şah İsmail onu tebrik için elçi göndermedi.
II. Şah İsmail Doğu Anadolu'da ayaklanmalar çıkartmaya başladı.
III. Osmanlılar Doğu Anadolu'da güvenliği tam olarak sağlamak istedi.

Bu bilgilerde aşağıdaki savaşlardan hangisinin sebepleri belirtilmiştir?

- A) Çaldıran B) Otlukbeli
C) Mercidabık D) Mohaç

74-) DPY 2004

Osmanlı Devleti'nde Divan-ı Hümayûnun kaldırılması ve Nezaretlerin (Bakanlıklar) kurulması hangi padişah döneminde olmuştur?

- A) III.Selim B) II.Abdülhamit
C) III.Mustafa D) II.Mahmut

75-) DPY 2004

Aşağıdakilerden hangisi Osmanlı Devleti'nin İstanbul'u ele geçirmek istemesinin gerekçesi değildir?

- A) Asya ve Avrupa'yı birbirine bağlayan yollar üstünde olması
B) Baharat ticaret yolunun İstanbul'da bitmesi
C) Avrupalıların Türkleri Balkanlardan çıkarma ümitlerinin kırılabilmesi
D) Bizansın Avrupa devletlerini Osmanlı aleyhine kışkırtması

76-) DPY 2003

Aşağıdakilerden hangisi Fatih Sultan Mehmet'in Karadeniz'de Türk egemenliğini sağlamaya yönelik yaptığı çalışmalardan biri değildir?

- A) Cenevizlilerden Amasra'nın alınması
B) Otlukbeli Savaşı'nın yapılması
C) Trabzon Rum İmparatorluğuna son verilmesi
D) Kırım Hanlığının Osmanlı Devleti'ne bağlanması

77-) DPY 2003

Osmanlı Devleti'nin Kıbrıs adasını alması, aşağıdaki hangi gelişmeye neden olmuştur?

- A) İnebahtı Deniz Savaşı'na
B) Barbaros'un Osmanlı hizmetine girmesine
C) Portekizlilerin Hindistan ticaret yolunu kontrollerine almasına
D) Rodos adasının kuşatılmasına

78-) DPY 2003

Lale Devrinde düşünce hayatının gelişmesinde aşağıdaki yeniliklerden hangisinin daha çok etkisi olduğu söylenebilir?

- A) Birçok mimarî eserlerin yapılması
B) Avrupa başkentlerine elçiler gönderilmesi
C) Kağıt fabrikalarının açılması
D) Çeşitli eserlerin Türkçe'ye çevrilmesi

79-) DPY 2003

Aşağıdaki ordulardan hangisi, II. Mahmut döneminde kurulmuş değildir?

- A) Sekban-ı Cedit
B) Nizam-ı Cedit
C) Eşkinci Ocağı
D) Asakir-i Mansure-i Muhammediye

80-) DPY 2002

İstanbul'un fethiyle, kale ve surların top gülleriyle yıkılabileceği anlaşıldı. Bu gelişme, Avrupa'da aşağıdakilerden hangisinde etkili olmuştur?

- A) Rönesans hareketlerinin hızlanmasında
B) Kralların, derebeylerin egemenliğine son vermesinde
C) Yeni ticaret yollarının bulunmasında
D) Coğrafi Keşiflerin başlamasında

81-) DPY 2002

Kanuni Sultan Süleyman döneminde gerçekleşen aşağıdaki olayların hangisi Osmanlı Devleti'nin üstünlüğü ile sonuçlanmamıştır?

- A) Alman Seferi
B) Mohaç Meydan Savaşı
C) Belgrat'ın kuşatılması
D) I. Viyana kuşatması

82-) DPY 2002

Aşağıdakilerden hangisi, III. Selim döneminde askeri alanda yapılan yeniliklerden biridir?

- A) Müslüman olmayanlarında askerlik görevine alınması
- B) Harp Okulunun açılması
- C) Yeniçeri Ocağı'nın kaldırılması
- D) Nizam-ı Cedit Ordusunun kurulması

83-) DPY 2001

İstanbul'un fethi Dünya ve Türk tarihi açısından oldukça önemli sonuçlar ortaya koymuştur. Bu sonuçlardan hangisi coğrafi keşiflerin başlamasında etkili olmuştur?

- A) Türklerin Avrupa'ya ilerlemelerinin kolaylaşması
- B) Osmanlı topraklarında bütünlük sağlanması
- C) Bizans Devleti'nin yıkılması
- D) Önemli ticaret yollarının Türklerin eline geçmesi

84-) DPY 2001

Osmanlılarda, kadıları ve müderrisleri atama ve görevden alma işlerini aşağıdakilerden hangisi yürütürdü?

- A) Kazasker
- B) Şeyhülislâm
- C) Nişancı
- D) Defterdar

85-) DPY 2001

Aşağıdakilerden hangisi Karadeniz'in bir Türk gölü haline getirilmesini sağlamaya yönelik fetihlerden değildir?

- A) Trabzon'un alınması
- B) Kırım'ın alınması
- C) Amasra'nın alınması
- D) Edirne'nin alınması

86-) DPY 2001

Aşağıdakilerden hangisi II. Mahmut zamanında yapılan yeniliklerden değildir?

- A) Divan-ı Hümayun'un kaldırılması
- B) İlk resmi gazetenin çıkarılması
- C) Tanzimat Fermanı'nın ilan edilmesi
- D) Avrupa'ya öğrenci gönderilmesi

87-) DPY 2000

Aşağıdakilerden hangisi, İstanbul'un fethini gerektiren sebeplerden biri değildir?

- A) Osmanlı Devleti'nin Anadolu'dan Rumeli'ye, asker geçirmekte zorlanması
- B) Surların, top gülleri ile yıkılabileceğinin anlaşılması
- C) Bizans'ın Osmanlı şehzadelerini ayaklanmaları için teşvik etmesi
- D) Bizans'ın Avrupa devletlerini ve Anadolu beyliklerini kışkırtması

88-) DPY 2000

Aşağıdaki yeniliklerden hangisi, III.Selim döneminde yapılmamıştır?

- A) Nizam-ı Cedit Ocağı'nın kurulması
- B) Ordunun ihtiyaçları için özel bir hazine kurulması
- C) Çiçek aşısının ilk defa uygulanması
- D) Avrupa başkentlerinde sürekli elçiliklerin kurulması