



1. Aşağıdakilerden hangisi en büyük negatif tamsayıdır?

- A) -10  
C) -2  
B) -1  
D) -3

2. Aşağıdaki sayılardan hangisi en küçüktür?


- A) -99  
C) -6  
B) -10  
D) -5

3. Aşağıdaki sayılardan hangisi en büyüktür?

- A) -20  
C) -9  
B) -11  
D) -8

4.

Şehir	Hava Durumu
Van	-6 derece
İstanbul	5 derece
Ankara	0 derece
Erzurum	-10 derece



Yukarıdaki tabloya göre en soğuk il hangisidir?

- A) Van  
B) İstanbul  
C) Ankara  
D) Erzurum

5. Yalova'da hava sıcaklığı  $5^{\circ}\text{C}$ 'dir.

Hava sıcaklığı  $8^{\circ}\text{C}$  düşerse kaç  $^{\circ}\text{C}$  olur?

- A) 3  
C) -2  
B) 2  
D) -3

6. Sayı doğrusunda 3 ile -3 arasında kaç tane tam sayı vardır?

- A) 0  
C) 3  
B) 1  
D) 5

7. Sayı doğrusunda -4 ile -6 arasındaki tam sayının 2 fazlası kaçtır?

- A) -3  
C) -5  
B) -2  
D) -7

8. Ayşe'nin aklından tuttuğu sayı -12'dir. Bu sayının 3 eksiği aşağıdakilerden hangisidir?


- A) -9  
B) -10  
C) -15  
D) -17



9. Aşağıdakilerden hangisi iki basamaklı en küçük negatif tamsayıdır?

- A) -20  
B) -99  
C) -10  
D) -12

10. Bir dalgıç 300 metre derine dalmıştır.




Bu dalgıç 50 metre yukarıya doğru hareket ederse deniz seviyesine göre derinliği kaç metre olur?

- A) -250  
B) -350  
C) -300  
D) -200

11. Sarı renkli toplar -2 , kırmızı renkli toplar 3 ve mavi renkli toplar -1 ise torbadaki topların toplam sayısal değeri kaçtır?

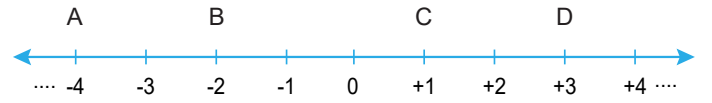
- A) -4  
B) 0  
C) -1  
D) -3



12. Mert'in cebinde 3TL'si vardır. Babası Mert'e 8TL harçlık veriyor. Mert kırtasiyeden 4 TL'lik kalem aldıktan sonra cebinde kaç TL'si kalır?

- A) 4  
B) 7  
C) 11  
D) 15

13.



Yukarıdaki sayı doğrusunda A ile D arasındaki tam sayıların toplamı kaçtır?

- A) -3  
B) -1  
C) 0  
D) 1

14. Yandaki buzdolabına koyulan bir bardak suyun her 4 dakikada sıcaklığı 6 °C azalıyor.

Bu buzdolabına sıcaklığı 15 °C olan bir bardak su koyuluyor. 12 dakika sonra suyun sıcaklığı kaç °C olur?

- A) -4  
B) 0  
C) -1  
D) -3



## CEVAP ANAHTARI

1. B
2. A
3. D
4. D
5. D
6. D
7. A
8. C
9. B
10. A
11. A
12. B
13. A
14. D