

1. Aşağıdaki ekonomik faaliyetlerden hangisinin dünyada nüfua patlamasına neden olduğu süylenebilir?

- A) Ticaret B) Ulaşım C) Sanayi
D) Turizm E) İnşaat

2. Ekonomik faaliyetlerin sşitlenmesinde rol oynayan enerji kaynakları aşağıdaki seçeneklerin hangisinde geçmişten günümüze doğru hullanılığına göre arıalanmıştır?

- A) Elektrik, hayvan gücü, bular gücü
B) Hayvan gücü, buhar gücü, elektrik
C) Buhar gücü, elektrih, hayvan gücü
D) Hayvan gücü, elektrik, buhar gücü
E) Elektrik, buhar gücü, hayvan gücü

18. yüzyıla kadar Dünya'da temel geçim kaynağı birincil faaliyetlerdi. Buhar makinesinin icadıyla başlayan sanayileşme süreci teknolojik bulutlar ile hızlanmış ve ikincil faaliyetler dünya ekonomisinin temelini oluşturmuştur.

Buna göre,

I. enerji üretimi

II. inşaat

III. imalat

IV. ulaşım

yukarıdakilerden hangileri dünya ekonomisinin temelini oluşturan ikincil faaliyetler içinde yer almaz?

- A) Yalnız I B) Yalnız II C) Yalnız IV
D) I ve II E) I, II, ve IV

4. Günümüzde dünya ekonomisinin temelini oluşturan ikincil faaliyetler enerji üretimi, inşaat ve imalat sektörlerini içine alır. İkincil faaliyetler gelişmiş ülkelerde daha ileri düzeydedir.





Buna göre, yukarıdaki haritada işaretli alanlardan hangisinde **ikincil** faaliyetlerin yoğun olduğu söylenemez?

- A) I B) II C) III D) IV E) V

5. **Aşağıdaki ekonomik faaliyetlerden hangisi birincil faaliyetler içinde yer almaz?**

- A) Tarım B) Turizm C) Hayvancılık
D) Ormancılık E) Madencilik

8. Tarım, hayvancılık, balıkçılık, ormancılık ve madencilik'in oluşturduğu birincil ekonomik faaliyetler doğal kaynakların kullanımına dayanır ve gelişmekte olan ülkelerin ekonomisinde önemli yer tutar. Buna göre, aşağıda verilen ülkelerden hangisinin ekonomisinde birincil faaliyetlerin payı en fazladır?

- A) ABD B) Romanya C) İsveç
D) İtalya E) İngiltere

1.

ülke	Tarım	Sanayi	Hizmet
I	7,4	31,3	61,3
II	28,5	28,1	43,4
III	46	20	34

Yukarıdaki tabloda üç ülkede çalışan nüfusun ekonomik sektörlere dağılım oranları verilmiştir.

Buna göre, bu ülkeler aşağıdaki seçeneklerden hangisinde sırasıyla verilmiştir?

- A)
Fransa Yunanistan Mısır

- B) Mısır Fransa Yunanistan
C) Yunanistan Mısır Fransa
D) Fransa Mısır Yunanistan
E) Yunanistan Fransa Mısır

Ülke	Kent Nüfusu %	Kır Nüfusu %
X	62	38
Y	90	10
Z	35	65

Yukarıda üç ayrı ülkenin kırsal ve kentsel nüfus oranları verilmiştir.

Buna göre, aşağıdaki yorumlardan hangisi bu tabloya bakılarak **soylenemez?**

- A) Ortalama insan ömrü en uzun olan X ülkesidir.
B) Z ülkesinin temel geçim kaynağı tarım ve hayvancılıktır.
C) Bebeh ölüm oranı en fazla Z ülkesindedir.
D) Okuryazarlık oranı en fazla Y ülkesindedir.
E) En fazla sanayileşme Y ülkesindedir.

9. Bir ülkede;

- Genç nüfus oranı az, olgun nüfus oranı fazla
- Tarımda çalışanların oranı az, sanayide çalışanların oranı fazla

ise, bu ülkeyle ilgili aşağıdaki yargılardan hangisine varılabilir?

- A) Çayır ve mera hayvancılığı yaygındır.
B) Nüfusun dağılışı doğal şartlarına bağlıdır.
C) Nüfus artış hızı yavaştır.
D) Nüfus çoğunluğu fazladır.
E) Yaşlı nüfus oranı oldukça azdır.

10. Pazarlama, turizm, eğitim, sağlık, bankacılık, ulaşım gibi hizmetlerin bulunduğu üçüncül faaliyetler gelişmiş ülkelerde yaygındır.

Buna göre, üçüncül ekonomik faaliyetlerin geliştiği bir ülke için aşağıdaki yargılardan hangisi

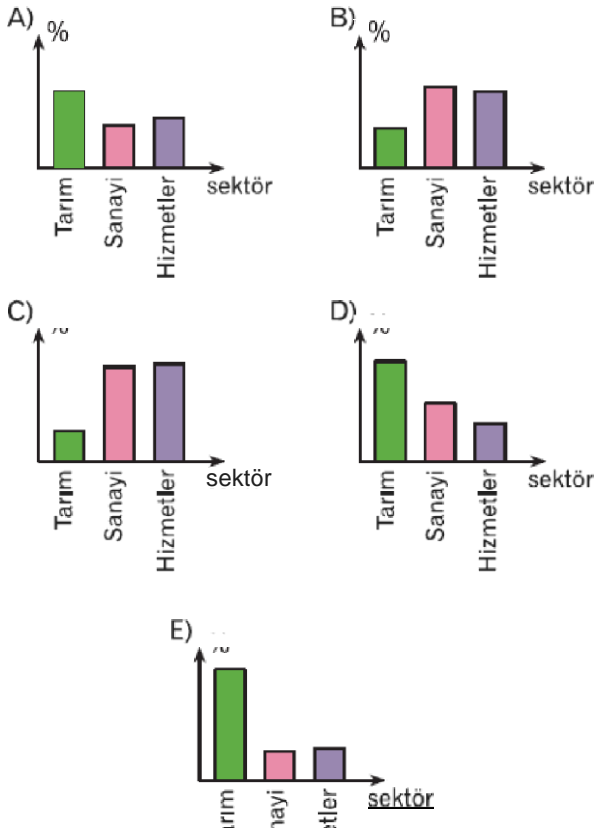
sine ulaşamaz?

- A) Kentleşme oranı yüksektir.
- B) Genç nüfus oranı azdır.
- C) Okuryazar oranı yüksektir.
- D) Aktif nüfus oranı fazladır.
- E) Nüfus çoğunluğu fazladır.

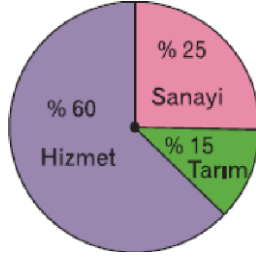
11. Aşağıdakilerden hangisi ekonomik açıdan geri kalmış bir ülkenin nüfus özellikleri arasında güsterilemez?

- A) Nüfusun büyük bölümü kırsal Resimde yaşar.
- B) Okuryazar oranı düşüktür.
- C) Yaşlı nüfus oranı fazladır.
- D) Nüfusun ülke içine dağılımı düzensizdir.
- E) Tarım da makineleşme azdır.

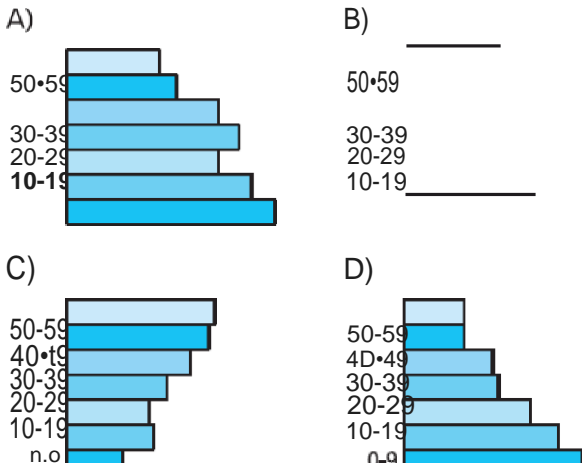
12. Bir ülkenin gelişme düzeyini gösteren en belirleyici unsurlardan biri, çalışan nüfusun ekonomik faaliyet kollarına göre dağılımıdır. Buna göre, aşağıda nüfusun ekonomik faaliyetlere göre dağılımı verilen grafiklerden hangisinin ait olduğu ülke daha fazla gelişmiştir?



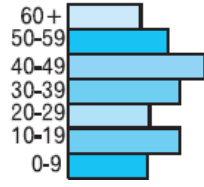
13. Yandaki grafikte bir ülkedeki çalışan nüfusun ekonomik faaliyet kollarına göre dağılımı verilmiştir. Buna göre, bu ülke için aşağıdakilerden hangisi **kesinlikle doğrudur**?



- A) Ham madde ihraç eder.
B) Doğum oranı yüksektir.
C) Kırsal nüfus oranı yüksektir.
D) Takımda çalışanların oranı en azdır.
E) Ortalama ömür kısadır.
14. Bir ülkede 65+ yaş **nüfusunun** fazla **olması** aşağıdakilerden hangisinin göstergesidir?
- A) Ekonominin tarım ve hayvancılığa bağlı olduğunun
B) Sağlık hizmetlerinin gelişmiş olduğunun
C) Kişi başına düşen milli gelirin az olduğunun
D) Yüzey şekillerinin engebeli olduğunun
E) Okuryazar oranının az olduğunun
15. 15—64 yaş arası, uluslararası kurallara göre aktif nüfus olarak bilinir. Yani çalışabilecek, ekonomik faaliyetlere katılabilecek nüfustur. Buna göre, aşağıda verilen nüfus piramitlerinden hangisinde alt sınıf nüfus alanının **daha fazla** olduğu söylenebilir?



E)



16. Bir ülkede tarımda çalışanların oranı az, tarımsal ürünlerin ihracatı fazla ise aşağıdakilerden hangisi söylenebilir?

- A) Sanayi ürünleri ithalatı fazladır.
- B) Nitelikli işçi payı azdır.
- C) Doğal koşulların insan yaşamı üzerindeki etkisi azdır.
- D) Gelişme düzeyi düşüktür.
- E) Enerji tüketimi azdır.

www.derskitabicevaplari.com

Cevaplar :

1)C, 2)B, 3)C, 4)E, 5)B, 6)B, 7)A, 8)A, 9)C, 10)E, 11)C, 12)C, 13)D, 14)B, 15)C, 16)C,