



natmış ve Kavimler E>öçü'ne neden olmuştur.

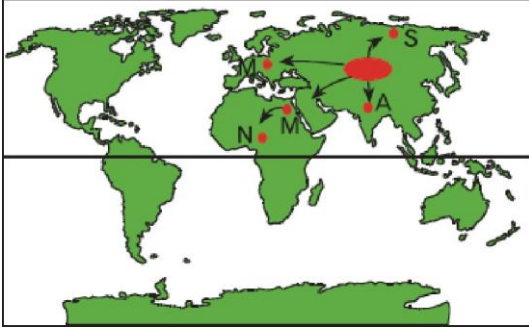
**Buna göre, güçlerin yönleri düşünülduğünde,**

- I. Avrupa
- II. Amerika
- III. Asya
- IV. Avustralya

**yukarıdaki kıtalardan hangilerinin kavimler göçünden etkilendiği söylenemez?**

- A) Yalnız II
- B) I ve II
- C) II ve IV
- D) III ve IV
- E) II, III ve IV

5. 4. Yüzyılın sonlarına doğru gerçekleşen Kavimler Göçü, tarihteki en büyük kitlesel göç hareketlerinden biridir.



Buna göre, Orta Asya'dan yola çıkan kavimlerin gittiği yön ve vardığı ülke eşleştirmelerinden **hangisi yanlıştır?**

- A) Kuzey - Sibiryaya
- B) Batı - Mısır
- C) Güney—Afganistan
- D) Batı — Macaristan
- E) Güneybatı — Nijerya

6. İnsanların yaşama koşullarını iyileştirmek için kişisel güvenlik, özgürlük ve bağımsızlık şansı, eğitim ve kültürle ilgili fırsatlar gibi toplumsal olanakların bulunduğu alanlara gitmesi sosyal nedenli göçleri oluşturur.

Buna göre, aşağıdaki ülkelerden hangisinin sosyal nedenlere bağlı olarak **daha fazla göç aldığı** **söylenbilir?**

- A) İspanya
- B) ABD
- C) Mısır
- D) Hindistan
- E) Rusya

7. I. Güney Afrika'daki elmas ve altın yataklarını işletmek  
II. Avustralya'daki altın yataklarını işletmek

III. ABD'deki petrol ve taş kömürü yataklarını işletmek

Yukarıda belirtilen amaçlarla başta Avrupa olmak üzere Dünya'nın çeşitli yerlerinden göç dalgaları yaşanmıştır.

Bu olay aşağıdaki nedenlerden hangisine bağlı meydana gelen **goçlere örnek** verilebilir?

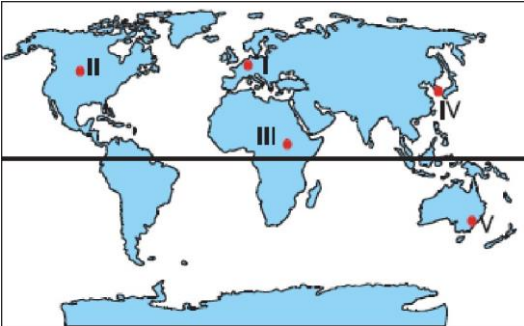
- A) Doğal nedenler
- B) Siyasi nedenler
- C) Ekonomik nedenler
- D) Sosyal nedenler
- E) Tarihi nedenler

8. Doğal afetlerden biri de eğime, yağış fazlalığına bağlı olarak meydana gelen heyelan ve toprak kaymalarıdır.

**Türkiye'de iklim ve yer şekilleri dğünldüğünde aşağıdaki yerlerden hangisinde bu nedenlere bağlı olarak daha fazla göç yaşanacağı söylene**

- A) Ergene Bölümü
- B) Doğu Karadeniz Bölümü
- C) İç Batı Anadolu Bölümü
- D) Güney Marmara Bölümü
- E) Orta Karadeniz Bölümü

- a. Sosyal nedenlerle meydana gelen göçler genellikle eğitim ve sağlık hizmetlerinin geliştiğı, kültürel faaliyetlerin çeşitli ve yoğun olduğı yerlere doğru olur.



**Bana göre, yukarıdaki haritada verilen alanlardan hangisinin çevresindeki ülkelerden sosyal nedenlere **bağlı** olarak **goç aldığı** söylenemez?**

- A) I
- B) II
- C) III
- D) IV
- E) V

10. Amerika Kıtası'nın keşfedilmesiyle başlayan ve 20. yüzyıla kadar süren Yeni Dünya'ya göçler sayesinde 65 milyon insan yer değiştirmişlerdir.

Buna göre;

I. Tarım Devrimi

II. Sanayi Devrimi

III. Kavimler Göçü

IV. Fransız İhtilali

yukarıdaki olaylardan hangilerinin yaşandığı dönemde Yeni Dünya olarak bilinen Kuzey ve Güney Amerika'ya göç yaşandığı söylenemez?

- A) I ve II      B) I ve III      C) II ve III  
D) II ve IV      E) III ve IV

11. 15. Yüzyıl sonuna doğru Christoph Colomb, Macellan ve Amerigo Vesputi'nin yaptığı seyahatlerle keşfedilen Amerika'ya 20. yüzyıla kadar Avrupa'dan 65 milyon kadar insan göç etmiştir.

**Buna göre, Avrupalılar'ın Amerika'ya göçlerinin temel nedeni** aşağıdakilerden **hangisiyle** açıklanabilir?

A) Yeni bulunan kaynakların işletilmesi

B) Tarım potansiyeli yüksek toprakların bulunması

C) Sanayi faaliyetlerinin yoğun olması

D) Özgür düşünce kavramının gelişmesi

E) Nemli ve ılıman iklimlerin görülmesi

12. Amerika Kıtası'nın keşfedilmesiyle birlikte Avrupa'dan Amerika'ya doğru göç hareketleri yaşanmıştır.

I. İngilizler      Güney Amerika

II. Fransızlar      Kuzey Amerika

III. İspanyollar → Güney Amerika

**Buna göre, yukarıda verilen medeniyetler ve şogunlukla göç ettikleri bölge eşleştirmelerinden hangileri yanlıştır?**

- A) Yalnız I      B) Yalnız II      C) Yalnız III  
D) I ve II      E) II ve III

13. İnsanları göçe iten çok sayıda neden vardır; bunların başında da ekonomik nedenler gelir. Yoksulluk ve işsizlik milyonlarca insanı yerinden yurdundan

etmeye devam etmektedir.

Buna göre, insanların yoksul ve işsiz kalma sorunlarının temel nedeni aşağıdakilerden hangisi-

- A) Nüfusun ülkeye düzensiz dağılması
- B) Üretimin yetersiz olması
- C) Kalkınma hmmm yavaş olması
- D) Hızlı nüfus artışı
- E) İşçi ücretlerinin düşük olması

14. Doğal nüfus artışında cinsiyete yönelik yapılan müdahaleler, nüfustaki popülasyon dengesini bozar. Bunun sonucunda ya kadın sayısı erkek sayısından fazla, ya da erkek sayısı kadın sayısından fazla olur. Bu da dengenin bozulması anlamına gelir.

Buna göre, aşağıdaki **ülkelerden** hangisinde, böyle bir popülasyon aorunu ortaya çıkmıştır?

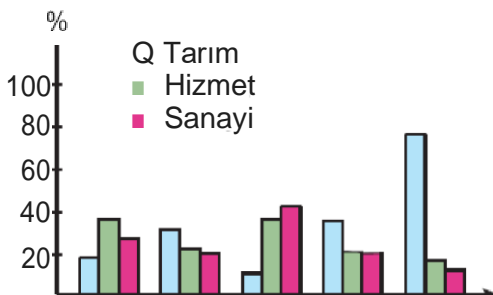
- A) Hollanda
- B) Çin
- C) Avusturya
- D) Türkiye
- E) Mısır

15. Ülkelerin kıt kaynaklarla yetiştirip belli bir seviye getirdiği kalifiye elemanlara sahip çıkıp yeterli çalışma alanları hazırlayamayınca bu elemanlar ülkelerini bırakıp farklı ülkelerde çalışmaya giderler.

Yukarıdaki paragrafta anlatılan göç türü aşağıdakilerden hangisidir?

- A) Beyin göçü
- B) İşçi göçü
- C) Mübadele göçü
- D) Sağlık amaçlı göç
- E) Eğitim amaçlı göç

16.



Yukarıdaki grafikte beş ülkeye ait nüfusun faaliyet kollarına göre çalışma alanları oransal olarak gösterilmiştir.

**Buna göre, nüfus artışının sırasıyla bu ülkelerden hangilerinde olumsuz etkisinin en az ve en fazla olması beklenir?**

- A) I ve II                      B) I ve III                      C) III ve IV  
D) IV ve V                      E) III ve V

17. Doğal afetler ya da doğanın dengesinde meydana gelen değişikliklerden sonra insanların yer değiştirmesi, doğal nedenlere bağlı göçlere örnektir.

**Buna göre, aşağıdakilerden hangisinin göçe neden olan doğal nedenler arasında olduğu söylenemez?**

- A) Deprem  
B) Volkanizma  
C) Kasırga  
D) Yer altı kaynakları  
E) Erozyon

18. Merkezi deniz dibinde olan ve derin depremlerden sonra zemin çökmesi ve taban kaymasıyla oluşan dev dalgalara tsunami denir. 26 Aralık 2004'te Güney Asya'da 9.1 büyüklüğündeki depremin ardından meydana gelen tsunami felaketi çok fazla can ve mal kaybı ile göçe neden olmuştur.

**Buna göre, coğrafi konumu dikkate alındığında aşağıdaki ülkelerden hangisinde tsunamiye bağlı olarak göç yaşanması beklenemez?**

- A) Ermenistan                      B) Japonya  
C) Yeni Zelanda                      D) Kanada  
E) Şili