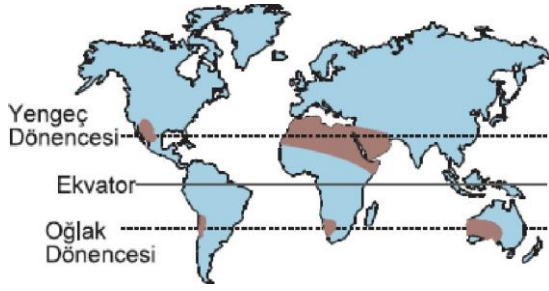


1. Aşağıdaki haritada çöl ikliminin etkili olduğu alanlar gösterilmiştir.



Buna göre, haritada tarafı olarak **gösterilen** alanlarda görülen bitki türü aşağıdakilerden hangisidir?

- A) Savan B) Bozkır C) Tundra
D) Kaktüs E) Maki

2. Dünya üzerinde görülen iklim tipleri, buldukları yerlerdeki bitki örtülerini de belirleyen faktördür. **Buna göre, aşağıdaki iklim tipi-bitki örtüsü eşleştirmelerinden hangisi doğru değildir?**

<u>İklim</u>	<u>Bitki</u>
A) Akdeniz	Alpin şayır
B) Savan	Uzun boylu otlar
C) Ilıman okyanus	orman
D) Karasal	Bozkır
E) Sert Karasal	Tayga

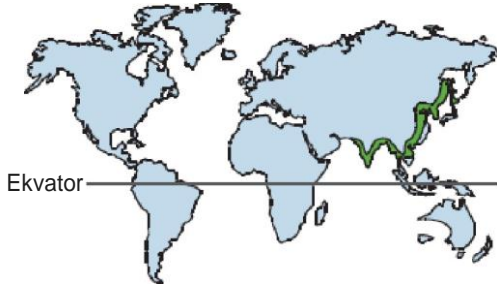
3. Bitki coğrafyası alanında araştırma yapan Coğrafya Bölümü öğrencisi Ceren araştırma için gittiği yörede boyu 1 m civarında olan ve sapı toprağın dibinden başlayıp dallara ayrılan otsu bitkiler ya da ağaçcıkların yaygın olduğunu gözlemlemiştir. Buna göre, araştırmayı yapan Ceren aşağıdaki ülkelerin hangisinde araştırma **yapmış olamaz**?

- A) Türkiye B) Yunanistan C) Kuveyt
D) İtalya E) Fransa

4. - Daima sıcak mevsim yaşama.
- Sıcaklığın arttığı dönemde yağış ta artar.
- Bitki örtüsü yayvan yapraklı ormandır.
- Yıllık yağış miktarı 2000 mm'nin üzerindedir.
Yukarıda Özellikleri verilen iklim tipi ve bitki Örtüsü aşağıdaki alanların hangisinde gerülmez?

- A) Kongo Havzası
C) Gine Körfezi
E) Mezopotamya
- B) Amazon Havzası
D) Güneydoğu Asya

5.

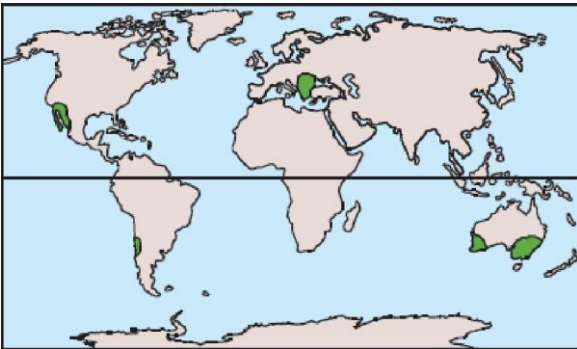


Yukarıdaki Dünya haritasında yayılış alanı verilen bitki topluluğu aşağıdakilerden hangisidir?

- A) Yağmur Ormanları
B) Muson Ormanları
C) Savan
D) Maki
E) Tundra
6. Yeryüzünde bitki örtüsünün dağılışında etkili olan temel faktör iklimdir.
Buna göre,
I. Tundra
II. Bozklr
III. Orman
IV. Maki
bitki örtülerinden hangileri (ûzel konum hariç)
30••40° enlemleri arasında görûlmez?

- A) Yalnız I
B) I ve IV
C) II ve III
D) II ve IV
E) III ve IV

7. Aşğıda yeryüzünde dağılığı gösterilen doğal bithi örtüsünün gñrûldüğü her yerde,



- I. yaz kuraklığının yaşanması

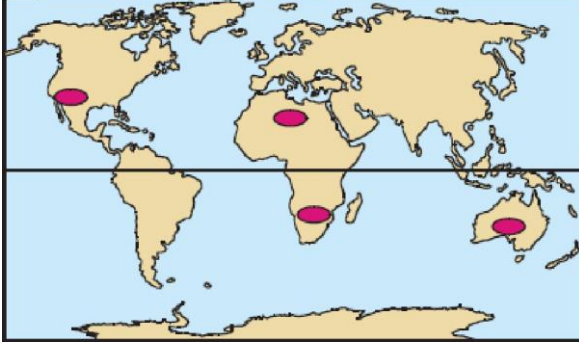
İklimin özellikleri

III. yağış rejiminin düzenli olması

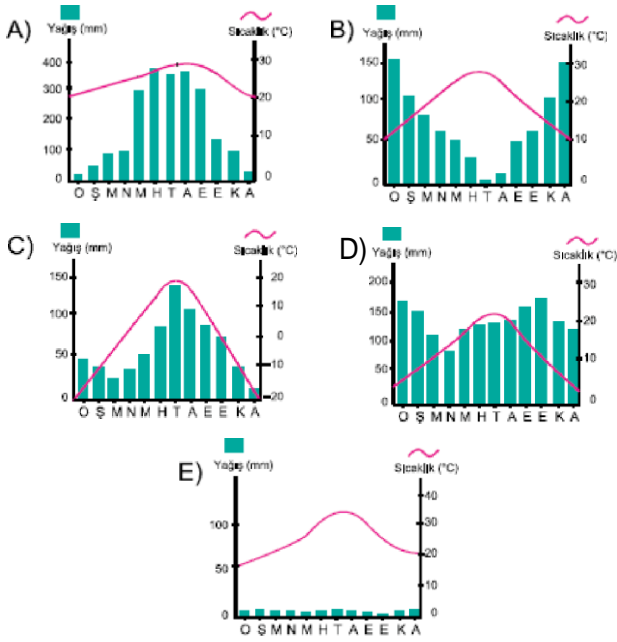
IV kış yağışlarının kar şeklinde olması

gibi özelliklerden hangilerinin ortak olması beklenir?

- A) I ve II B) I ve IV C) II ve III
D) II ve IV E) III ve IV



Yukarıdaki haritada verilen tarafları alanlarda görülen bitki örtüsünün yetişme koşullarına uygun iklim tipi aşağıdaki grafiklerle den hangisidir?

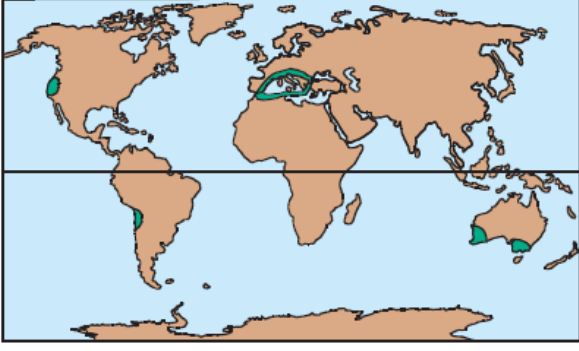


9. Orta kuşak karasal iklimin görüldüğü Gibirya çevresinde yaygın olarak bulunan iğne yapraklı bitki örtüsünden aşağıdakilerden hangisidir?

- A) Maki B) Tundra C) Bozkır
D) Tayga E) Garig

r bitki örtüsü

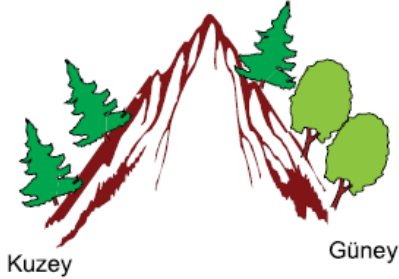
10. Aşağıdaki haritada bir bitki örtüsünün yayılış alanı gösterilmiştir.



Buna göre, farklı bölgelerde benzer bitki topluluklarının görülmesi o bölgelerde aşağıda verilen özelliklerden hangilerinin benzer olmasıyla açıklanamaz?

- A) Sıcaklık değeri
B) Yağış rejimi
C) Kış ılıklığı
D) Yağış miktarı
E) Jeolojik özellikler

11. Yandaki şekilde verilen Kuzey Yarımküre'deki yer alan bir dağın güney ve kuzey yamacında farklı ormanlara rastlanması bitki örtüsünün dağılışı üzerinde aşağıdakilerden hangisinin etkili olduğu kanıtlanır?



- A) Yağış
B) Yükselti
C) Bakı
D) Toprak
E) Eğim

www.derskitabicevaplarim.com

Cevaplar :

1)D, 2)A, 3)C, 4)E, 5)B, 6)A, 7)A, 8)E, 9)D, 10)E, 11)C,