

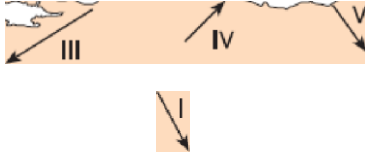
1. Toroslardan şıkan Kırkgöz kaynaklarının etkisiyle içlerindeki kirecin çökmesi sonucu Antalya travertenleri oluşmuştur.

Travertenlerin oluştuğu yerlerle ilgili,

- I. Yüzey suları fakirdir,
  - II. Tarım sınırlı bir geçim kaynağıdır.
  - III. Nüfus ve yerleşme çok yoğundur.
  - IV. Turizm potansiyeline sahiptir.
  - V. Toprak tabakası kalın ve oluşumu hızlıdır.
- yargılarından hangileri soylenemez?

- A) I ve II                      B) I ve IV                      C) II ve III  
D) III ve V                      E) IV ve V

2. Yeryüzündeki kayaların günlük veya yıllık sıcaklık farklarına bağlı olarak parçalanıp ufalanmasına, mekanik çözülme denir.



Buna göre, haritada işaretli hangi ok yönünde **gidildikçe** mekanik çözülmenin daha fazla artacağı söylenebilir?

- A) I                      B) II                      C) III                      D) IV                      E) V

3. Türkiye'de enine kıyı tipinin görüldüğü yerlerle il-

- I. Kıyıda çok sayıda doğal liman yer alır.
- II. Kıyı; koy, körfez, yarımada ve ada bakımından zengindir.
- III. Kıyı ile iç kesimler arasında ulaşım kolaydır.
- IV. Kıyı ile iç kesimler arasında iklim farklılıkları belirgin değildir,
- V. Kıyı birden bire derinleşir ve doğal plajlar bulunmaz.

**gibi yukarıdaki verilen bilgilerden hangisinin doğru olduğu söylenemez?**

- A) I                      B) II                      C) III                      D) IV                      E) V

4. Kıyılarımızda gelgit şiddeti az olduğu için akarsuların denize döküldüğü yerlerde verimli delta ovaları oluşmuştur. Bu ovaların en büyüğü Seyhan ve Ceyhan akarsularının ortak deltası olan Çukurova'dır.



**Çukurova Dahası, yukarıdaki haritada işaretli noktaların hangiinde yer alır?**

- A) I      B) II      C) III      D) IV      E) V

5. I. Türkiye'de kumullar; deltalarda ve Karaman'da görülür.  
II. Türkiye'de peri bacaları ve kırgıbayır gibi yer şekilleri Niğde ve Nevşehir'de görülür.  
III. Türkiye'de polye, obruk ve dolin gibi yer şekilleri Akdeniz Bölgesi ile İç Anadolu Bölgesi'nin güneyinde görülür.

**Yukarıdaki bilgilerden hangilerinin doğru olduğu söylenebilir?**

- A) Yalnız I      B) Yalnız II      C) I ve II  
D) II ve III      E) I, II ve III

**6. Buzul şekillenmesiyle ilgili,**

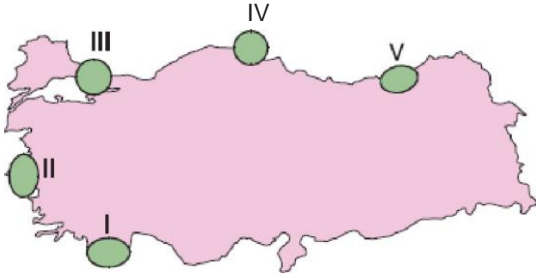
- I. Ülkemizde buzullaşma sınırı, 2200-2300 metreden başlamahtadır.  
II. Yüksek dağlarda buzulların eriyerek hareket etmesi ile çeşitli buzul aşındırma şekilleri oluşmuştur.  
III. Çukur yerlerdeki buzulların hareket etmesi ile sirkler oluşmuştur.  
IV. Sirklerden çıkan buzulların akarsu vadileri boyunca ilerlemesi ile tekne vadiler oluşmuştur.  
bilgilerinden hangisinin **doğru** olduğu **söylenebilir**.

- A) I ve II      B) II ve III      C) III ve IV  
D) II, III ve IV      E) I, II, III ve IV

1. Aşağıdaki erozyon nedenlerinden hangisi arazinin yanlış kullanımı ile ilgili bir durum değildir?

- A) Tarım arazilerinde sürekli aynı ürünlerin yetiştirilmesi  
B) Doğal bitki örtüsünün fakir olması  
C) Tarlalarının eğim doğrultusunda sürülmesi  
D) Tarım arazilerinin nadasa bırakılması  
E) Hasattan sonra tarlalarda kalan ekin saplarının yakılması

S.

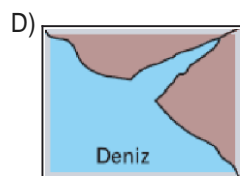
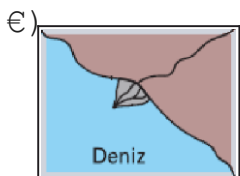
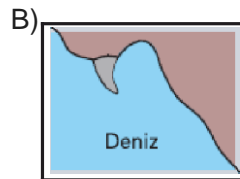


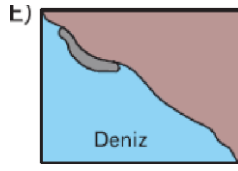
- Kıyıya paralel dağlar arasındaki çukurlara ve vadilere, denizin sokulması sonucu oluşur.
- Kıyıya paralel adalardan ve hoylardan oluşur.

Yukarıda özellikleri verilen kıyı tipi harita üzerinde kaç numaralı alanda görülür?

- A) I      B) II      C) III      D) IV      E) V

9. Aşağıdakilerden hangisinde kıyı oku gösterilmiştir?





10. Türkiye'de buzullar 4. jeolojik zamanda bile 2000 m'den daha aşağıya inmediği için fiyort tipi kıyı görülmez,  
Buna göre, fiyort tipi kıyının Türkiye'de görülmemesi aşağıdakilerden hangisi ile ilgilidir?

- A) Ekvator'a yakınlık  
B) Yer şekilleri  
C) Okyanuslara göre konum  
D) Yükseltinin azlığı  
E) Dağların konumu

11. Volkanik arazilerde yamaçlardan inen sel sularının oluşturduğu kerktili bozuk yüzeye kırgıbayır (badlands) denir.



**Buna göre, yukarıdaki Türkiye haritasında verilen** tarafı alanlardan hangisinde kırgıbayırlara daha fazla rastlandığı soylenebilir?

- A) I      B) II      C) III      D) IV      E) V

12. Bir adanın karaya veya adaların birbirine dalga ve akıntılarla taşınan malzemelerle bağlanması sonucu saplı ada adı verilen tombololar oluşur.  
Buna göre tombolo oluşumunun görüldüğü bir kı-

- I. Gelgit etkisi azdır.  
II. Akıntılar kuvvetlidir.  
III. Kıta sahanlığı geniştir.  
IV. Dağlar kıyıya yakın ve paralel uzanır.  
V. Deniz derinliği azdır.

**gibi özelliklerden hangileri görülmez?**

- A) Yalnız V                      B) I ve II                      C) II ve IV  
D) III ve IV                      E) I, II ve IV

[www.derskitabicevaplarim.com](http://www.derskitabicevaplarim.com)

Cevaplar :

1)C, 2)E, 3)E, 4)C, 5)E, 6)E, 7)B, 8)A, 9)B, 10)A, 11)D, 12)C,