



Yukarıdaki haritada işaretli alanlarda aşağıdakılardan hangisinin kesinlikle benzer olduğu söylene•

- A) Kış ılıhlığı
- B) Yaz yağışları
- C) Tarım ürünleri
- D) Donlu gün sayısı
- E) Dağların uzanış doğrultusu

2. 9. sınıfa giden Tuğçe yaşadığı kent olan Sinop'a güneş ışınlarının;

- 21 Haziran'da 75°

— 21 Mart'ta 48°

- 21 Aralık'ta 25°'lik açılarla geldiğini öğ renmiştir.

Bu durumun nedenini coğrafya öğretmenin Tuğçe'ye aşağıdakilerden hangisiyle açıkladığı soylenebilir?

- A) Dünya'nın eksen eğikliğiyle
- B) Dünya'nın günlük hareketiyle
- C) Dünya yörüngesinin şekliyle
- D) Dünya'nın küresel şekliyle
- E) Dünya karalarının hareketiyle

3. I. Ocak Ayı'nda Sibiry'a'nın dünyanın en soğuk yeri olması

II. Büyük Sahra Çölü'nün dünyanın en sıcak yeri olması

III. Akdeniz'in Karadeniz'den daha tuzlu olması

IV. Sivas'ın ortalama sıcaklığının Samsun'dan daha az olması

V. Buğday hasatının Ankara'da Kars'tan daha önce olması

Yukarıda verilen Szelliklerinden hangisini enlem faktörü ile açıklamamız daha kolaydır?

- A) I      B) II      C) III      D) IV      E) V

**4. Kuzey ve Güney kıyıları boyunca uzanan yükaek kenar dağları nın kışının hemen gerisinden başla• ması Akdeniz ve Karadeniz kıyı şeridinde aşağıda• kilerden hangisine neden olmuştur?**

- A) Dört mevsiminin yaşanmasına  
B) Kıyı kesimi nde yağış miktarının artmasına  
C) Sıcaklık ve yağışın batıdan doğuya doğru artmasına  
D) Cephe yağışlarının görülmesine  
E) Güneyden kuzeye gidildikçe sıcaklığın azalmasına

5. Kış mevsiminin başlangıcında Konya'ya güneş ışınla- rı 29° ile gelirken, Sinop'a 25° ile gelir. Aynı gün ve saatte yapılan ölçümde sıcaklık değerleri Konya'da 3°C iken Sinop'ta 10 °C'dir. Bu durumun aşağıdakilerden hangisiyle açıklan• ması beklenemez?

- @ Karasallıkla                      B) Denizellikle  
C) Yükseltiyle                      D) Enlemle  
E) Özel Konumla

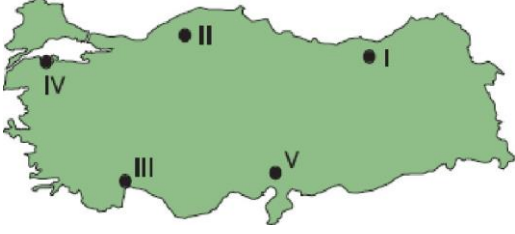
6. Türkiye'nin iklimi üzerinde;

- I. Matematik konum  
II. Yer şekilleri  
III. Denize göre konum  
IV. Tropikal rüzgarlar  
V. Okyanus akıntıları  
etkili olmaktadır.

**Bilgilerinden hangilerinin doğruluğu savunula- maz?**

- A) Yalnız I                      B) I ve II                      C) II ve III  
D) III ve IV                      E) IV ve V

1. Deniz üzerinden gelen nemli hava kütleleri dağların kıyıya paralel uzandığı yerlerde bol yağışa neden olur- lar.



Buna göre, haritada **işaretli yerlerin** hangisinde bu durumdan söz edilemez?

- A) I      B) II      C) III      D) IV      E) V

8. Türkiye'de yaz mevsiminin kış mevsiminden daha uzun yaşanması aşağıdakilerden hangisiyle açıklanabilir?

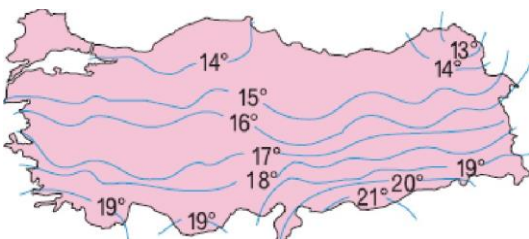
- A) Kuzey Yarımküre'de yer almasıyla  
B) Üş tarafının denizlerle çevrili olmasıyla  
C) Ortalama yükseltinin fazla olmasıyla  
D) Yükseltinin batıdan doğuya gidildikçe azalmasıyla  
E) Dört mevsim in yaşanmasıyla

9. Türkiye'de

- tarım ürünlerinin
  - bitki türlerinin
  - toprak tiplerinin
- çeşitli olmasında aşağıdakilerden hangisinin etkisinden sgz edilemez?

- A) İklimin çeşitli olması  
B) Yer şekillerinin çeşitli olması  
C) Üş tarafın denizlerle sevrili olması  
D) Başlangıç Meridyeni'nin doğusunda yer alması  
E) Yükseltinin kısa mesafelerde değişmesi

10.



Türkiye yıllık indirgenmiş izoterm haritasına bakı-

**arak;**

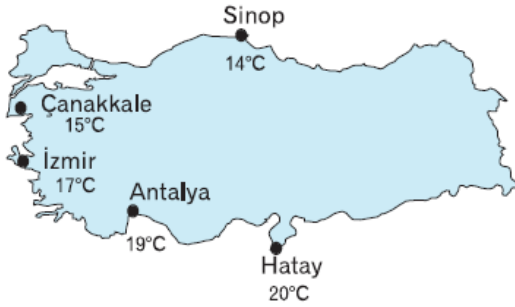
- I. Güneyden kuzeye gidildikçe sıcaklıkların genelde azaldığı
  - II. Yüksek yerlerin sıcaklığının deniz seviyesine indirildiği
  - III. En düşük sıcaklıkların Ege kıyılarında görüldüğü
- bilgilerinden hangisine ulaşamaz?**

- A) Yalnız I                      B) Yalnız II                      C) Yalnız III  
D) I ve II                      E) II ve III

**11. Türkiye’de yazların sıcak ve kurak geçtiği yerlere aşağıdakilerden hangileri örnek gösterilemez?**

- A) Doğu Karadeniz - Erzurum Kars bölümleri  
B) Ergene - İç Batı Anadolu bölümleri  
C) Ege- Antalya bölümleri  
D) Orta Fırat - Orta Kızılırmak bölümleri  
E) Yukarı Kızılırmak - Adana bölümleri

**12. Aşağıdaki haritada Türkiye’de bazı merkezlerin yıllık ortalama sıcaklık değerleri gösterilmiştir.**



**Bu durumun yaşanmasında etkili olan faktör aşağıdakilerden hangisidir?**

- A) Enlem                                      B) Karasallık  
C) Yer şekilleri                              D) Yükselti  
E) Bakı