

1. Antrasit ile ilgili,
- I. % 95 oranında C içerir.
 - II. Elektrik eneđisi elde etmek için termik santrallerde kullanılır.
 - III. Arıtma sistemlerinde kullanılan filtrelerin üretiminde önemli bir yere sahiptir.

İfadelerinden hangileri doğrudur?

- A) Yalnız I B) Yalnız II C) Yalnız III
D) I ve II E) I, II ve III

2. I. LPG sıvılaştırılmış petrol gazıdır.
II. Petrolün içlendiđi yere rafineri denir.
III. Petrolü oluşturulan maddelerin kaynama sıcaklıklarının farklı olması petrolün bileşenlerine ayrılmasında kolaylık sağlamaktadır.

Yukarıdaki ifadelerden hangileri doğrudur?

- A) Yalnız I B) Yalnız II C) I ve II
D) II ve III E) I, II ve III

3. Aşağıdakilerden hangisi yenilenebilir enerji kaynaklarından deđidir?

- A) Cüneş B) Gel-git C) Tezek
D) Doğal gaz E) Odun

4. Aminoasitlerin birbirlerine bağlanması sonucu peptit bağları oluşurken su açığa çıkar.

Bu olaya verilen ad aşağıdakilerden **hangisidir?**

- A) Peptitleşme B) Yanma
C) Sindirim D) Hidroliz
E) Sabunlaşma

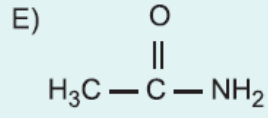
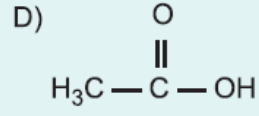
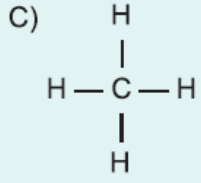
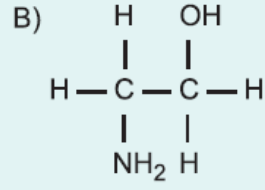
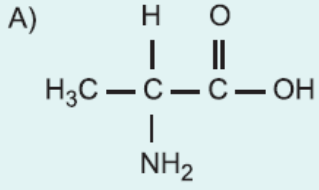
5. I. Aminoasitlerin başlıca 20 tanesi protein yapımında görev

II. Aminoasitlerin çeşitliliđi alkil (R) grubu sayesinde olur.

III. Proteinlerin hidrolizi sonucu aminoasit ve su oluşur.

Yukarıdaki ifadelerden hangileri doğrudur?

- A) Yalnız I B) Yalnız II C) I ve II

6. Aşağıdakilerden hangisi bir aminoasittir?

www.derskitabicevaplarim.com

Cevaplar :

1)E, 2)E, 3)D, 4)A, 5)A, 6)C,