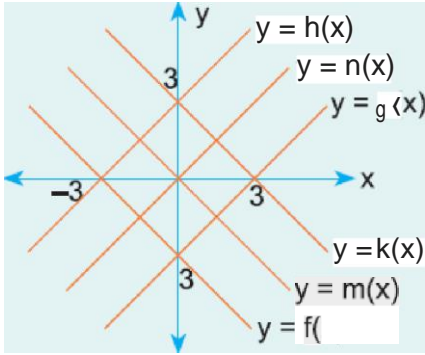


Yukarıda  $f(x)$  ve  $g(x)$  fonksiyonlarının grafikleri verilmiştir. Buna göre, aşağıdaki bağıntılardan hangisi doğrudur?

- A)  $f(-x) = g(x)$       B)  $f(2x) = g(x)$       C)  $-f(x) = g(x)$   
D)  $f(x - 4) = g(x)$       E)  $f(x + 4) = g(x)$

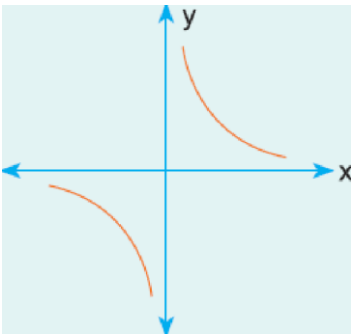
2.



Yukarıda  $y = f(x)$  fonksiyonlarının grafiği verilmiştir. Buna göre,  $y = f(-x)$  fonksiyonunun grafiği aşağıdakilerden hangisidir?

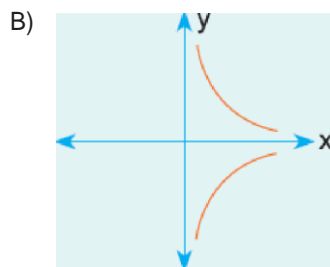
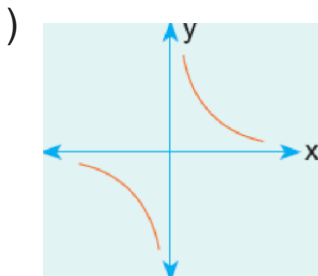
- A)  $g(x)$       B)  $h(x)$       C)  $m(x)$       D)  $n(x)$       E) Hiçbiri

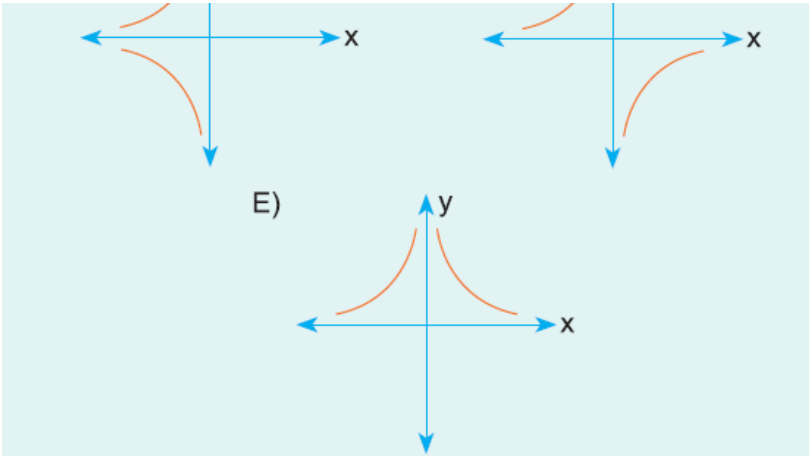
3.



Yandaki  $y = f(x)$  in grafiği verilmiştir.

Buna göre,  $y = f(-x)$  in grafiği aşağıdakilerden hangisidir?





[www.derskitabicevaplarim.com](http://www.derskitabicevaplarim.com)

Cevaplar :  
1)C, 2)A, 3)D,