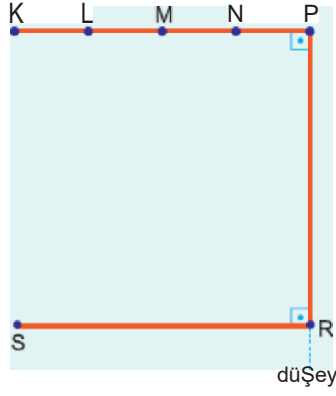
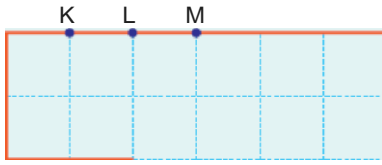


1. Düzgün, türdeş bir tel şekildeki gibi bükülmüştür.
Tel nereden asılırsa P • R kenan düşey konumda dengede kalır?
(KP arasında noktalar eşit aralıklı ve $KP = PR = RS$)



- A) L - M arasından B) M den C) M - N arasından
D) N den E) N - P arasından

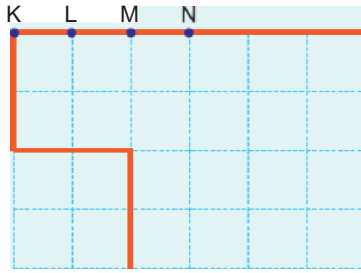
2.



Düzgün türdeş bir tel şekildeki gibi bükülmüştür.
Tel nerden asılırsa düşey düzlemde şekildeki gibi dengede kalır? (Bölmeler eşit aralıktır.)

- A) K den B) K - L arasından C) L den
D) L - M arasından E) M den

3.



Düzgün türdeş bir tel şekildeki gibi bükülmüştür.
Tel nerden asılırsa düşey düzlemde şekildeki gibi dengede kalım (Bölmeler eşit aralıktır.)

- A) K - L arasından B) L den C) L-M arasından
D) M den E) M - N arasından

