

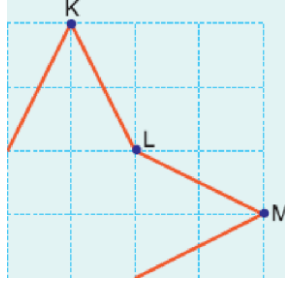
Düzgün ve türdeş X, Y, Z telleri bükülerek şekildeki biçimler verilmiştir.

Teller K, L, M noktalarından asılırsa hangileri şekildeki gibi **denge**de kalır?

- A) Yalnız X B) Yalnız Y C) Yalnız Z
D) X ve Y E) Y ve Z

2. Düzgün, türdeş bir tel şekildeki gibi bükülmüştür.

Tel nereden asılırsa şekildeki konumda dengede kalır?



- A) K noktasından B) K-L arasından
C) L noktasından D) L-M arasından
E) M noktasından



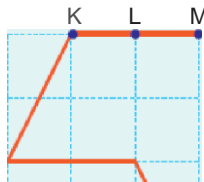
Düzgün ve türdeş bir tel şekildeki biçim verilmiştir.

Buna göre tel nereden asılırsa şekildeki gibi dengede ka-

- A) K-L arasından B) L noktasından
C) L-M arasından D) M noktasından
E) M-H arasından

4. Türdeş bir tel bükülerek şekildeki biçim verilmiştir.

Eğit karelere aynılmış düğey düzlemde tel nereden asılırsa K-M



kenarı yatay olarak dengede kalır?

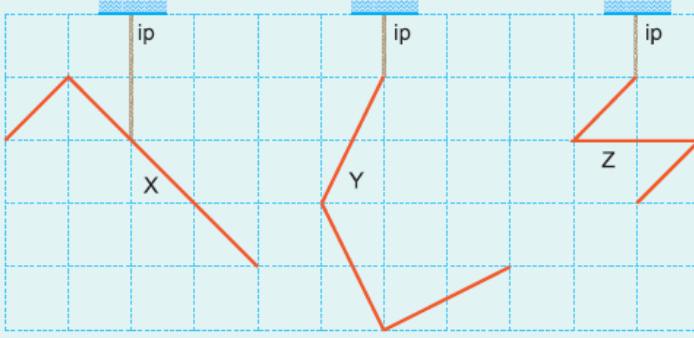


- A) K noktasından
C) L noktasından

- B) K-L arasından
D) L-M arasından

E) M noktasından

5.



Düzgün, türdeş, X, Y ve Z telleri şekildeki gibi bükülerek iplerle tavana asılıyor.

Buna göre, X, Y, Z tellerinden hangileri serbest bırakıldığında şekildeki konumunu değiştirmeden dengede kalır?

- A) Yalnız X
B) Yalnız Y
C) X ve Y
D) X ve Z
E) X, Y ve Z

6.

Düzgün, türdeş bir tel yarım çember şeklinde bükülmüştür.

Tel K noktasından bir iple asılırsa aşağıdakilerden hangisi gibi dengede kalabilir?



- A) düşey
B) düşey
C) düşey
D) düşey
E) düşey