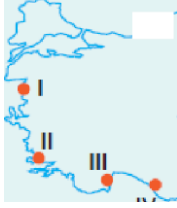


1. Uzmanlık isteyen bilimsel alanlar ve medek kollarına yönelik eğitim ve toplantıların gerçekleştirilmesi amacıyla çalışma alanı dışında seçileri seyahat ve korıaklamayı kapsayzn turizm faaliyetleü kongre turizmi olarak tsınılanır. Türkiye'de yılın tamamında kongre tuüzmine elverişli olan **ilimiz** aşağıdakilerden hangisidir?

A) Antalya B) Kayseri C) Erzurum
D) Ankars E) Diyarbnkır



Yukarıdakilerden hangisi Türkiye'de deniz turizminin geliştiği başlıca merkezlerden biri değildir?

A) I B) II C) III D) IV E) V

3. Türkiye'nin iklim tipleri ve buna bağlı olarak görülen zengin bitki çeşitliliği botanik turizminin gelişme potansiyelini ortaya çıkarmıştır. Endemik ve relik bitl türleünün bulunduğu yöreler bu asıdan daha uygundur. Buna göre, aşağıdaki illerimizden hangisinin botanik tuüzmine elverişli olduğu söylenemey?

A) Edime B) Muğla C) Zonguldak
D) Rize E) Antalya

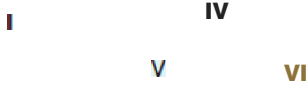
4. Türkiye'de 1985 yılı sonrasında turizm faaliyetlerinde yaşanan gelişmeleün;
I. Seracılık
II. Ulaşım-haberleşme
III. Otomotiv sanayi
IV. İnşaat
sektörlerinden hangilerini daha çok etkilediği söylenebilir?

A) Yalnız I B) I ve III C) II ve III
D) II ve IV E) III ve IV

5. Denizli, Yalova, Afyon, Bolu, Bursa, Balıkesir ve Hatay illerimizin hepsinde tînem taşıyan turizm değeri aşağıdakilerden hangisidir?

- A) Yayla turizmi
- B) Golf tuûzmi
- C) Kış turizmi
- D) Akarsu turizmi
- E) Termal turizmi

6. Yaylalar, tabiatı kirlenmemiş havası, soğuk suları, yaz mevsiminde serin olması, büyüleyici doğal güzellikleû. sevreyle uyumlu ev kapıları, yöresel gıdaları ve son yıllardaki festivalleri ile turizmin yeni yüzlerinden biridir.



Buna göre, harita üzeûnde numaralı yerlerden hangilerinde yayla turizmi gelişme öste/zrtem stir?

- A) I ve II
- B) I ve VI
- C) II ve V
- D) I, III ve V
- E) III, IV ve VI

7. Turizm, kendi alanıyla ilgili sektörlerin gelişmesine katkıda bulunduğu gibi farklı birçok iş kolunun önemli ölçüde gelişmesini snğlamaktadır.

Buna göre turizmin,

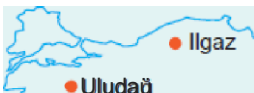
- I. Karakolu ve havayolu taşımecılığı
- II. Tanım ve hayvsnıcılıktaki üretim
- III. Otel, lokanta ve eğlence yerleû
- IV. Sosysl güvenlik kurumlan

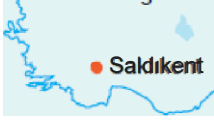
gibi çalışma alanlarından hangilerine daha fazla katkı sağladığı söylenebilir?

- A) Yalnzz II
- B) I ve II
- C) I ve III
- D) II ve III
- E) III ve IV

8. Aşağıdakilerden hangisi Türkiye'nin tarihi ve kültürel mirasları arasında yer almıy?

- A) Bergama (İzmir)
- B) Tuşpa (Van)
- C) Alacahöyük (Çorum)
- D) Kartalkaya (Bolu)
- E) Aslantepe (Malatya)



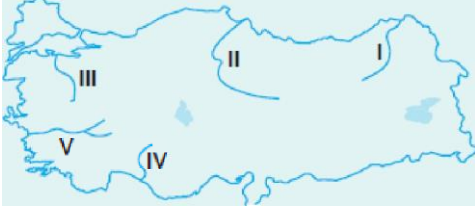


Yukarıdaki haftada dağılışı verilen turizm değeri aşağıdakilerden hangisidir?

- A) Kış tuûzmi
B) Kaplıca tuûzmi
C) Kuş gözlemciliği
D) Yayla tuûzmi
E) Almsu turizmi

10. Aşağıda bazı kentler ve bu kentlerde gelişmiş olan turizm etkinlikleri verilmiştir.
Buna göre, aşağıdaki eşleştirmelerden hangisi yanlıştır?

- A) Antalya — Avcılık turizmi
B) Manisa — Kış tuûzmi
C) Trabzon — Yayla turizmi
D) Ankara — Müze turizmi
E) Erzurum — Kayak turizmi



Türkiye'nin hızlı akışlı almsularının birçoğu rafting, Imno ve su kayağı adı alündaki akarsu tuûzmine elveûşlidir.
Buna göre, harita üzerinde numaralandırılmış akarsulardan hangilerinde akarsu turizmi dafja çok gelişmiştir?

- A) Yalnız II
B) I ve III
C) I ve IV
D) II ve V
E) II, III ve IV

12. Geçmiş uygarlıklara ait kalıntıların bulunduğu yerler tarih turizminin önem taşıdığı turizm zenginlikleüdür.
Aşağıdaki turistik yerlerin hangisi tarih tuûzmi açısından önem tanımaz?

- A) Nemrut Dağı
B) Ilgaz Dağı
C) Hattuşa
D) Xanthos-Letoon
E) Bergama

Cevaplar :

1)A, 2)E, 3)A, 4)D, 5)E, 6)B, 7)C, 8)D, 9)A, 10)B, 11)C, 12)B,