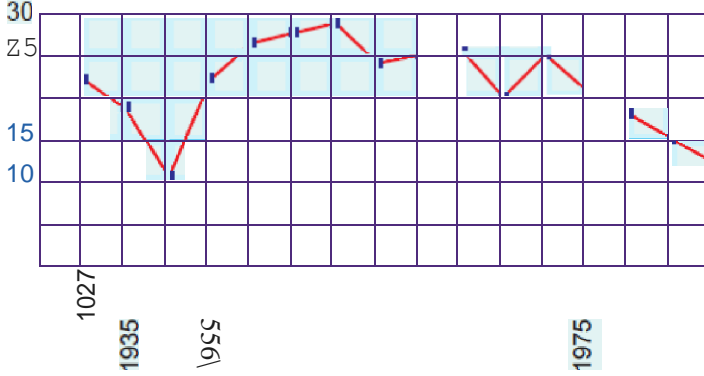


1. Nüfus politikalarında zamana bağlı olarak d@ışıklığın yapılmasının en önemli sebebi aşağıdakilerden hangisidir?

- A) Kentleşme oranının bir seviyede durması
- B) Tarım alanlarının daralması
- C) Sanayi yatırımlarında verimliliğin düşmesi
- D) Ekonomik ve sosyal koşulların değişmesi
- E) Küresel iklim değişmelerinin hızlanması

2. Nüfus artışı binde (M)



Yukarıdaki grafikte Türkiye'nin 1927-2011 yılları arasındaki nüfus artış hızları gösterilmiştir. Bu grafikteki bilgilere göre aşağıdaki sonuçlardan hangisine ulasılamaz?

- A) 1927-1935 yılları arasında ve 1985-2011 yılları arasında nüfus miktarı sürekli azalmıştır.
- B) En hızlı nüfus artış hızı 1950-1960 arasındaki dönemdir.
- C) Nüfus artış hızının en düşük olduğu yıl 1940 yılıdır.
- D) 1927 yılından sonra nüfusun miktarı daima artmıştır.
- E) Nüfusun artış oranlarındaki değişim 1965-1975 arasında en azdır.


3. Bir ülkenin nüfus özelliklerinde görülen değişimler ile sosyo kültürel yapısı gelişmişlik düzeyi hakkında fikir vermektedir. Buna göre, aşağıdakilerden hangisine bakılarak bir ülkenin gelişmişlik düzeyi hakkında genel bir yargıya vanlamaz?

- A) Orta yaşta nüfusun eğitim durumuna
- B) Nüfusun yaş gruplarına göre dağılımına
- C) Hizmet ve sanayide çalışanların oranına
- D) Çocuk ölüm hızına
- E) Toplam nüfusuna

4. — Doğum evleri kurularak fakir vatandaşları ücretsiz ilaç dağıtılması
— Fazla çocuklu ailelerin **rol** vergisinden muaf sayılması
Yukarıdaki alınan kararlar Türkiye'de 1929-1935 yılları arasında aşağıdaki nüfus politikalarından hangisinin amaçlandığını gösterir?

- A) Yabancı ülke vatandaşlarının Türkiye'ye gelmesinin sağlanmasının
- B) Yabancı ülkelerdeki Türk azınlıkların gelirlerinin artırılmasının
- C) Nüfus artış hızının yükselmesine destek verilmesinin
- D) Bölgeler arasında yaşanan göçlenn azslülmasının
- E) Yurt dışına gidecek gurbetçilere kolaylık sağlamanın

5. Nüfus artış hızının çok yüksek olduğu ülkelerde kişi başına düşen milli geliü artırmak, ekonomik, sosyal ve kültürel gelişmeyi sağlamak amacıyla nüfus artış hızını azaltmaya yönelik politikalar uygulanmaktadır. Buna göre, aşağıdaki nüfus piramidine sahip ülkelerden hangisinde son on yılda böyle bir politikanın başarıya ulaştığı söylenebilir?



6. Türkiye'de nüfus artış hızının yüksek olmasının iktisadi gelişmeye engel olduğu yönündeki görüşler aşağıdaki dönemlerden hangisinde benimsenerek nüfus artış hızını azaltıcı politikalar uygulanmaya başlanmıştır?

- A) 1927-1935
- B) 1935-1940
- C) 1960-1970
- D) 1990-1994
- E) 2001-2005

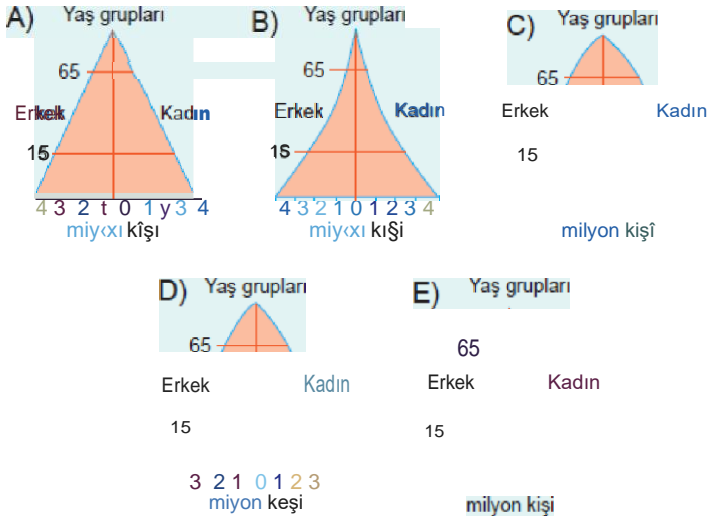
7. Aşağıdakilerden hangisi, Türkiye'de 1923-1963 yılları arasında uygulanan nüfus artışını yükseltme politikasının bir nedeni değildir?

- A) Salgın hastalıklar nedeniyle nüfus kaybının fazla olması
- B) Fazla nüfusun ülke için siyasi ve askeri güç olması
- C) Tarımda makine kullanımı sonucu gelir düzeyinin artması
- D) Doğal kaynakların işletilebilme
- E) Ölüm oranlarının yüksek olması nedeniyle nüfustaki azalma

w u i u o i a n r y u v a u i o u u l < y w r u u > w u i < a r -
manın doğumlarla telafi edilmeye çalışılması

8. Özellikle nüfus artış hızının çok düşük olduğu gelişmiş ülkeler yaşadıkları iş gücü aşığı azaltmak ve genç nüfus oranını artırmak amacıyla nüfus artışını artırmaya yönelik nüfus politikası uygulamalıdır.

Buna göre, aşağıdaki nüfus piramitlerinden hangisine sahip ülkede yakın geçmişte bu tip bir politikanın uygulandığı söylenebilir?



9. I. Tanımda makine kullanımının artması
II. Kadının iş hayatına daha çok katılması
III. Kentleşme oranının yükselmesi
Türkiye'de 1960 yılı sonrasında görülen yukarıdaki gelişmeler sonucunda aşağıdakilerden hangisinde bir azalma görülmüştür?

- A) Ortalama yaşam süresinde
- B) Doğum oranlarında
- C) Kirlardaki kadın nüfus oranında
- D) Hizmet sektöründe çalışan nüfusta
- E) Ekili olanların miktarında

10. I. 1990-1994 döneminde hadi nüfus artışının çevre üzerindeki olumsuz etkilerinin azalması ve kadının statüsünün yükseltilmesi konularını kapsayan nüfus politikasına yer verildi.
II. 1996-2000 yılları arasındaki dönemde aile planlaması politikası benimsenerek anne-çocuk sağlığı hizmetlerine ağırlık verilerek genç nüfusun azaltılması hedeflenmiştir.
III. 2007-2013 döneminde nüfusun değişen yapısına bağlı eğitim, istihdam ve sosyal güvenlik alanlarında politikaların oluşturulması kararlaştırılmıştır.

Türkiye'de yukarıdaki dönemlerdeki nüfus politikalarıyla ilgili aşağıdaki ifadelerden hangisi yanlıştır?

hangileri doğrudur?

- A) Yalnız I B) Yalnız II C) I ve II
D) I ve III E) II ve III

11. 2007-2013 yılları arasında Türkiye'nin nüfus özellikleriyle ilgili olarak,

- I. Ortalama yaşam süresinin uzadığı
II. Doğum oranlarının artmaya devam ettiği
III. Orta yaşın yükselmiş olduğu

- A) Yalnız I B) Yalnız II C) I ve II
D) I ve III E) II ve III

12.

Yıllar

- I. 1935-1940
II. 1950-1955
III. 1985-1990
IV. 2005-2010
V. 2010-2015

Yukarıdaki beş yıllık dönemlerden hangilerinde Türkiye'de görülen nüfus artış hızı daha azdır?

- A) I ve III B) I ve V C) II ve III
D) II ve IV E) III ve V

www.derskitabicevaplari.com

Cevaplar :

1)D, 2)A, 3)E, 4)C, 5)B, 6)C, 7)C, 8)D, 9)B, 10)B, 11)D, 12)B,