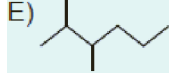
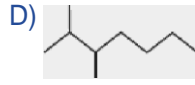
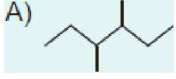
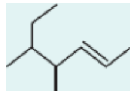


1. 2,3-Dimetil hekzan bileğinin iskelet formülü aşığıdaki-
lerden hangisidir?



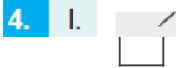
iskelet formülleri yukarıda verilen bileşiklerden hangileri-
nin kapalı formülü izohekzanınkiyle aynıdır?

- A) Yalnız I B) Yalnız II C) I ve II
D) I ve III E) II ve III



iskelet formülü yukarıda verilen bileşğin IUPAC sistemine
göre adı aşığıdakilerden hangisidir?






- A) 5 Etil 4 metil-2-hekzen
B) 5 Etil 4 metil-2-penten
C) 4,5 Dimetil 2 hepteri
D) 2,3-Dimetil-4-penteri
E) 2,3-Dimetil-4-hekzen

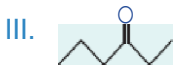



iskelet formülleri yukarıda verilen bileşik çirlerinden han-
gileündeki bileşiklerin basit formülleri aynıdır?

- A) Yalnız I B) Yalnız II G) Yalnız III
 D) I ve II E) II ve III

Neoheksil alkolün çizgi-bag formülü aşağıdakilere hangisidir?

- A)  OH B)  OH
 C)  OH D)  OH
 E)  OH



Yukarıdaki bileşiklerden hangilerinin kapalı formülü,



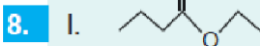
bileşiğinkiyle aynıdır?

- A) Yalnız I B) Yalnız II C) I ve II
 D) I ve III E) II ve III



Yukarıdaki bileşiklerden hangileri tersiyer alkoldür?

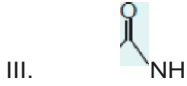
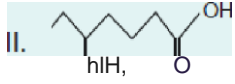
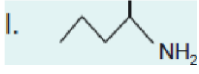
- A) Yalnız I B) Yalnız II C) Yalnız III
 D) I ve II E) II ve III



Yukarıdaki bileşiklerden hangileû $C_nH_yO_y$ genel formülüne sahiptir?

- A) Yalnız I B) I ve II C) I ve III
D) II ve III E) I, II ve III

9.



Yukarıdakilerden hangileri bir aminoasit bileşigidir?

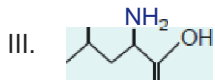
- A) Yalnız II B) Yalnız III C) I ve II
D) I ve III E) II ve III

10.



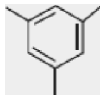
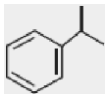
Yukanda veûlen bileşikle ilgili,

- I. Sekonder amid özelliđi gösterir.
II. N-Propil pentanamid olarak adlandırılır.



bileşigiyle aynı İmpalı formûle sahiptir. yargılarından hangileri yađıllıdır?

- A) Yalnız I B) Yalnız II C) Yalnız III
D) I ve II E) II ve III

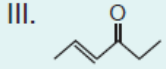


III. $x^* \cdot$, ile

Yukanda verilen bileşik çiftleûnden hangilerindeki bileşikler eşit sayıda karbon atomu içerir?

- A) Yalnız I B) I ve II C) I ve III
D) II ve III E) I, II ve III

12.



Yukarıda verilen bileşiklerden hangileri keton özelliği göstermez?

A) Yalnız I

B) Yalnız II

C) Yalnız III

D) I ve II

E) II ve III

www.derskitabicevaplari.com

Cevaplar :

1)E, 2)D, 3)C, 4)D, 5)D, 6)B, 7)B, 8)B, 9)A, 10)E, 11)B, 12)B,