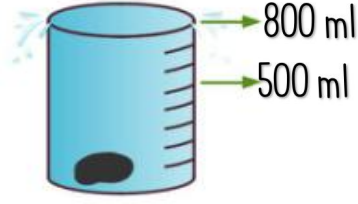
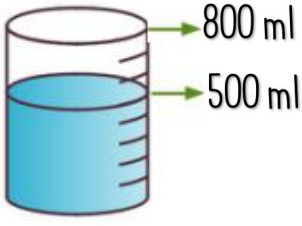


ETKİNLİK-11

MINİK TEST



4-Yukarıdaki dereceli kaba taş atıldığında kaptan 50 mililitre su taşıyor. Buna göre taşın hacmi kaç mililitredir?

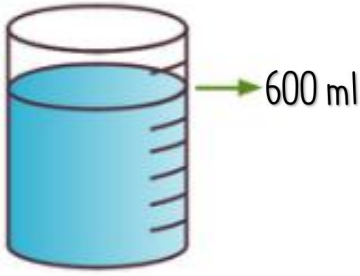
A) 350 ml

B) 400 ml

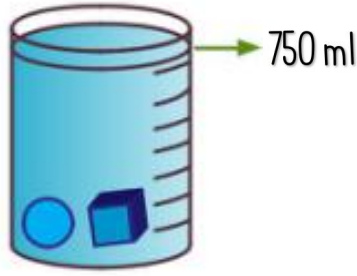
C) 300 ml

D) 250 ml

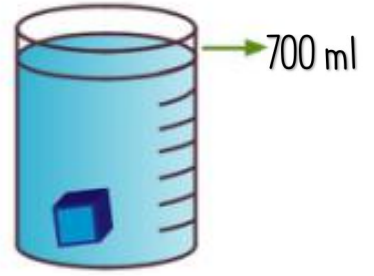
5-Aşağıdaki dereceli kaplar kullanılarak ölçümler yapılmıştır.



I



II



III

1 numaralı kaptan 600 ml su bulunmaktadır. Bu suyun içine küp ve küre cisimleri atıldığı zaman suyun seviyesi 750 ml olmaktadır. Yine 1 numaralı kabın içine sadece küp cismini attığımızda suyun seviyesi 700 ml gelmektedir. Buna göre kürenin hacmi kaç ml'dir?

A) 200 ml

B) 150 ml

C) 100 ml

D) 50 ml

6-Yandaki boş kabın kütlesi 250 gramdır

Aynı kabın içine zeytinyağı koyup tarttığımızda ise 850 gram gelmektedir.

Buna göre zeytinyağının kütlesi kaç gramdır?

