






1)

.....,  
atmosferi meydana  
getiren ve içinde çeşitli  
gazların bulunduğu  
maddedir.

Yukarıdaki tanımda, **noktalı alana**  
aşağıdakilerden hangisi yazılmalıdır?

- A) yer kabuğu      B) deniz  
C) güneş            D) hava

2)

1		Karlı	K
2		Parçalı Bulutlu	E
3		Rüzgârlı	M
4		Yağmurlu	L
5		Güneşli	E

Yukarıdaki görsellerle hava olaylarını  
sırayla eşleştirecek hangi **kelime** oluşur?

- A) KELEM            B) EKLEM  
C) MELEK            D) ELMEK

3)

İnsanların günlük hayatlarında takip ettikleri konulardan biri de **hava durumudur**. Çünkü hava durumunu önceden bilmenin faydaları vardır.

Aşağıdaki durumlardan hangisi yukarıdaki **açıklamaya** örnek verilemez?

- A) Kar yağacağını önceden öğrenen sürücünün yola çıkmaması  
B) Havanın rüzgârlı olacağını öğrenen balıkçının ava çıkışını ertelemesi  
C) Bir pilotun hava durumuna bakmadan seyahat yapabilmesi  
D) Don olayı olacağını öğrenen çiftçinin önlemler alması

4)

Deprem	Heyelan	Yağmur
Sis	Rüzgâr	Kar

Yukarıdaki tabloda yazılı olaylardan kaç tanesi **hava olayı** değildir?

- A) 1                    B) 2  
C) 3                    D) 4

5) Hava **sıcaklığını** ölçmeye yarayan aletin adı aşağıdakilerden hangisidir?

- A) Termometre      B) Stetoskop  
C) Teleskop            D) Santimetre



Yukarıda, bazı illerimizdeki bir günlük **hava durumu** verilmiştir. Buna göre aşağıdaki bilgilerden hangisi yanlıştır?

- A) En düşük hava sıcaklığının Van'da olması bekleniyor.
- B) Trabzon ve İstanbul'da gök gürültülü yağmur bekleniyor.
- C) Diyarbakır ve İzmir'de havanın parçalı bulutlu olması bekleniyor.
- D) Ankara ve Van'da kar yağışı beklenmiyor.

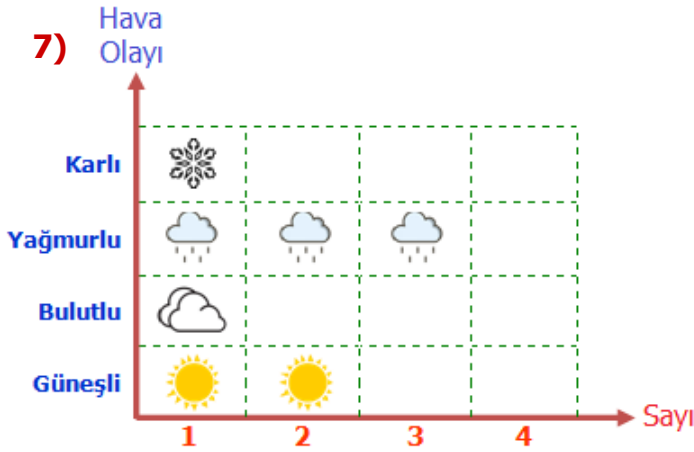


Atmosferde meydana gelen **hava olaylarının** oluşumunu ve değişimini inceleyen bilim dalı aşağıdakilerden hangisidir?

- A) Kronoloji
- B) Biyoloji
- C) Meteoroloji
- D) Psikoloji

9) Hava durumu **tahminleri** ülkemizde hangi kurum tarafından yapılır?

- A) Devlet Meteoroloji Genel Müdürlüğü
- B) Devlet Su İşleri Genel Müdürlüğü
- C) Tarım ve Orman Bakanlığı
- D) Enerji ve Tabii Kaynaklar Bakanlığı



Yukarıdaki resimli grafik bir haftalık **hava durumunu** göstermektedir. Buna göre aşağıdaki bilgilerden hangisi doğrudur?

- A) Güneşli ve yağmurlu gün sayısı eşittir.
- B) Hava iki gün bulutlu olmuştur.
- C) Bir hafta boyunca kar yağmamıştır.
- D) Hava parçalı bulutlu olmamıştır.

10)



Aşağıdakilerden hangisi **ülkemizde** hava tahminleri yapan kurumun görevlerinden değildir?

- A) Meteorolojik bilgi ve tahminleri hazırlamak
- B) Hava araçlarına meteorolojik bilgi desteği vermek
- C) Tarımsal faaliyetlerde bulunanlara yardımcı olmak
- D) Doğal afetlerden zarar görenlere yardım etmek

# CEVAP ANAHTARI

- 1) D
- 2) C
- 3) C
- 4) B
- 5) A
- 6) B
- 7) D
- 8) C
- 9) A
- 10) D