

4.SINIF SOSYAL BİLGİLER "HAVA OLAYLARI" KONU TESTİ

I. Hava olaylarını gözlemek

II. Grafik için sembol oluşturmak

III. Diğer ülkelerdeki hava durumunu karşılaştırmak

1 - Demet, yaşadığı yerin hava gözlem grafiğini oluşturacaktır. Bunun için yukarıdakilerden hangisini yapmalıdır?

A) I ve II

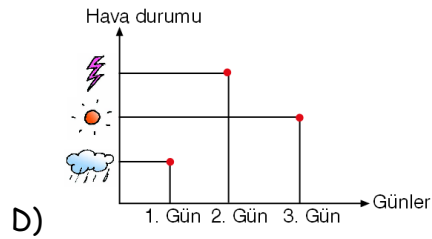
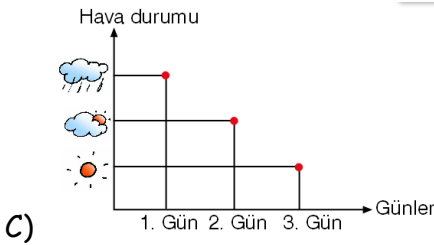
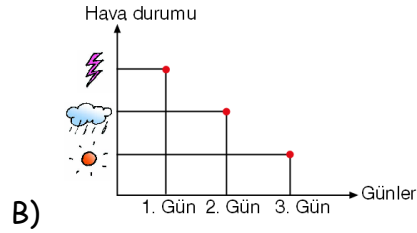
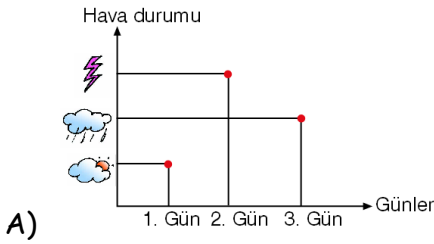
B) I ve III

C) II ve III

D) I, II ve III

İsmet, gece gök gürültüsünü duyar. Sabah olduğunda okula giderken yağmur sesini duyar ve yanına şemsiyesini alır. Ertesi gün ise güneş ışıklarının odanın penceresinden yüzüne vurmasıyla uyanır. İsmet 3 gün boyunca hava olaylarının farklı olması sebebiyle farklı duygular yaşamıştır.

2 - Aşağıda verilen grafik çeşitlerinden hangisi İsmet'in 3 gün yaşadığı hava olaylarını göstermektedir?



3 - Defne, yaşadığı yerin hava gözlem grafiğini oluşturmak istemektedir. Defne'nin, bu çalışmasıyla ilgili olarak aşağıdakilerden hangisini yapması gerekmez?

A) Yaşadığı yerdeki hava olaylarını gözlemlemelidir.

B) Grafiği için uygun semboller oluşturmalıdır.

C) Gözlem sonuçlarını not etmelidir.

D) Diğer illerdeki hava durumunu öğrenmelidir.

"Orhan, televizyonda hava durumunu izlerken yaşadığı bölgenin haritasının üzerinde "bulutun arasından çıkmış güneş" resmini görmüştür."

4 - Hava durumunu sunan spiker Orhan'ın yaşadığı bölgenin hava durumu ile ilgili olarak aşağıdakilerden hangisini söylemiş olabilir?

A) Güneşli

B) Yağmurlu

C) Bulutlu

D) Parçalı bulutlu

5 - Aşağıdaki şehirlerin hangisinde Akdeniz iklimi görülmez?

A) Malatya

B) Antalya

C) İzmir

D) Adana

Serdar yandaki tabloda, yaşadığı kentin geçen haftaki hava durumunu simgelerle göstermiştir.

Pazartesi	
Salı	
Çarşamba	
Perşembe	
Cuma	
Cumartesi	
Pazar	

6 - Buna göre aşağıdaki yargılardan hangisi yanlıştır?

- A) Havanın en soğuk olduğu gün cumartesi günüdür.
- B) Pazartesi günü hava bulutlu olmuştur.
- C) Hafta boyunca güneşli gün sayısı üçtür.
- D) Perşembe günü güneşli geçmiştir.

7 - Yandaki haritaya bakarak aşağıdakilerden hangisi söylenemez?

- A) Antalya güneşli
- B) Erzurum kar yağışlı
- C) İstanbul sisli
- D) Ankara yağmurlu



Güneşli Parçalı bulutlu
 Bulutlu Yağmurlu

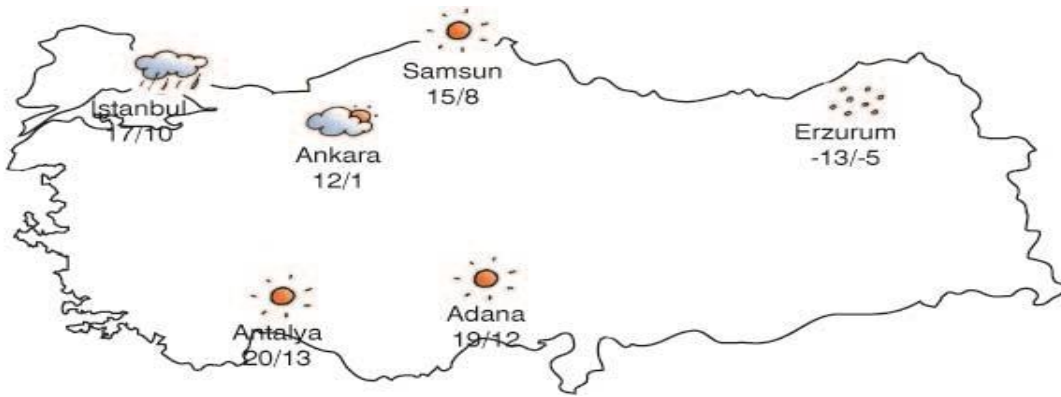
"Yandaki tabloda üç ilimizin dört günlük hava durumları verilmiştir."

8 - Bu tabloya göre aşağıdakilerden hangisi söylenemez?

- A) Güneşli gün sayısı en fazla olan ilimiz Ankara'dır.
- B) Dört gün boyunca İstanbul'da bir gün güneşli hava görülmüştür.
- C) Yağışlı gün sayısı en fazla olan ilimiz İzmir'dir.
- D) Parçalı bulutlu günler sayısı İstanbul ve İzmir'de eşittir.

Ankara	İstanbul	İzmir

(9. ve 10. soruları aşağıdaki haritaya göre cevaplayın.)



9 - Erzurum ilimizde hava sıcaklığının düşük olmasının nedeni aşağıdakilerden hangisi olamaz?

- A) Erzurum'da karasal iklimin hüküm sürmesi
- B) Erzurum'un Karadeniz'e yakın olması
- C) Erzurum'un deniz seviyesinden yüksekte olması
- D) Erzurum'un denize uzak olması

10 - Adana ve Antalya'nın, Samsun'dan daha sıcak olmasının nedeni aşağıdakilerden hangisidir?

- A) Samsun'un karasal iklim özelliklerine sahip olması
- B) Karadeniz ikliminin daha sıcak olması
- C) Akdeniz ikliminin daha sıcak olması
- D) Samsun'un denizden uzak olması