

Adı :
Soyadı :
Sınıf/No :/.....







4. Sınıf

Üretim, Dağıtım ve Tüketim



Sosyal Bilgiler





1. Temel ihtiyaçları için alışverişe çıkan Murat aşağıdakilerden hangisini almalıdır?

- A)  B) 
- C)  D) 

2. Aşağıdakilerden hangisi temel ihtiyaçlarımızdandır?

- A) Tatile gitmek B) Barınmak
C) Spor yapmak D) Maç izlemeye gitmek

3. Aşağıdakilerden hangisi bir ihtiyaç **değildir**?

- A)  Süt B)  Yumurta
- C)  Ekmek D)  Gitar





4. Aşağıdakilerden hangisi temel ihtiyaçlarımızdan **değildir**?

- A) Eğlenmek B) Barınmak
C) Giyinmek D) Beslenmek

5. Aşağıdakilerden hangisini alırken son kullanma tarihine bakılmalıdır?

- A)  B)  C)  D) 

6. Aşağıdaki ürünlerden hangisinin alımında garanti belgesine bakılmalıdır?

- A)  B) 
- C)  D) 

7. Mert'in satın almış olduğu çamaşır makinesi bozuk çıkmış, satıcı da üretici firma da bu duruma olumlu cevap vermemiştir. Mert hakkını aramak için nereye başvuru yapmalıdır?

- A) Sivil toplum örgütlerine
B) Milli Eğitim Bakanlığına
C) Tüketici Haklarını Koruma Derneğine
D) Maliye Bakanlığına

8. Aldığımız ürünün belirli standartlara uygun olarak üretildiğini ve güvenilir olduğunu belirleyen kuruluşun simgesi aşağıdakilerden hangisidir?

- A)  B)  C)  D) 

9. I Işıkları gereksiz yere açık bırakmak.
II İhtiyacımız kadarını almak ,kullanmak.
III Diş fırçalarken suyu açık bırakmak.
IV Çamaşır makinesini tam dolmadan çalıştırmak.
V Gündüz ışıkları açık tutmak.

Yukarıdakilerden hangileri israfı önlemeye yönelik **değildir**?

- A) I ve III B) I,III,IV ve V
C) I,III ve V D) II,IV ve V

Özgür Eşiyok



10.

Gelir : 2500 ₺
Gider : 3000 ₺

Yandaki tabloda verilen gelir gider dengesizliğini önlemek için öncelikle aşağıdakilerden hangisi yapılmalıdır?

- A) Okulda okuyan çocuklar okulu bırakmalıdır.
- B) Ev kirasını ödememelidir.
- C) Akşam yemek yememelidir.
- D) Bu ay almayı düşündüğü bisikleti bir sonraki ay almalıdır.

11. Aşağıdakilerden hangisi isteklerimizden **değil**-dir?

- A) Aynı ayakkabıdan bir tane daha almak.
- B) Pahalı olmasına rağmen süslü diye bir tane daha almak.
- C) Kışın üşümek için mont almak.
- D) Çamur olan kıyafetini yıkamak yerine yenisini almak.

12. I. Sağlık
II. Yeni elbise almak.
III. Sinemaya gitmek.

Yukarıda verilenlerin doğru biçimde gösterildiği şık aşağıdakilerden hangisinde verilmiştir?

	Temel ihtiyaç	Sosyal ihtiyaç	İstek
A)	I	II	III
B)	I	III	II
C)	II	III	I
D)	III	II	I

13. Aşağıdakilerden hangisi temel ihtiyaçlarımız ile ilgilidir?

- A) 
- B) 
- C) 
- D) 

14.



Ürünlerin tüketiciye ulaşması için üretildiği yerden alınıp satılacağı yere taşınmasına.....denir.

İnsanların ihtiyaç duydukları ürünleri alıp kullanmasına denir.



Ham maddelerin belirli aşamalardan geçerek kullanılabilir hale gelmesinedenir.



Kayıkçı ailesinin fertlerinin açıklamasını yaptığı kavramlar sırasıyla hangi seçenekte doğru verilmiştir.

- A) Üretim - Dağıtım - Tüketim
- B) Dağıtım - Üretim - Tüketim
- C) Dağıtım - Tüketim - Üretim
- D) Tüketim - Üretim - Dağıtım

15.



Temel ihtiyaçlar



Yukarıdaki toplardan hangilerini temel ihtiyaç potasına atmamız gerekir?

- A) 1, 3 ve 6
- B) 1, 5 ve 6
- C) 2 ve 6
- D) 3 ve 6

16. Aşağıdakilerden hangisi bilinçli tüketici davranışı **değildir**?

- A) Fiş veya fatura almak.
- B) Reklamı çok yapılan ürünleri almak.
- C) Elektronik eşya alırken garanti belgesini almak.
- D) Hem kaliteli hem ucuz olan ürünleri almak.