

4.SINIF TÜRKÇE DEĞERLENDİRME ÇALIŞMASI





1. Aşağıdaki sözcüklerden hangisi üç heceden fazladır?

- A) ormanlık B) sorumlu
C) elbiseler D) telefon

2. Aşağıdaki sözcüklerden hangisi alfabetik sıralamada ilk önce yer alır?

- A) çeşme B) çetin
C) çekirdek D) çerçeve

3. Aşağıda görselleri verilen hayvanlardan hangisi sözlükte en sonda yer alır?

- A)  Penguen
B)  Kaplumbağa
C)  Koyun
D)  Leylek

4. Aşağıdaki cümlelerden hangisinde 4 heceli iki tane sözcük vardır?

- A) Bardağın altına bardaklığı koymalısın.
B) Senin için çok mu önemliydi?
C) Kütüphanede raflar, raflarda kitaplar var.
D) Heceleme konusu çok kolay.

5. "Hürriyet" kelimesinin eş anlamlısı aşağıdakilerden hangisidir?

- A) Hak B) Eşitlik
C) Özgürlük D) Köle

6. Sebzelerden sevdiğim;
Havuç, domates, oyun.
Meyvelerden yediklerim;
Elma, şeftali, oyun.
Bence en iyi besin oyun:
Çünkü hiçbir şey yemesem bile bazen,
Oynarken doyuyorum.

Yukarıdaki şiirin ana duygusu nedir?

- A) Meyve sevgisi B) Sebze sevgisi
C) Oyun sevgisi D) Bahçe sevgisi

7. Oyun oynamayı çok istedi ama elektrikler gitti.

Yukarıdaki cümlede altı çizili olan sözcüğün yerine aşağıdakilerden hangisi yazılabilir?

- A) özellikle B) fakat
C) bu nedenle D) yoksa

8

—————
Koynundan ayırsa beni,
Vatanım, özlerim seni.
Hemen de güneşim gelir.
Hasretinle yanıp uğruna,
Canımı veresim gelir.

Yukarıdaki şiirin başlığı hangisi olacaktır?

- A) Anne özlemi B) Vatan hasreti
C) Bayrağa saygı D) Millet sevgisi

4.SINIF SOSYAL BİLGİLER DEĞERLENDİRME
ÇALIŞMASI

4.SINIF MATEMATİK DEĞERLENDİRME
ÇALIŞMASI

1. Aşağıda verilen teknolojik araçlardan hangisi diğerlerinden önce icat edilmiştir?

- A) Cep telefonu B) Radyo
C) Televizyon D) Tren

2. Aşağıdaki teknolojik araçlardan hangisi ulaşım alanında kullanılmaz?

- A) Uçak B) Teleferik
C) Biçerdöver D) Tren

3. Telefonu icat eden mucit aşağıdakilerden hangisidir?





- A) Thomas Edison B) Albert Einstein
C) Graham Bell D) John L. Baird

4. Aşağıdakilerden hangisi şimdiki telefonlar için söylenemez?

- A) Daha elverişlidir.
B) Kolay taşınabilir.
C) Hepsi aynı boydadır.
D) Birçok özelliği vardır.

5. İnsanlar haberleşmek için zaman içinde farklı iletişim araçları kullanmışlardır.

Aşağıdaki araçlardan hangisi diğerlerinden daha önce kullanılmıştır?

- A)  B) 
C)  D) 

1. Bir saatte 72 km yol gidebilen bir otomobil aynı hızla 7 saatte kaç kilometre yol gider?

- A) 404 B) 304
C) 504 D) 610

2. Saatte 6 km koşabilen bir koşucu 1 dakikada ortalama kaç metre koşabilir?

- A) 400 B) 200
C) 250 D) 100

3. Bir saat, bir günün kaçta kaçtır?

- A) $\frac{1}{12}$ B) $\frac{1}{24}$ C) $\frac{1}{7}$ D) $\frac{1}{48}$

4. 3 çeyrek saat, kaç dakikadır?

- A) 15 B) 30 C) 45 D) 60

5. 14.15'te başlayan kar yağışı aralıksız olarak 120 dk sürdü.

Buna göre kar yağışı bittiğinde saat kaçtır?

- A) 16.15 B) 15.15
C) 17.15 D) 18.15

6. Melih çalıştığı iş yerinde saat başı 20 TL alır.

Buna göre Melih 8 saatte kaç lira kazanır?

- A) 160 B) 120
C) 100 D) 150

BAŞARILAR DİLİYORUM