

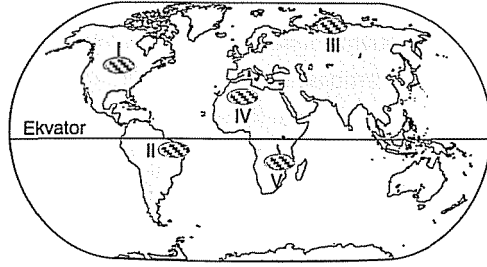
1-E 2-E 3-E 4-D 5-D 6-A 7-B 8-A 9-A 10-B

11-C 12-C J3-D U-C

1. Aşağıdaki iltlim bölgelerinden hangisinde, insanlar tarafından çeşitli nedenlerle tahrip edilen ormanlık bir alan doğal koşullarda frendini daha kısa sûrede yenileyebilir?

- A) Step iklimi B) Karasal iklim  
C) Çöl iklimi D) Akdeniz iklimi  
E) Ekvatorial iklim

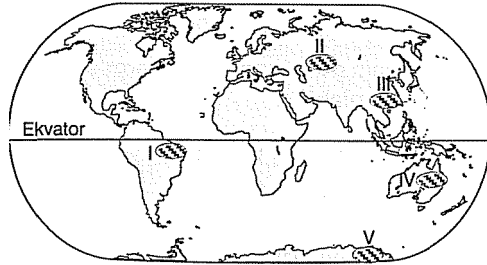
2.



Bitki türleriyle ilgili araştırmalar yapan bir bilim adamı, haritada numaralandırılan tarall bölgelerden hangilerinde inceleme yaptığındabenzen bitki türlerine daha çok rastlar?

- A) I ve II B) II ve III C) II ve V  
D) III ve IV E) IV ve V

3. Bitkiler, şevre koşullarının elverişli olduğu alanlarda doğal olarak yetişip yaşamlarını sürdürebilirler.



Haritada numaralandırılan taralı alanların coğrafi koşulları göz önüne alındığında, hangisi doğal olarak bitki yetişmesine elverişli değildir?

- A) I B) II C) III D) IV E) V

4. Kuzey Afrika'dan Kongo Havzası'na giden bir kişinin, aşağıdakilerin hangisinde artış gözlemesi daha çok beklenir?

- A) Mekanik çözülme  
B) Yıllık sıcaklık farkı  
C) Güneşli gün sayısı  
D) Yıllık ortalama yağış miktarı  
E) Yıllık ortalama basınç değeri

5. Akdeniz ikliminin etkili olduğu bir bölgede, aşağıdaki özelliklerden hangisi görülmez?

- A) Yazları sıcak ve kurak geçer.  
B) Kışlar ılıman ve yağışlı geçer.  
C) Dönenceler ile kutup daireleri arasındadır.  
D) Güneşli gün sayısı en fazla sonbaharda olur.  
E) Yıl içinde görülen yağışların büyük bölümü cepheseldir.

6. Orta kuşakta yer alan bir bölgede, yaz ve kış mevsimleri arasındaki sıcaklık farkı fazla ve nem oranı düşüktür.

Bu bilgiye dayanarak, bu **bölgeyle** ilgili aşağıdaki yorumlardan hangisi yapılabilir?

- A) Deniz etkisine kapalıdır.  
B) Günlük sıcaklık farkları azdır.  
C) Bitki örtüsü geniş yapraklı ormandır.  
D) Yağışın yıl içinde dağılışı düzenlidir.  
E) Yağışlar yıl boyunca yağmur olarak düşer.

T. İngiltere'de her mevsimi yağışlı olan, yazın aşırı sıcakların, kışın aşırı soğukların görülmediği bir iklim tipi etkilidir.

Buna göre, İngiltere'de aşağıdaki doğal bitki örtülerinden hangisinin yaygın olarak görülmesi beklenir?

- A) Tundra B) Orman C) Step  
D) Savan E) Maki

8. Aşağıdaki haritada, Afrika Kıtası'ndaki başlıca doğal bitki örtülerinin dağılışı gösterilmiştir.



Haritaya göre, aşağıdaki yargılardan hangisine varılamaz?

- A) Kıtanın büyük bölümü Güney Yarım Küre'dedir.  
B) Ormanlık alanlar kıtanın daha çok orta kesiminde toplanmıştır.  
C) Kıtada sıcak kuşak iklimlerinin görüldüğü bölgeler daha geniş yer tutar.  
D) Kıtada çöl iklimi görülen bölgeler, ekvatorial iklim bölgesinden fazladır.  
E) Kıtanın kuzey ve güney kıyılarında, Akdeniz iklimi görülen bölgeler vardır.

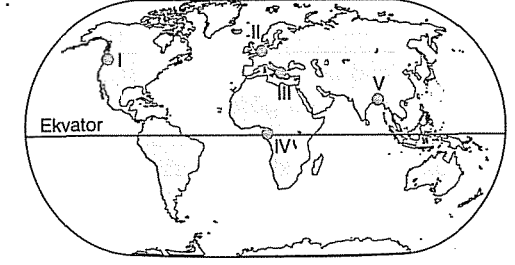
9. Aşağıdaki iklim tiplerinden hangisi, daha çok dinamik yüksek basınç kuşaklarının yıl boyunca etkili olduğu bölgelerde gelişme göstermiştir?

- A) Çöl iklimi B) Karasal iklim  
C) Muson iklimi D) Akdeniz iklimi  
E) Okyanusal iklim

10. I. Kışın erken gelip çok uzun sürmesi  
II. Yazların sıcak ve kurak, kışların ılık ve yağışlı olması  
III. En sıcak ayın ortalama sıcaklık değerinin 10 °C'yi geçmemesi  
IV. Yaz ve kış mevsimleri arasındaki sıcaklık farkının bir kaç dereceyi geçmemesi  
Yukarıdaki özelliklerden hangileri, Nndra iMi-mine aittir?

- A) I ve II B) I ve III C) II ve III  
D) II ve IV E) III ve IV

11.



Yazları sıcak ve kurak, kuşları ise ılıt ve yağışlı geçen yerlerde yetişen, soğuğa dayanıksız bir kültür bitkisi haritada numaralandırılan merkezlerin hangisinde doğal olarak yetişir?

- A) I B) II C) III D) IV E) V

2. Aşağıdaki bitki örtülerinden hangisinin doğal olarak yetiştiği ve yaygın olduğu bölgelerde, yıllık sıcaklık ve yağış ortalamaları daha fazladır?

- A) Step B) Tundra C) Savan  
D) Dağ çayırı E) Maki

13. I. Almanya  
II. Brezilya  
III. Yunanistan  
IV. Endonezya

Yukarıdaki ülkelerden hangileri, iltlim özellikleri yönüyle daha çok benzerlikt gösterir?

- A) I ve II B) I ve III C) II ve III  
D) II ve IV E) III ve IV

14. Karasallığın kuvvetli olduğu bölgelerde, denizden gelen nemli hava kütlelerinin etkili olamaması nedeniyle yıllık yağış çok az buna karşılık buharlaşma şiddeti fazladır. Bu durum, çöl koşullarının oluşmasına olanak sağlamıştır.

Aşağıdaki bölgelerin hangisinde görülen çölleşme, yukarıdaki duruma bağlanabilir?

- A) Meksika B) Kuzey Afrika  
C) Orta Asya D) Avustralya  
E) Büyük Sahra