

YAZILI HOCAM ORTAOKULU 5.SINIF MATEMATİK DERSİ 2.DÖNEM 1.YAZILI SORULARI

Adı ve Soyadı :

Sınıf /No : yazilihocam.blogspot.com

PUAN

1)

$$\frac{5}{8} + \frac{3}{16}$$

Yukarıda verilen toplama işleminin sonucu aşağıdakilerden hangisidir?

- A) $\frac{8}{24}$ B) $\frac{13}{16}$ C) $\frac{8}{16}$ D) $\frac{8}{13}$

5)



$\frac{4}{6}$ kesrini 3 ile genişletirsek aşağıdakileri hangi kesri elde ederiz ?

- A. $\frac{8}{12}$ B. $\frac{12}{18}$ C. $\frac{16}{18}$ D. $\frac{12}{24}$

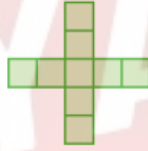
2)



1.Adım



2.Adım

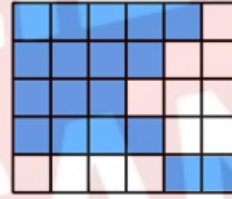


3.Adım

Yukarıda verilen şekil örüntüsünün 7.adımında kaç tane kare bulunur?

- A) 17 B) 21 C) 25 D) 29

6)



Yanda modellenen kesrin % sembolü ile gösterilişi aşağıdakilerden hangisidir?

- A) %18 B) %40 C) % 55 D) %60



Aşağıdaki üslü sayılar hangisinin sonucu yanlıştır ?

- A. $6^2 = 6 \times 6 = 36$
 B. $8^3 = 8 \times 8 \times 8 = 512$
 C. $9^2 = 9 \times 2 = 18$
 D. $7^2 = 7 \times 7 = 49$

16)

7)



$9 \times (10 \div 2)$ işleminin sonucu kaçtır ?

- A. 24 B. 32
 C. 40 D. 45

4) 75 sayısının $\frac{3}{5}$ i kaçtır?

- a) 128 b)125 c) 45 d) 78

8) Bir bölme işleminde bölen 32, bölüm 23 ve kalan 17 'dir. Buna göre bölünen sayı kaçtır?

- A) 701 B) 728 C) 736 D) 753

9)



$\frac{81}{100}$ kesrinin % sembolü ile yazılışı aşağıdakilerden hangisidir ?

- A. % 19 B. % 80
C. % 81 D. % 100

13)

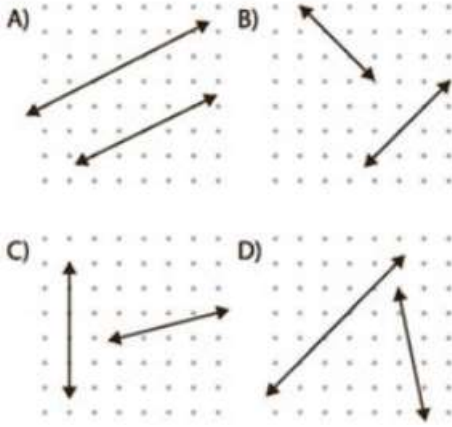


Yanda verilen noktali kâğıtta B noktasının A noktasına göre konumu aşağıdakilerden hangisidir?

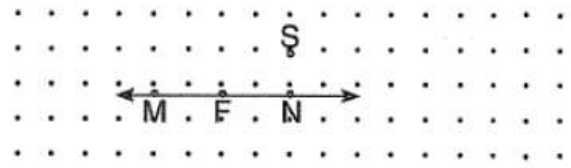
- A) 7 br solunun 4 br aşağısında
B) 7 br solunun 4 br yukarısında
C) 7 br sağının 4 br yukarısında
D) 7 br sağının 4 br aşağısında

10)

Aşağıdaki hangi seçenekte verilen doğrular dik kesişir ?



14)



Aşağıdaki noktalardan hangisi verilen doğru üzerinde değildir?

- A) M B) F
C) S D) N

11)

Aşağıdaki eşleştirmelerden hangisi yanlıştır?

A) A
A noktası

B) A B
[BA]

C) C D
[DC]

D) A B
[BA]

15)

Aşağıda verilen ışıklardan hangisinin gösterimi doğrudur?

A) Y M [YM]

B) R G [RG]

C) Z F [FZ]

D) T L [TL]

12)

Aşağıdakilerden hangisinin gösterimi [AB]'dir?

A) A B

B) A B

C) A B

D) A B

16)

A B

Aşağıdakilerden hangisi bu doğru parçasının gösterimi değildir?

- A) [AB] B) [BA] C) \overline{AB} D) \overleftrightarrow{BA}