

MATEMATİK ÇIKARMA PROBLEMLERİ

Kaan 16 sayfalık kitabın 9 sayfasını okudu. Kaan kitabın kaç sayfasını okumamıştır?

Aslı 20 sorunun 7 tanesini cevapladı. Cevaplanmayan kaç soru kalmıştır?

Sınıfımızda 18 öğrenciden 6 kişi gelmemiştir. Sınıfımızda kaç öğrenci gelmiştir?


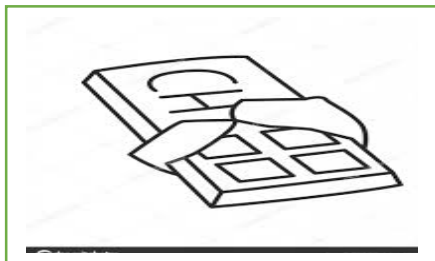
Gazi cebindeki 19 liranın 8 lirasını harcadı. Gazi'nin cebinde kaç lira kalmıştır?

Çaycı Şamil tepsisindeki 20 bardak çayın 13 tanesini dağıttı. Geriye kaç bardak çay kalmıştır?

İbrahim 12 satırlık şiirin 8 satırını yazdı. Geriye yazılmayan kaç satır kalmıştır?

Zeki 8 yaprak ödevin 6 yaprağını yaptı. Geriye yapılmayan kaç yaprak ödev kaldı?

Yasin 20 adet çikolatanın 9 tanesini dağıttı. Yasin'in elinde kaç tane çikolata kaldı?



Bir şoför 19 saatlik yolun, 8 saatini gitti. Geriye kaç saat yolculuk kaldı?

9 arkadaş oyun oynarken 6 arkadaş ayrılıyor. Oyun alanında kaç arkadaş kalmıştır?

Turgay 14 misketin 9 tanesini sattı. Turgay'ın kaç tane misketi kaldı?

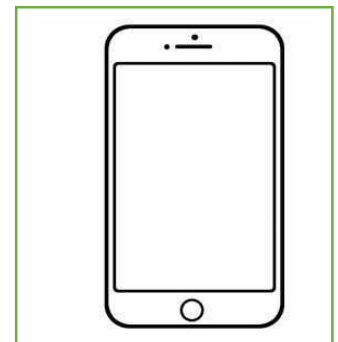

Tarık elindeki 15 gazetenin 9 tanesini sattı. Satılmayan kaç tane gazete kalmıştır?

Defne 17 kitabın 10 tanesini okudu. Geriye okumadığı kaç kitap kaldı?

18 öğrencinin 11'inde cep telefonu vardır. Cep telefonu olmayan kaç öğrenci vardır?

Veli 9 çorabından 7 tanesini ıslatmış. Kuru kalan çorap kaç tanedir?

Emin günde 20 bardak içiyorken, bugün 16 bardak çay içmiştir. Bugün kaç bardak çay az içmiştir?



MATEMATİK ÇIKARMA PROBLEMLERİ

Uğur 12'lik boya kaleminden 8 tanesini kaybetti. Geriye kaç tane boya kalemi kalmıştır?

Fatih 17 kilo cevizin 9 kilosunu sattı. Geriye kaç kilo ceviz kaldı?

Çağrı 14 ceviz fidanından 7 tanesini dikti. Geriye ekilmeyen kaç tane ceviz fidanı kaldı?



Sokağımızdaki 18 kediden 8 tanesi kayboldu. Sokağımızda kaç tane kedi kaldı?

Sinan 20 tane sarma dolmanın 15 tanesini yedi. Geriye kaç tane sarma dolması kalmıştır?

Zihni elindeki 13 cep telefonun 3'ünü sattı. Elinde kaç adet cep telefonu kaldı?

Otoparktaki 19 araçtan 6 tanesini gitti. Geriye kaç tane araç kalmıştır?

Okulun 16 penceresinden 7 tanesini açık kalmış. Okulda kaç tane pencere kapalıdır?



Bir iş yeri 20 işçisinden 4 tanesini çıkardı. Geriye çalışan kaç işçi kalmıştır?

Hayri 20 sayfalık resim defterinin 11 sayfasına resim yaptı. Kaç sayfa, boş sayfa kalmıştır?

Bir futbol takımında 11 oyuncudan 3 tanesi kırmızı kart gördü. Maçta kaç oyuncu kalmıştır?

Ahmet arabasına 16 litre benzin doldurdu. Hafta sonu 11 litresini tüketti. Arabada kaç litre benzin kaldı?

Bir salonda 18 lambadan 3'ü açık kalmıştır. Kaç lamba kapatılmıştır?

Bir kargocu 16 müşteriden 9'unun ürününü dağıttı. Kaç müşterinin ürünü dağıtılamadı?

Ceyda 17 oyuncakından 4 tanesini kırdı. Geriye kaç tane sağlam oyuncak kalmıştır?

Mahallemizdeki 9 boş evden 7 tanesi tutuldu. Geriye kaç tane boş ev kalmıştır?



Ömer'in akvaryumunda 15 tane Japon balığı vardı. 8 tanesini arkadaşı Hasan'a hediye etti. Ömer'in kaç tane Japon balığı kaldı?

Gülay'ın 12 saksı çiçeğinden kışın 4 tanesi kurudu. Gülay'ın kurumayan kaç saksı çiçeği kaldı?

Toplantının başında 19 öğrenci velisi vardı. Toplantının ortasında 6 öğrenci velisi ayrıldı. Toplantı kaç öğrenci velisiyle bitirildi?


EBA'da öğretmenimizin gönderdiği 14 çalışmadan 11 tanesini tamamladım. Geriye kaç tane çalışma kaldı?

Nermin 16 sayfalık kitabının 9 sayfasını okudu. Geriye okunmayan kaç sayfa kalmıştır?

Perihan'ın oturduğu apartmanda 20 daire vardır. Bu apartmanda 9 dairede kiracılar oturmaktadır. Apartmanda kaç dairede ev sahipleri oturmaktadır?

Okulumuza 15 tane servis geliyor. Bu servislerden 6 tanesi gitti. Geriye kaç tane servis kaldı?

Yahya 8 kase sütlaktan 5 kase sütlacı yedi. Geriye kaç kase sütlak kaldı?



Minibüste 18 kiři vardı. arşıya yaklaşınca 12 kiři indi. Diğerleri son durakta indi. Son durağa kadar kaç yolcu kalmıştır?

Ceyhun bu ay 20 gün okula gitmesi gerekirken 6 gün okula gitmedi. Ceyhun bu ay kaç gün okula gitmiştir?

Hatice elindeki 18 hikaye kitabının 6 tanesini okudu. Elinde okumadığı kaç tane hikaye kitabı kalmıştır?

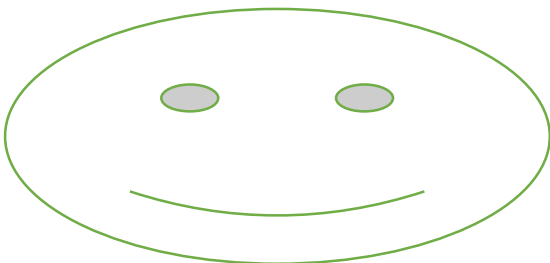
Semih elindeki 12 boya kaleminden 7 tanesini kaybetti. Semih'in elinde kaç tane boya kalmıştır?

Evde 13 tane su bardağı vardı. Zamanla 5 tanesi kırıldı. Elimizde kaç tane su bardağı kalmıştır?

Evimizde 16 tane misafir vardı. 9 tanesi az önce gitti. Evimizde kaç tane misafir kalmıştır?

Bahçemizde 20 adet lale vardı. 7 tane lale kurumuş. Kurumayan lale sayısı kaçtır?

Bir tepside 18 tane poğaçaya vardı. 11 tane poğaçayı yedik. Tepside kaç tane poğaçaya kalmıştır?



Kuşçunun kafesinde 14 tane muhabbet kuşu vardı. 6 tane muhabbet kuşu satıldı. Kafeste kaç tane muhabbet kuşu kaldı?

19 soruluk testin 7 tanesini çözdüm. Geriye çözmediğim kaç tane soru kalmıştır?

Bir fırıncı 15 kasa ekmeğin 11 kahasını sattı. Geriye kaç kasa ekmek kalmıştır?

Bir futbolcu 18 şuttan 8 tanesini gole çevirdi. Şutlardan kaç tanesi gol olmamıştır?

Şahin 17 inekten 8 tanesini sattı. Elinde kaç tane inek kalmıştır?

Mahmut 15 oyuncak arabasından 6 tanesini kaybetti. Kaç tane oyuncak arabası kaldı?

Kargocu elindeki 19 kargonun 12 tanesini dağıttı. Kaç tane kargo dağıtılmadı?

Bahçemizdeki 13 erik ağacının 9 tanesi çiçek açtı. Çiçek açmayan kaç tane erik ağacı kaldı?

