




# ☪ BÖLME İŞLEMLERİ ☪



12 oyuncak arabayı 2 arkadaş eşit paylaşıp oyun oynamak istiyorlar.  
Her birine kaç araba düşer yardımcı olalım.



Her birine 6 şar araba düşer.

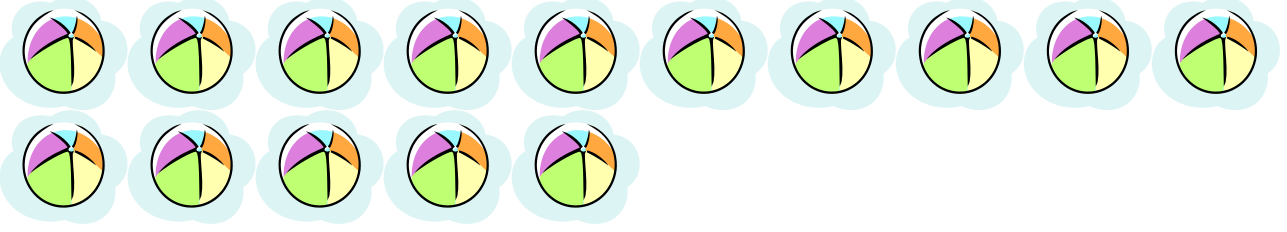
Aşağıdaki soruları siz de yukarıdaki örnekte olduğu gibi yapınız.

☞ 10 muzı 2 maymuna eşit şekilde paylaşalım. Her maymuna kaç muz düşer?




☪ BÖLME İŞLEMLERİ ☪

☞ 15 topu 3 arkadaşta eşit olarak paylaşınız.




Her birine .....top düşer.

8 armudu 2'şerli gruplayınız.



# ☪ BÖLME İŞLEMLERİ ☪

Anne tavşan 3yavrusuna 12 havucu eşit olarak paylaştırıyor.



\*Her bir yavru tavşan ..... havuç almıştır.