





DESTE DÜZİNE

Aşağıdaki nesnelerin 1 deste kadarını boyayınız.



Aşağıdaki nesnelerin 1 düzine kadarını boyayınız.




Aşağıdaki ifadelerden doğru olanların başına D yanlış olanların başına Y koyalım.

- 1 ayda 3 deste kadar gün vardır.
- Sınıfımızdaki öğrenci sayısı 2 düzineden fazladır.
- Sınıfımızdaki masa sayısı 2 destedir.
- Ellerimdeki parmakların sayısı 1 düzinedir.

Aşağıdaki kutuya 1 düzine kalem çiziniz.

Aşağıdaki kutuya 1 deste çiçek çiziniz.

Aşağıdaki kutucukta ne kadar fil olduğunu hangi hayvan dostumuz bilmıştır?




2 Düzine



2 Deste



3 Düzine



3 Deste

Şeref SARIKAYA