

PARA PROBLEMLERİ



	3 tane
	2 tane
	4 tane

1-) Keloğlan'ın kumbarasından çıkan para yukarıdaki tabloda verilmiştir. Toplam kaç TL parası vardır?









Cevap:

2-) Pamuk Prenses'in 85 TL parası vardır. Şekildeki elbiseden 2 tane alıyor. Geriye kaç TL parası kalır?



36 TL

Cevap:



3-) Örümcek Adam muz, portakal ve yumurta alıyor. 20 TL para veriyor. Kaç TL para üstü alır?



4-) Rafadan Tayfa'nın kumbaralarından çıkan para yukarıda verilmiştir. Toplam kaç TL'dir?



Cevap:



5-) Pembe Panter 3 tane balık, 2 tane tavuk alıyor. Kaç TL para öder?



Cevap:

6-) Niloya 2 tane süt, 3 tane tavuk alıyor. Kaç TL para öder?



Cevap:

7-) Pepe'nin 50 TL parası var. 3 tane süt, 2 tane balık alıyor. Geriye kaç TL parası kalır?



Cevap: