

MİNİ TEST 3

TÜRKÇE

1. Zübeyde Hanım (1)a baktı:
(2) Bu davetiye sana, dedi.
— Bana mı(3) kimden(4)
Numaralı yerlere hangi noktalama işaretleri konulmalıdır?
- 1 2 3 4
A) (') (-) (,) (!)
B) (') (—) (,) (?)
C) (,) (—) (,) (.)
2. Aşağıdaki cümlelerin hangisinde **yazım hatası** vardır?
A) Türkiye'nin başkenti Ankara'dır.
B) Ben 10 ocak 2010'da doğdum.
C) Cumhuriyet Bayramı'nı çoşkuyla kutluyoruz.
3. Aşağıda verilen cümlelerin hangisinde zıt anlamlı kelimeler **bir arada kullanılmıştır**?
A) Sabah erkenden uyandım.
B) Annemin bugün çok işi var.
C) Bu çikolata çok pahalı, daha ucuzunu alalım.
4. "**Üzüntü, Rüzgar, Sonunda**" kelimelerinin **eş anlamlıları** sırasıyla hangi seçenekte verilmiştir?
- A) keder yel nihayet
B) sevinç hortum başında
C) acı fırtına ancak

Karganın biri evin birinden bir peynir çalmış. Gölün yanındaki ağaçta konmuş. Göle bakınca ağzında koca bir peynir olan karga görmüş. Karganın ağzındaki peyniri alayım derken ağzındaki peyniri göle düşürmüştü. Böylece ağzındaki peynirdende olmuş.

5,6 ve 7. soruları metne göre cevaplayınız.

5. Metne en uygun başlık hangisidir?
A) Göldeki Karga
B) Hırsız Karga
C) Aç Gözlü Karga
6. Metinden hangi dersi çıkarmalıyız?
A) Ağaç yaş iken eğilir.
B) Aç gözlü olursak elimizdekini de kaybedebiliriz.
C) Kıskançlık kötü bir duygudur.
7. Karga peyniri nereden çalmıştır?
A) Evin birinden
B) Çiftlikten
C) Marketten

SÖZCÜK	EŞ ANLAMLISI	ZIT ANLAMLISI
İhtiyar	1	genç
kara	siyah	2
kolay	3	zor
4	ırak	yakın

Numaralı yerlere sırasıyla hangi sözcükler yazılmalıdır?

- 1 2 3 4
A) yaşlı ak basit uzak
B) çocuk al ağır mesafe
C) koca gece hafif ara
9. "Hey () Kenara çekilin ()" parantez içlerine sırasıyla hangi noktalama işaretleri gelmelidir?
A) (,) (?) B) (,) (!) C) (!) (.)
10. Doğal kaynakları yanlış kullanmak çevre kirliliğine neden olmaktadır. Doğaya atılan zararlı atıklar hem doğaya hemde atmosfere zarar vermektedir. Çevre kirliliğinin nedenlerinden birisi de insanların bilinçsiz davranışlarıdır.
- Yukarıdaki paragrafa göre aşağıdakilerden hangisi **söylenemez**?
- A) İnsanların bilinçsiz davranışı çevre kirliliğine neden olur.
B) Kaynakları yanlış kullanmak çevre kirliliğine neden olur.
C) Doğaya atılan zararlı atıklar sadece havayı kirletir.

MATEMATİK

Örnek:	
$\begin{array}{r} 29 \\ \downarrow \\ 30 \end{array} + \begin{array}{r} 4 \\ \downarrow \\ 3 \end{array} = 33$	$\dots + \dots = 50 + 3 = 53$

Yukarıdaki örneğe göre sağda verilen zihinden toplama aşağıdakilerden hangisidir?

- A) 46 + 7 B) 49 + 4 C) 48 + 5
2. Manav Ahmet Bey bir günde 20 kiloğram elma, elma miktarından 6 kilogram fazlada portakal satmıştır. **Buna göre Ahmet Bey bir günde ne kadar meyve satmıştır?**
- A) 26 B) 36 C) 46
3.
$$\begin{array}{r} 62 \\ -26 \\ \hline \end{array}$$

$$\begin{array}{r} \dots \\ - \dots \\ \hline \end{array}$$
 Yandaki çıkarma işleminde tahmin ile işlem arasındaki fark kaçtır?
- A) 6 B) 3 C) 4

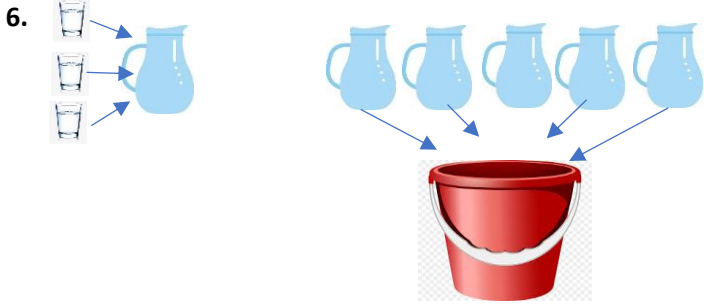
4. $11 + 5 = 24 - \square$

Yukarıdaki eşitliğin doğru olması için \square ile belirtilen yere hangi sayı yazılmalıdır?

- A) 7 B) 8 C) 9

5. Bir depoda 65 kova su vardı. Yusuf 30 kova su ile sabah ağaçları suladı, 19 kova su ile akşam sebzeleri suladı.
Depoda kaç kova su kalmıştır?

- A) 24 B) 20 C) 16



3 bardak 1 sürahiyi doldurmaktadır. 5 sürahi 1 kovayı doldurmaktadır.

Buna göre kova kaç bardak su ile dolar?

- A) 20 B) 15 C) 10

7. 4 deste kalem olan Beyza, kalemlerin 1 düzinesini kendisi kullanmış, kaleminin 8 tanesini arkadaşı Reyvan'a vermiş.
Buna göre Beyza'nın kaç kalem kalmıştır?

- A) 20 B) 30 C) 40

8. $14 + 12 = \square$

$40 + 18 = \triangle$

$\square + \triangle = ?$ İşlemin sonucu kaçtır?

- A) 74 B) 84 C) 94

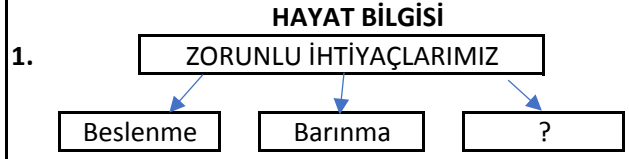
9. () 1 düzine, 1 desteden 2 fazladır.
() 37 sayısındaki 3 rakamının basamak değeri 30'dur.
() iki basamaklı en büyük dağal sayı 99'dur.

Doğru olan ifadelere (D), yanlış olan ifadelere (Y) yazılırsa görünüm nasıl olur?

- A) D - D - D B) Y - Y - Y C) D - Y - D

10. Çocuklar, benim yaşıma en yakın onluk 50'dir.
Buna göre ben kaç yaşında olabilirim?

- A) 55 B) 49 C) 44



Yukarıda ki soru işareti(?) yerine aşağıdakilerden hangisi yazılmalıdır?

- A) Giyinme B) Spor C) İstek

2. * Otobüste yer vermeliyiz.
* Yardıma ihtiyaç duyan insanlara karşı olmalıyız.
* Hasta olan komşularımızı ve akrabalarımızı etmeliyiz.

Yukarıdaki ifadelerle sırasıyla hangi seçenekte olanlar yazılmalıdır?

- A) insanlara - kötü - davet
B) yaşlılara - duyarlı - ziyaret
C) gençlere - ilgisiz - rahatsız

3. Hem anne, hem baba tarafından **ortak akrabamız** olan hangisidir?

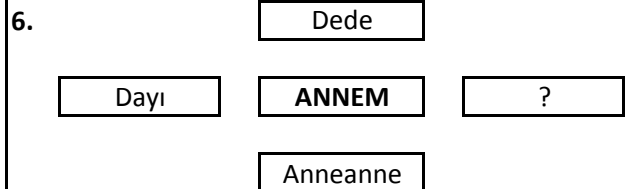
- A) Amca B) Kuzen C) Teyze

4. Aşağıdakilerden hangisini doğal kaynakları tasarruflu kullandığını söyleyen biri **yapmaz**.

- A) Hava karardıktan sonra odamın lambasını yakarım.
B) Dişlerimi fırçalarken musluğu açık bırakırım.
C) Soğuk havalarda pencereleri kapalı tutarım.

5. Ailemizde pikniğe gidilecek yere nasıl karar verilmelidir?

- A) Babanın dediği yere gidilmeli
B) Anne ve babanın dediği yere gidilmeli
C) Aile bireyleri ortak karar vermeli



"?" işareti yerine ne yazılmalıdır?

- A) Amca B) Hala C) Teyze

İNGİLİZCE

one, two, three, four, five, six, seven, eight, nine, ten

How many? Kaç tane?

How old are you? Kaç yaşındasın?

How are you? Nasılsın?

Turn right-Sağa dön