

GÖREV1-Metni anlayana kadar okuyun, bir büyüğünüze sesli okuyun.

GÜZEL ÜLKEM, TÜRKİYE’M

Evimizin yakınlarındaki evler birleşerek mahalleyi, mahalleler birleşerek semtleri, semtler birleşerek ilçeleri oluşturur. İlçeler birleşerek illeri, iller de ülkemizi oluşturur. Ülkemiz bir bütündür. Ülkemizin adı Türkiye Cumhuriyeti’dir. Başkentimiz Ankara’dır. Ülkemiz bizim için kutsaldır. Ülkemizin zarar görmesi bizim de zarar görmemiz demektir.

Hepimizin yaşadığı bir yer var. Kimimiz köyde, kimimiz ilçede, kimimiz ilde yaşar. Trafik gürültüsünden uzakta, hayvan sesleri arasında yaşayanlar var. Büyük şehrin gürültülü ortamında yaşayanlar da vardır. Kısaca herkesin yaşadığı ortam aynı değildir.

Ülkemiz Türkiye, 81 ile ayrılmıştır. Yurdumuzdaki en büyük yerleşim birimi ildir. İller, ilçelere ve köylere ayrılmıştır. Her birimiz bu illerin birinin sınırları içerisinde yaşıyoruz.



GÖREV 2- Aşağıdaki cümleleri tamamlayarak defterinize yazın.

Ülkemizin adı’dir.
Ülkemiz Türkiye ilden oluşmuştur.
Ülkemizin başkentidir.
İlimizin adı’dur.
Yurdumuzdaki en büyük yerleşim birimi

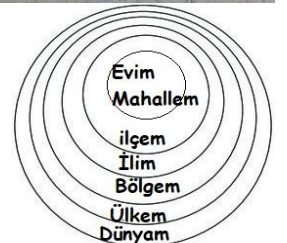


GÖREV 3- Haritadan ilimizi bulur musun?

GÖREV 4-Aşağıdaki etkinliği yapmaya ne dersin?



- 1-Bu etkinlik için farklı büyüklükte 6 daire çiz ve kes. (Bu iş için evdeki tabak ve bardakları kullanabilirsin.)
- 2-En büyükten başlayarak sırayla ;
Dünyam, Ülkem, Bölgem, İlim, İlçem, Mahallem, Evim yaz.
- 3-Ülkemizin, bölgemizin, ilimizin, ilçemizin adını ortalarına yaz.
- 4- İstersen örnekteki gibi resimlerini de çizebilirsin.
- 5- Daireleri iple ya da kurdele ile bağlayabilirsin.



GÖREV 5- İşlemleri matematik defterine yazın ve çözün.


Unutma! Çıkarma işleminde eksilen verilmediğinde çıkan ile fark toplanır.

$$\begin{array}{r} \square \\ -55 \\ \hline 37 \end{array} \quad \begin{array}{r} \square \\ -26 \\ \hline 18 \end{array} \quad \begin{array}{r} \square \\ -44 \\ \hline 18 \end{array} \quad \begin{array}{r} \square \\ -36 \\ \hline 47 \end{array} \quad \begin{array}{r} \square \\ -39 \\ \hline 45 \end{array} \quad \begin{array}{r} \square \\ -59 \\ \hline 18 \end{array} \quad \begin{array}{r} \square \\ -48 \\ \hline 24 \end{array} \quad \begin{array}{r} \square \\ -57 \\ \hline 34 \end{array} \quad \begin{array}{r} \square \\ -65 \\ \hline 38 \end{array} \quad \begin{array}{r} \square \\ -76 \\ \hline 19 \end{array}$$

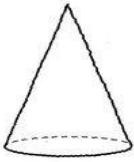
$$\begin{array}{r} 1 \\ \times 3 \\ \hline \end{array} \quad \begin{array}{r} 5 \\ \times 4 \\ \hline \end{array} \quad \begin{array}{r} 2 \\ \times 6 \\ \hline \end{array} \quad \begin{array}{r} 2 \\ \times 5 \\ \hline \end{array} \quad \begin{array}{r} 2 \\ \times 1 \\ \hline \end{array} \quad \begin{array}{r} 3 \\ \times 4 \\ \hline \end{array} \quad \begin{array}{r} 3 \\ \times 2 \\ \hline \end{array} \quad \begin{array}{r} 1 \\ \times 6 \\ \hline \end{array} \quad \begin{array}{r} 5 \\ \times 4 \\ \hline \end{array} \quad \begin{array}{r} 8 \\ \times 3 \\ \hline \end{array}$$

$$\begin{array}{r} 45 \\ -17 \\ \hline \end{array} \quad \begin{array}{r} 32 \\ -19 \\ \hline \end{array} \quad \begin{array}{r} 96 \\ -88 \\ \hline \end{array} \quad \begin{array}{r} 63 \\ -26 \\ \hline \end{array} \quad \begin{array}{r} 58 \\ -39 \\ \hline \end{array} \quad \begin{array}{r} 90 \\ -84 \\ \hline \end{array} \quad \begin{array}{r} 38 \\ -19 \\ \hline \end{array} \quad \begin{array}{r} 36 \\ -29 \\ \hline \end{array} \quad \begin{array}{r} 87 \\ -79 \\ \hline \end{array}$$

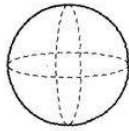
GÖREV 5- Aşağıdaki geometrik cisimlere evden örnekler bulabilir misin?



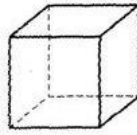
Silindir



koni



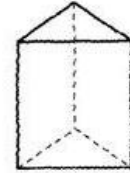
küre



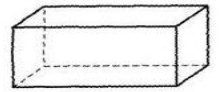
küp



kare prizma



üçgen prizma



dikdörtgen prizma

GÖREV 6- Aşağıdaki çalışmayı yapmak için istediğin bir malzemeyi kullanabilirsin. İşlemleri örnekteki gibi yapın.

1-Buğlem 20 fıncığı 4 arkadaşına paylaştırırsa her birine kaç fıncık düşer?

00000	00000	00000	00000
Ebrar	Gülnisa	Dilara	Tuana

$$\begin{array}{r} 20 \overline{) 4} \\ \underline{20} \\ 00 \end{array} \quad 5 \text{ fıncık düşer.}$$

2- Osman 15 cevizi 3 arkadaşına paylaştırırsa her birine kaç ceviz düşer?

3- Mert 16 fıstığı 4 arkadaşına paylaştırırsa her birine kaç fıstık düşer?

4- Azra 12 elmayı 6 arkadaşına paylaştırırsa her birine kaç elma düşer?

5- Anıl 32 eriği 4 arkadaşına paylaştırırsa her birine kaç erik düşer?

6- Elif Naz 24 şekeri Ali, Sinan, Mustafa ve Ecrin'e paylaştırırsa her birine kaç şeker düşer?

