

3. SINIF

MATEMATİK DERSİ 1. HAFTA ÇALIŞMA KAĞIDI



1. Aşağıda verilen doğal sayıların okunuşlarınızı yazınız.



SAYI	OKUNUŞU
158
246
591
372
923


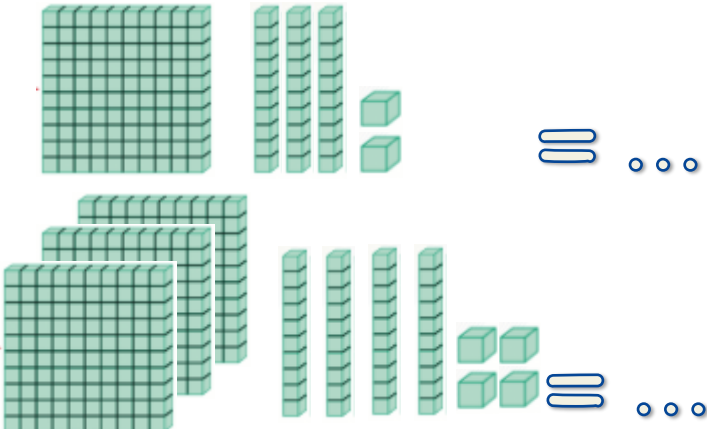
SAYI	OKUNUŞU
839
604
417
770
501

2. Aşağıda okunuşları verilen doğal sayıları rakamlarla yazınız.

OKUNUŞU	SAYI
Beş yüz kırk üç	...
Altı yüz yirmi dokuz	...
Yüz elli beş	...
İki yüz on sekiz	...
Dokuz yüz dokuz	...

OKUNUŞU	SAYI
Dört yüz bir	...
Üç yüz yetmiş altı	...
Sekiz yüz altmış iki	...
Yedi yüz seksen	...
Yüz doksan dört	...

3. Yüzlük, onluk ve birlik olarak modellenen sayıları yazalım.








4. Sayıları, okunuşları ile eşleştirelim.

428
296
803
192
571
990
778
601
359
444

Altı yüz bir
Dört yüz kırk dört
Dokuz yüz doksan
Sekiz yüz üç
Dört yüz yirmi sekiz
Üç yüz elli dokuz
İki yüz doksan altı
Yedi yüz yetmiş sekiz
Yüz doksan iki
Beş yüz yetmiş bir

5. Aşağıda verilen soruları cevaplayalım.

<p>1. "707" sayısının <u>okunuşu</u> aşağıdakilerden hangisidir? A) yedi yüz yetmiş B) yedi yüz C) yedi yüz yedi</p> 	<p>2. Üç basamaklı <u>en büyük</u> doğal sayı aşağıdakilerden hangisidir? A) 987 B) 990 C) 999</p> 
<p>3. Okunuşu "<u>altı yüz on altı</u>" olan sayı aşağıdakilerden hangisidir? A) 616 B) 606 C) 660</p> 	<p>4. Hatice'nin okul numarası <u>1 onluk ve 2 yüzlükten</u> oluşuyor. Hatice'nin okul numarası kaçtır? A) 120 B) 210 C) 211</p> 
<p>5. <u>Acil durum</u> telefon numarasının okunuşu aşağıdakilerden hangisidir? A) yüz on sekiz B) dokuz yüz doksan dokuz C) yüz on iki</p> 	<p>6. <u>Rakamları farklı</u>, üç basamaklı, en küçük doğal sayı kaçtır? A) 102 B) 100 C) 111</p> 