

1 - 30 'dan başlayarak yüzer yüzer 930 'a kadar ritmik sayma yapınız.

Çözüm :

2 - " 175 'ten başlayarak onar ritmik sayma yaptığımızda 10. saymada hangi sayı söylenir ?

Çözüm :

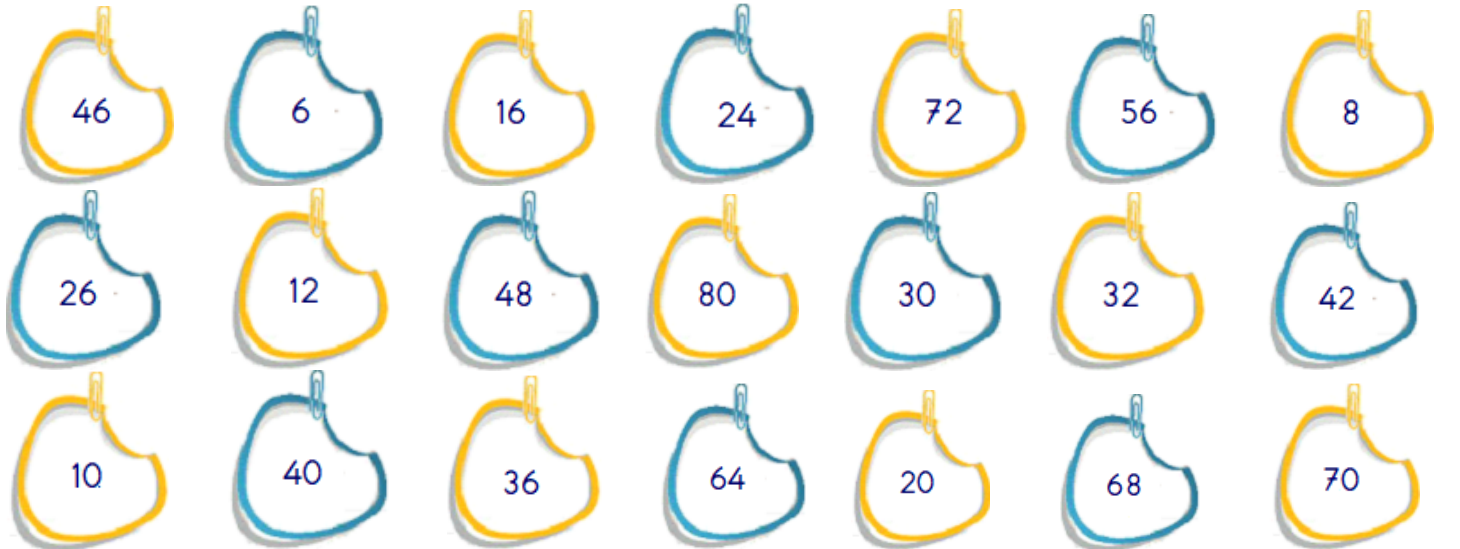
3 - 12 'den başlayarak altışar altışar 90 'a kadar sayınız.

Çözüm :

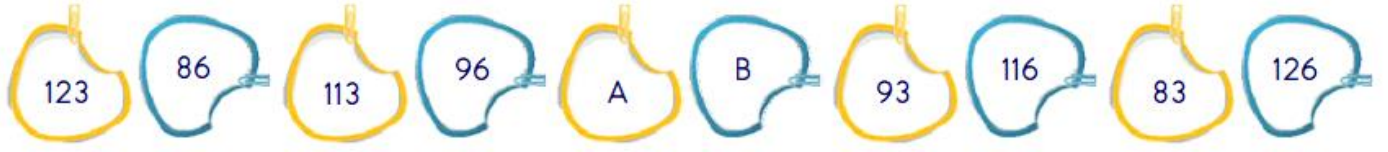
4 - Birden 100 'e kadar İhsan beşerli , Efe onarlı sayar. İhsan ile Efe hangi sayıları ortak söyler ? Yazınız.

5 - 98 'den başlayarak geriye doğru 5 'er ritmik sayarken 12. sıradaki sayı kaç olur ? Yazınız.

6 - 8 'in katı olan sayıları boyayınız.




7 -



Yukarıdaki sayı örüntüsünde A ile B yerine gelmesi gereken sayıların toplamı kaçtır ?

Çözüm :


8 -



Yukarıdaki şekil örüntüsünün kuralını yazınız.

Kural : .....

10 -



Yukarıdaki şemadaki toplam çiçek sayısını :

\* Ritmik sayma yaparak bulunuz.

.....


\* Toplama işlemi ile bulunuz.

.....

\* Çarpma işlemi ile bulunuz.

.....

11 -



Yukarıdaki şemadaki toplam ceviz sayısını :

\* Ritmik sayma yaparak bulunuz.

.....

\* Toplama işlemi ile bulunuz.

.....

\* Çarpma işlemi ile bulunuz.

.....

12 - " 9 ~ 18 ~ 27 ~ 36 ~ 45 ~  ~  ~  ~  ~  ~  "

sayıları bir kurala göre dizilmiştir. Buna göre "  " yerlerine hangi sayılar gelmelidir ?

Çözüm :

13 - " 1 - 3 ~ 6 ~ ? ~ 15 ~ 21 ~ ? ~ 36 ~ 45 "

Yukarıdaki sayı örüntüsünde soru işaretlerinin yerine sırayla hangi sayılar gelmelidir ?

Çözüm :

14 - " 4 ~ 7 ~ 10 ~ ? ~ 16 ~ 19 ~ 22 ~ ? "

Yukarıdaki sayı örüntüsünde " ? " işaretlerinin yerine sırayla hangi sayılar gelmelidir ?

Çözüm :

15 - Aşağıdaki yüzlük tabloda 7 'nin katı olan sayıların bulunduğu kutuları boyayınız.

1	2	3	4	5	6	7	8	9	10
11	12	13	14	15	16	17	18	19	20
21	22	23	24	25	26	27	28	29	30
31	32	33	34	35	36	37	38	39	40
41	42	43	44	45	46	47	48	49	50
51	52	53	54	55	56	57	58	59	60
61	62	63	64	65	66	67	68	69	70
71	72	73	74	75	76	77	78	79	80
81	82	83	84	85	86	87	88	89	90
91	92	93	94	95	96	97	98	99	100

16 - Aşağıdaki örüntüde verilmeyen sayıları bulunuz.



18 - Aşağıda verilen örüntü kuralına göre sayı örüntüsünü altı adım ilerletiniz.

\* Örüntünün kuralı : 3 artmış , 5 azalmış.



\* Örüntünün kuralı : 2 azalmış , 10 artmış.



\* Örüntünün kuralı : 9 artmış , 4 azalmış

