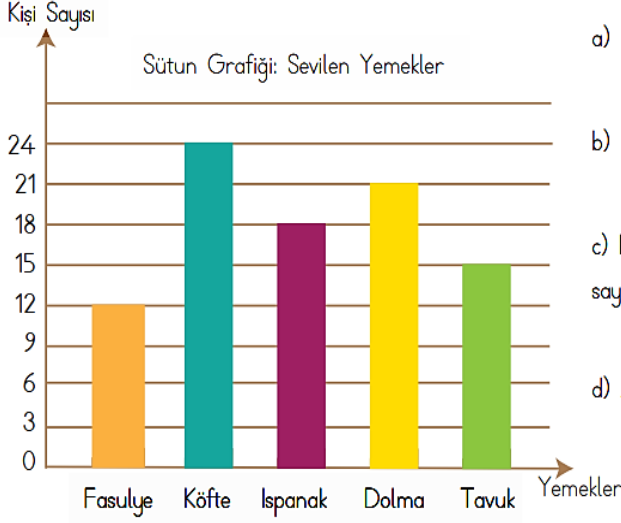


SÜTUN GRAFİĞİ



a) En çok sevilen yemek hangisidir?


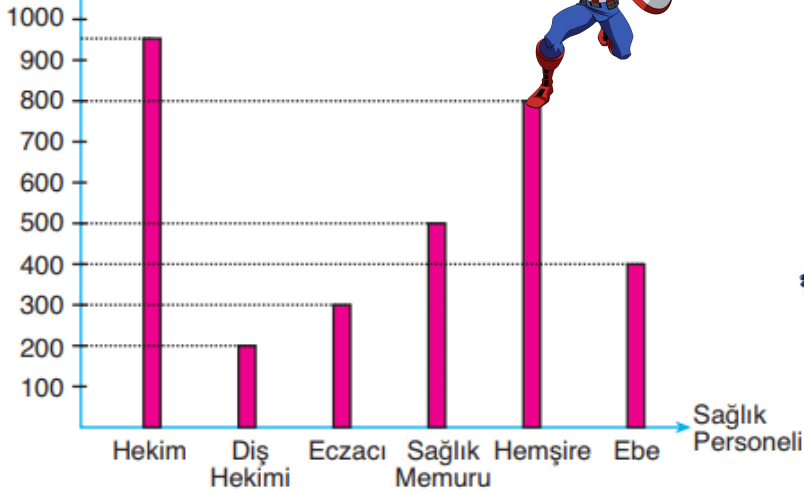
b) En az sevilen yemek hangisidir?

c) Köfte sevenlerin sayısı, tavuk sevenlerin sayısından kaç kişi fazladır?

d) Ankete toplam kaç kişi katılmıştır?



Personel sayısı



Grafikle ilgili 3 soru yazıp cevapla 😊