


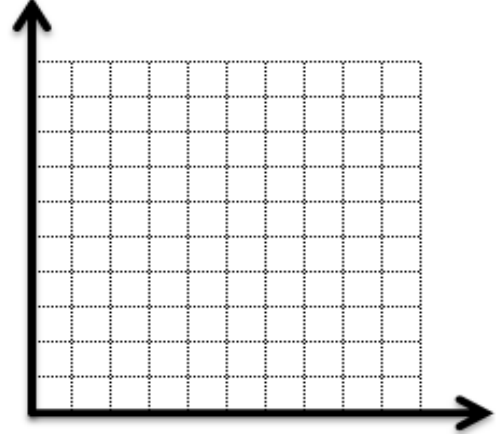
Adı:
Soyadı:
Sınıfı: No:

MATEMATİK DERSİ
SÜTUN GRAFİĞİ OLUŞTURMA



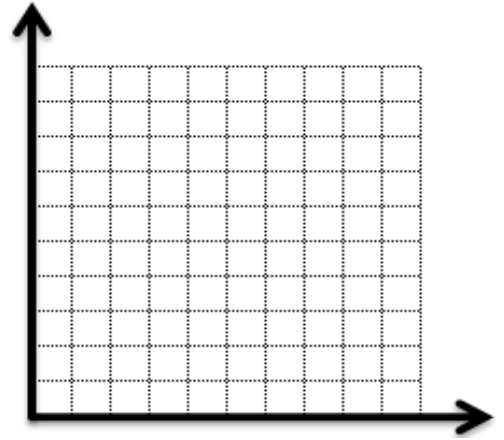
1) Kümesteki tavuklardan pazartesi günü 70, salı 60, çarşamba 70, perşembe 100 ve cuma günü 100 tane yumurta alınıyor. Verilen bu bilgilere göre tabloyu ve sütun grafiğini oluşturunuz.

Tablo:



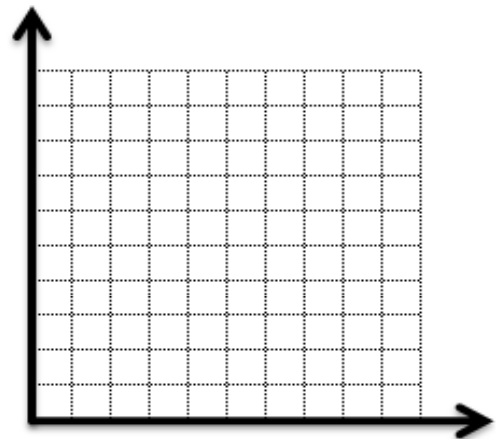
2) Öğrencilerden Armağan bir dakikada 90 sözcük, Nurten 63, Haşim 72, Eralp 54 ve Başer 45 sözcük okuyor. Verilen bu bilgilere göre tabloyu ve sütun grafiğini oluşturunuz.

Tablo:



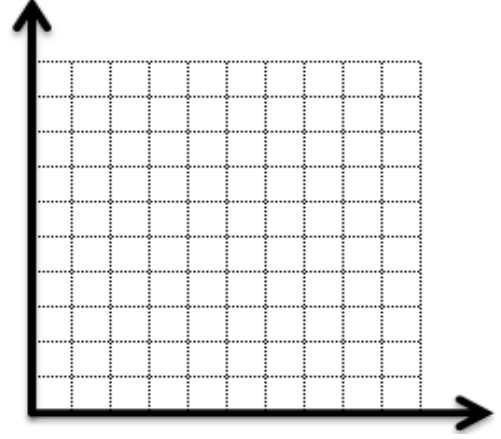
3) Bir yıl boyunca 4/B Sınıfındaki öğrencilerden; Davut 36, Berke 12, Bilgin 30, Alican 12 ve Arif 42 tane kitap okumuştur . Verilen bu bilgilere göre tabloyu ve sütun grafiğini oluşturunuz.

Tablo:



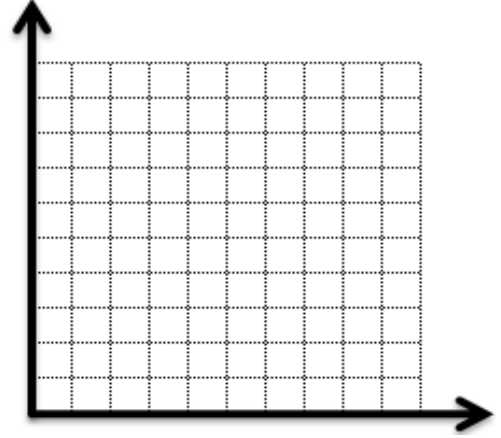
4) Bir çiçekçide bir haftada 56 orkide, 35 karanfil, 70 menekşe, 14 gül ve 21 tane lale satılmaktadır. Verilen bu bilgilere göre tabloyu ve sütun grafiğini oluşturunuz.

Tablo:



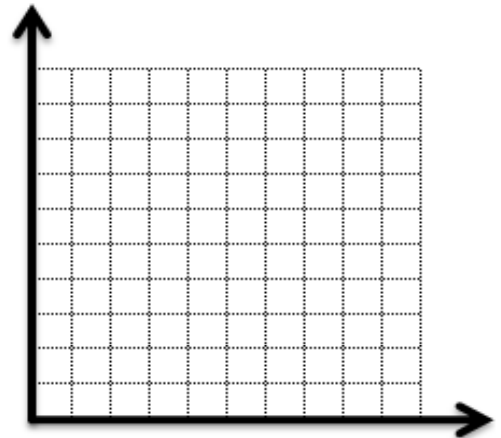
5) Bir otomobil fabrikasında bir haftada 54 beyaz, 27 kırmızı, 81 mavi, 54 sarı ve 63 yeşil otomobil üretilmektedir. Verilen bu bilgilere göre tabloyu ve sütun grafiğini oluşturunuz.

Tablo:



6) Atasoy'un bahçesinde 36 iğde, 12 dut, 30 badem, 48 ceviz ve 30 kestane ağacı vardır. Verilen bu bilgilere göre tabloyu ve sütun grafiğini oluşturunuz.

Tablo:



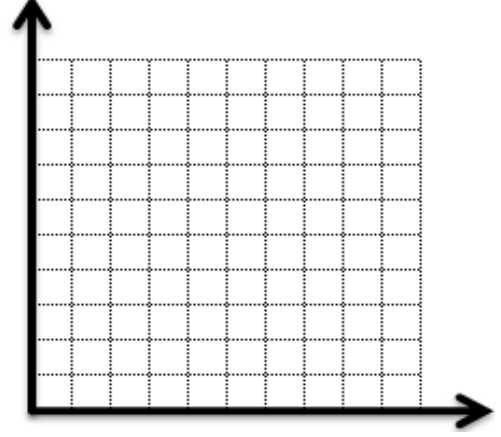
Adı:
Soyadı:
Sınıfı: No:

MATEMATİK DERSİ
SÜTUN GRAFİĞİ OLUŞTURMA



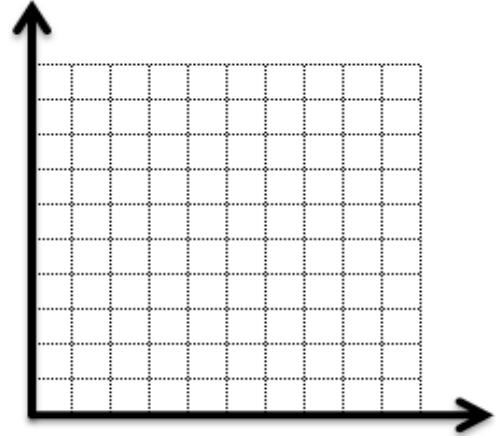
1) Öğrencilerden Enver bir günde 40 sayfa, Sevilay 36 , Yasemin 16 , Kader 24 ve Birgül 36 sayfa kitap okuyor. Verilen bu bilgilere göre tabloyu ve sütun grafiğini oluşturunuz.

Tablo:



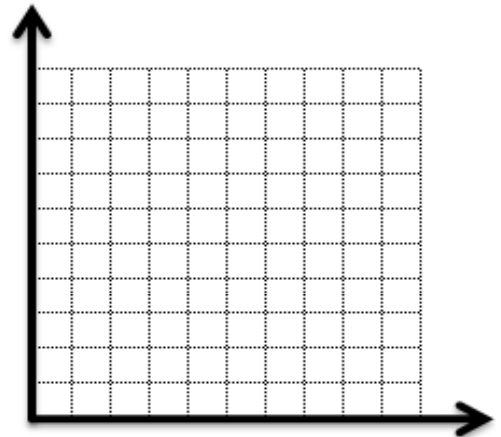
2) Matematik dersinden Mercan bir günde 30 tane, Meltem 25, Güral 40, Ege 35 ve Ülkü 45 tane problem çözüyor. Verilen bu bilgilere göre tabloyu ve sütun grafiğini oluşturunuz.

Tablo:



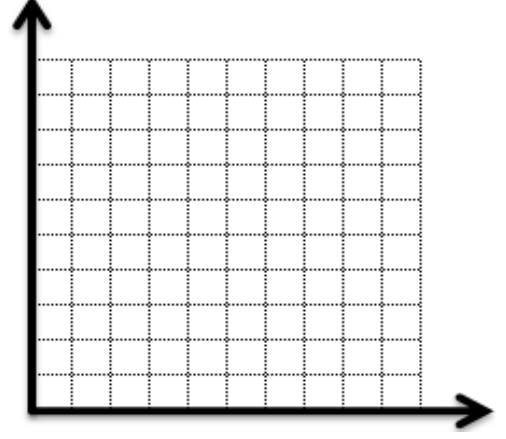
3) Bir mağazada bir günde 18 tişört, 14 gömlek, 10 pantolon, 20 ceket ve 16 etek satılmıştır. Verilen bu bilgilere göre tabloyu ve sütun grafiğini oluşturunuz.

Tablo:



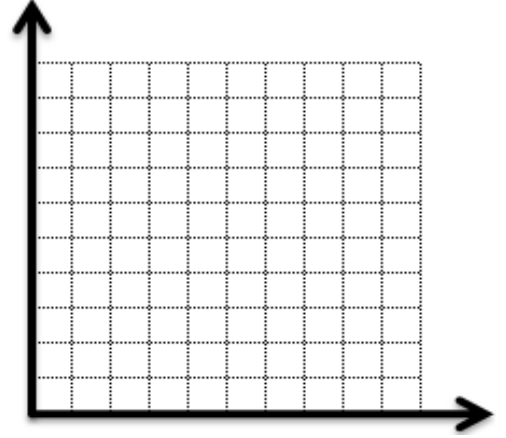
4) Çiftlikteki bir inekten pazartesi günü 28 litre, salı 24 litre, çarşamba 24 litre, perşembe 20 litre ve cuma günü 24 litre süt alınıyor. Verilen bu bilgilere göre tabloyu ve sütun grafiğini oluşturunuz.

Tablo:



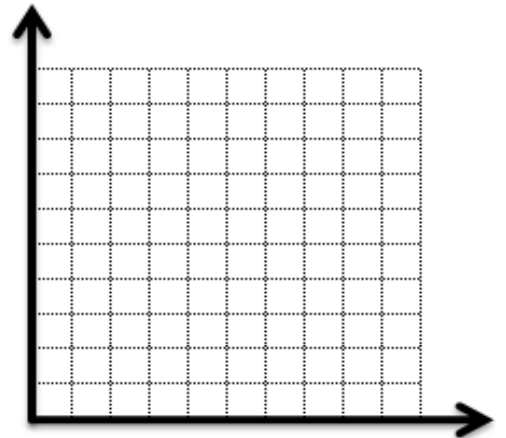
5) Kümesteki tavuklardan pazartesi günü 42, salı 48 , çarşamba 60, perşembe 42 ve cuma günü 36 tane yumurta alınıyor. Verilen bu bilgilere göre tabloyu ve sütun grafiğini oluşturunuz.

Tablo:



6) Bir kırtasiyede pazartesi günü 35, salı 45, çarşamba 35, perşembe 40 ve cuma günü 20 tane kitap satılıyor. Verilen bu bilgilere göre tabloyu ve sütun grafiğini oluşturunuz.

Tablo:



Adı:
Soyadı:
Sınıfı: No:

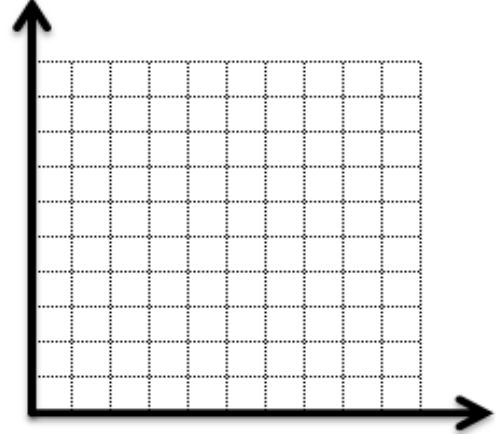
MATEMATİK DERSİ

SÜTUN GRAFIĞI OLUŞTURMA



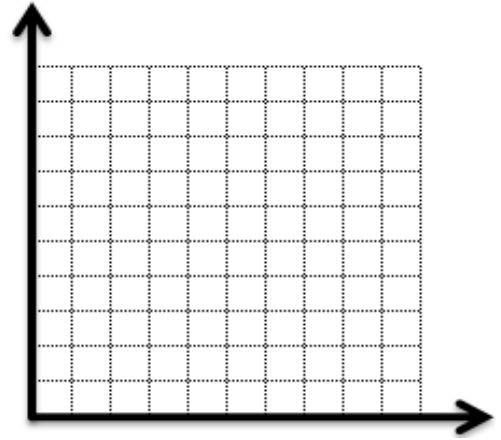
1) Bir mağazada bir günde 21 tişört, 18 gömlek, 24 pantolon, 18 ceket ve 9 etek satılmıştır. Verilen bu bilgilere göre tabloyu ve sütun grafiğini oluşturunuz.

Tablo:



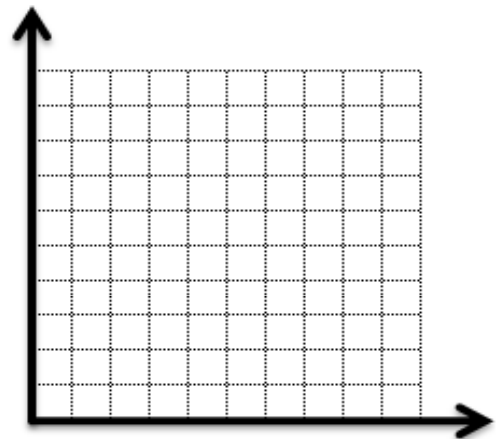
2) Bayar'ın bahçesinde 12 ığde, 60 dut, 42 badem, 18 ceviz ve 30 kestane ağacı vardır. Verilen bu bilgilere göre tabloyu ve sütun grafiğini oluşturunuz.

Tablo:



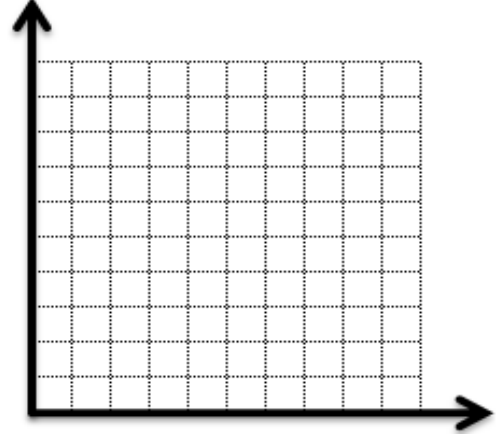
3) Bir çiçekçide bir haftada 10 orkide, 25 karanfil, 40 menekşe, 15 gül ve 40 tane lale satılmaktadır. Verilen bu bilgilere göre tabloyu ve sütun grafiğini oluşturunuz.

Tablo:



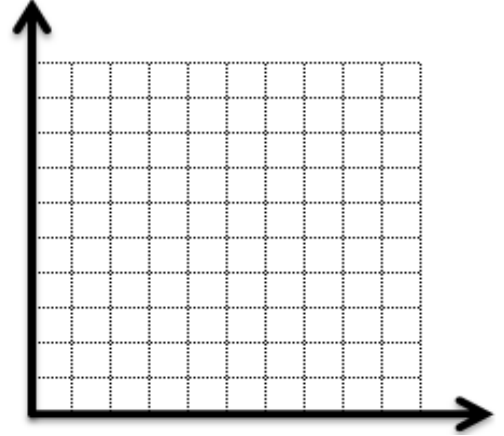
4) Bir otomobil fabrikasında bir haftada 10 beyaz, 25 kırmızı, 40 mavi, 50 sarı ve 25 yeşil otomobil üretilmektedir. Verilen bu bilgilere göre tabloyu ve sütun grafiğini oluşturunuz.

Tablo:



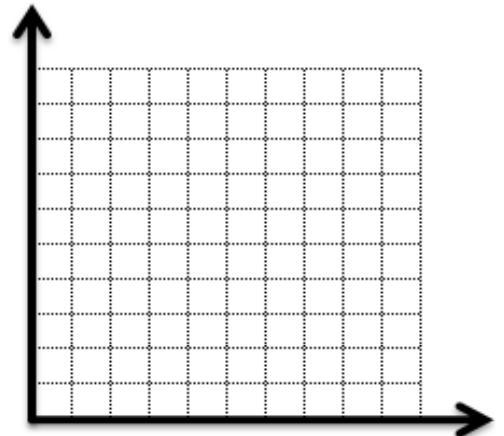
5) Bir sinemaya pazartesi günü 400, salı 500, çarşamba 800, perşembe 700 ve cuma günü 900 seyirci gitmiştir. Verilen bu bilgilere göre tabloyu ve sütun grafiğini oluşturunuz.

Tablo:



6) Tiyatro gösterisini pazartesi günü 250, salı 400, çarşamba 450, perşembe 300 ve cuma günü 100 kişi izlemiştir. Verilen bu bilgilere göre tabloyu ve sütun grafiğini oluşturunuz.

Tablo:



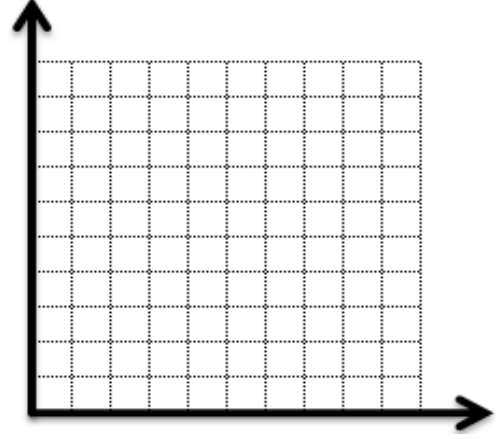
Adı:
Soyadı:
Sınıfı: No:

MATEMATİK DERSİ
SÜTUN GRAFİĞİ OLUŞTURMA



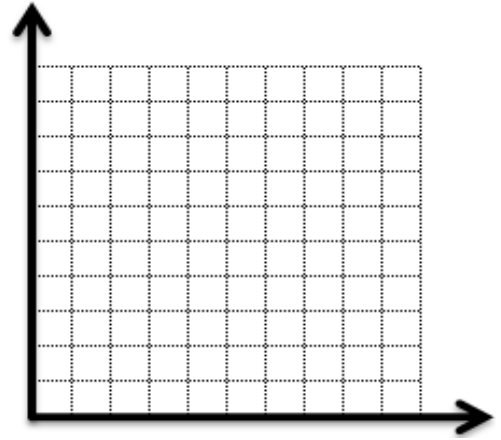
1) Öğrencilerden Beril bir günde 36 sayfa, Cenk 72, Bergüzar 36, Ramazan 63 ve Cengiz 36 sayfa kitap okuyor. Verilen bu bilgilere göre tabloyu ve sütun grafiğini oluşturunuz.

Tablo:



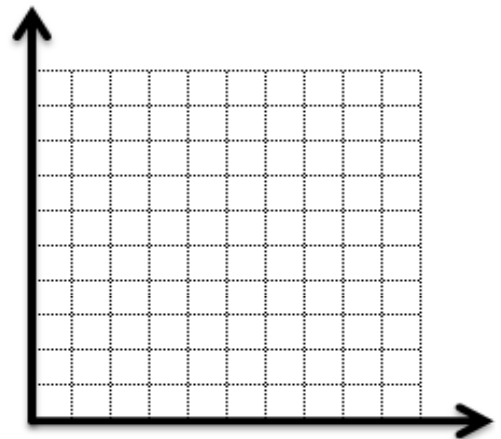
2) Cem'in bahçesinde 64 ığde, 16 dut, 64 badem, 72 ceviz ve 80 kestane ağacı vardır. Verilen bu bilgilere göre tabloyu ve sütun grafiğini oluşturunuz.

Tablo:



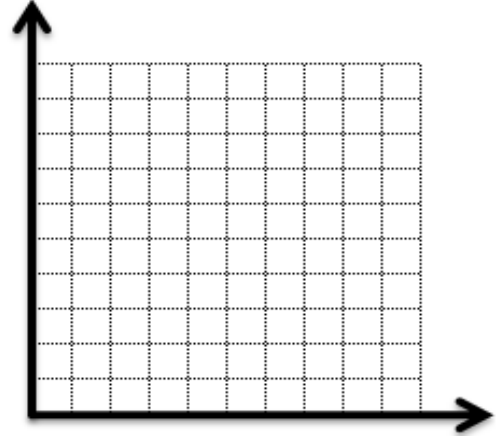
3) Türkçe dersinden Cahit bir günde 12, Dağhan 18, Haluk 21, Eren 30 ve Behin 15 tane test çözüyor. Verilen bu bilgilere göre tabloyu ve sütun grafiğini oluşturunuz.

Tablo:



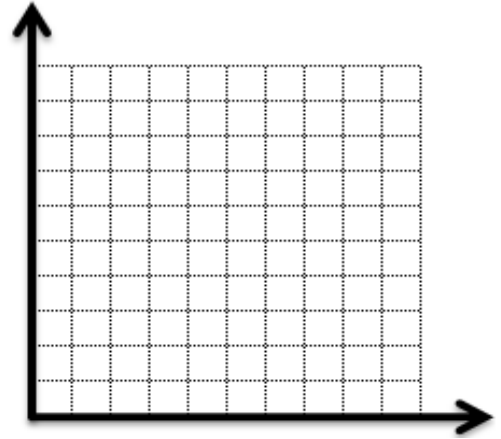
4) Bir mağazada bir günde 6 tişört, 30 gömlek, 12 pantolon, 18 ceket ve 27 etek satılmıştır. Verilen bu bilgilere göre tabloyu ve sütun grafiğini oluşturunuz.

Tablo:



5) Bir otomobil fabrikasında bir haftada 72 beyaz, 36 kırmızı, 54 mavi, 90 sarı ve 18 yeşil otomobil üretilmektedir. Verilen bu bilgilere göre tabloyu ve sütun grafiğini oluşturunuz.

Tablo:



6) Bir çiçekçide bir haftada 60 orkide, 40 karanfil, 100 menekşe, 20 gül ve 70 tane lale satılmaktadır. Verilen bu bilgilere göre tabloyu ve sütun grafiğini oluşturunuz.

Tablo:

